

ሕብረተሰብ ትምህርት

የሰባተኛ ክፍል የተማሪዎች መጽሐፍ

አዘጋጆች :

ጀማል ሙስጠፋ (M.Ed.)

ነጋሽ ሄቦ (M.A.)

ነጌሶ እስሞ (M.Sc.)

አርታኪዎች:

በላቸዉ አበራ (M.A)

ግርማ ፀጋየ (M.Ed.)

ገምጋሚዎች:

በቀለ ቀነአ

አበራ ከበበዉ

ፍቃዱ ከበደ

ቤኪ ቶሎሣ

ተርጓሚዎች:

በቀለ ቀነአ

ቤኪ ቶሎሣ

አበራ ከበበዉ

ከተማ ፀጋ

ዘዉዴ ረጋሣ

ግራፊክስ:

ታደሰ ድንቁ



© የክሊሮሚያ ትምህርት ቢሮ፣ 2014/2021

ይህ መጽሐፍ በክሊሮሚያ ትምህርት ቢሮና በሮቤ መምህራን ትምህርት ኮሌጅ ትብብር በ2014/2021 ተዘጋጀ።

የዚህ መጽሐፍ የባለቤትነት መብት በህግ የተጠበቀ ነው።
ክሊሮሚያ ትምህርት ቢሮ ፈቃድ ውጪ በሙሉም ሆነ በክፍል
ማሳተፍም ሆነ አባዝተው ማሰራጨት በህግ ያስጠይቃል።

ምዕራፍ 1 1

የመሬት አፈጣጠር 1

1.1 የስርዓተ ፀሀይና የመሬት አፈጣጠር.....2

1.2 የላይኛው የመሬት አካል ይዘቶችና ውስጣዊው የመሬት መዋቅሮች..... 10

1.3. ቅርፊተ መሬት የተሠራባቸው ነገሮች 16

1.4. የአለቶች ሥርጭትና በኢትዮጵያ ኢኮኖሚ20

ውስጥ ያላቸው ጠቀሜታ.....20

ምዕራፍ 2..... 26

ዝግመታዊ የሰው ልጅ ለውጥና የዓለም ህዝብ..... 26

2.1 የሰው ልጅ ዝግመታዊ ለውጥ28

2.2 የዓለም ህዝብ.....31

2.3 የመንገድ ዕድገት ፅንሰ ሀሳብ.....49

ምዕራፍ 3..... 61

ሰውና የተፈጥሮ ሀብት 61

3.1 በሰውና ተፈጥሮ አካባቢ መካከል ያለው ግንኙነት62

3.2 የተፈጥሮ ሀብት ዓይነቶች.....64

ምዕራፍ 4..... 69

ቀደምት የአለም ስልጣኔ ከጥንት እስከ መካከለኛው ክፍለ ዘመን..... 69

4.1.ጥንታዊ የአለም ስልጣኔ.....70

4.2. የመካከለኛው ክፍለ ዘመን የአለም ታሪክ.....86

ምዕራፍ 5..... 97

ጥንታዊ የአፍሪካ ታሪክ..... 97

5.1 ጥንታዊ የግብፅ ስልጣኔ98

5.2 ጥንታዊ የኑቢያ ስልጣኔ..... 103

5.3 ጥንታዊ የሜሮኬ ስልጣኔ.....	106
ምዕራፍ 6.....	112
ጥንታዊና የመካከለኛው ዘመን የኢትዮጵያ መንግሥታትና ህዝቦች ታሪክ.	112
6.1. ጥንታዊ የኢትዮጵያ መንግሥት.....	113
6.2 የኢትዮጵያ መሰሪያ ሰልጣኔቶች.....	123
6.3 የህዝቦች ግንኙነት፣ ትስስር እና እንቅስቃሴ.....	126
6.4. የኢትዮጵያ ምጣኔ ሀብታዊ እንቅስቃሴዎች.....	134
(ግብርና፣ ንግድ እና ግብር).....	134
ምዕራፍ 7.....	140
ትኩረት የሚሹ ወቅታዊ የዓለም ጉዳዮች.....	140
7.1. የምንኖርበት አካባቢ.....	141
7.2. የህዝብ ቁጥር መጨመር.....	148
7.3. ሽብርተኝነት.....	149
7.4. ህገ-ወጥ የሰዎች ዝውውር.....	150

ምዕራፍ 1

የመሬት አፈጣጠር

ከምዕራፉ ትምህርት የሚጠበቁ ውጤቶች፡

- የመሬትና የስርዓተ ፀሀይን አፈጣጠር ትገልጻለህ/ሽ
- አራቱ የመሬት ይዘቶችና ግንኙነታቸውን ትገልጻለህ/ሽ
- የመሬት ንብርብሮችና ባህሪያቸውን ትገልጻለህ/ሽ
- ስለመሬት ውስጣዊ ሁኔታ የሚያስረዱ ቀጥተኛና ቀጥተኛ ያልሆኑ የመረጃ ምንጮችን ትለያለህ/ሽ
- ቅርፊተ መሬት የተሰራባቸውን ንጥረ ነገሮች፣ ማዕድናትና አለቶችን ትለያለህ/ሽ
- በኢትዮጵያ የአለቶች ስርጭትና በኢኮኖሚ ውስጥ ያላቸው ጠቀሜታ ትገነዘባለህ/ሽ

መግቢያ

በ5ኛና በ6ኛ ክፍሎች የአካባቢ ሳይንስ ትምህርት ውስጥ ስለ ኦሮሚያና ኢትዮጵያ ህዝቦች አስፋፈርና መገኛ በስፋት ተምራችኋል። በዚህ ምዕራፍ ትምህርት ውስጥ ደግሞ ስለ ሥርዓተ ፀሀይ አፈጣጠር፣ የመሬት አፈጣጠር፣ የሥርዓተ ፀሀይ ክፍሎች፣ ፕላኔቶች፣ ላይኛውና ውስጣዊ የመሬት ክፍል አወቃቀር፣ የአለቶች ስርጭትና በኢትዮጵያ ኢኮኖሚ ላይ ያላቸውን ጠቀሜታ ትማራለህ/ሽ።

ተማሪዎች ቢያንስ ልደርሱበት የሚገቡ የመማር ብቃቶች

የሰባተኛ ክፍል ሕብረተሰብ ትምህርት የተማሪዎች መጽሐፍ

- የመሬት አፈጣጠር ሁኔታና ሥርዓተ ፀሀይን ትለያለህ/ሽ
- በላይኛው የመሬት ክፍል የሚገኙትን ሊቶስፌር፣ ባዮስፌር፣ ሀይድሮስፌርና አትሞስፌር ትለያለህ/ሽ
- የተለያዩ የመሬት ንብርብሮች የተሰሩባቸውን ንጥረ ነገሮችን ትለያለህ/ሽ
- ከውጫዊ የመሬት ክፍል ወደ እምብርተ መሬት ሲኬድ ያለው የሙቀት፣ ግፊት፣ ክብደትና ንጥረ ነገሮች ልዩነት ትገመግማለህ/ሽ
- የላይኛው የመሬት ክፍል የተሰሩባቸውን ዋና ዋና ማዕድናት፣ ንጥረ ነገሮችና አለቶች ትለያለህ/ሽ
- በኢትዮጵያ የአለቶች ስርጭትና ኢኮኖሚ ውስጥ ያላቸውን ጠቀሜታ ትገልጻለህ/ሽ።

1.1 የስርዓተ ፀሀይና የመሬት አፈጣጠር


የግምገማ ጥያቄዎች

1. ስለ ስርዓተ ፀሀይ ምን ታውቃለህ/ሽ?
2. በስርዓተ ፀሀይ ውስጥ የሚገኙትን አካላት ግለፅ/ጩ።
3. በስርዓተ ፀሀይ ውስጥ የሚገኙትን ፕላኔቶች ዘርዘር/ሪ።

እንደ ዘመናዊው ሳይንስ መነሻ ሀሳብ ስርዓተ ፀሀይ የተፈጠረው በጋዞች፣ በደመናና በተለያዩ ብናኝ አቧራ ኡደት አማካይነት መሆኑ ይገለጻል። በዚህ ኡደት ውስጥ ውጫዊው አካል ቀስ በቀስ ወደ ፕላኔቶች ሲቀየር ውስጣዊው በጣም የተጠጋጋውና ሞቃታማው አካል ደግሞ ወደ ፀሀይ ተቀይሯል ተብሎ ይታመናል። ፀሀይ በስርዓተ ፀሀይ እምብርት ውስጥ ትገኛለች። የስርዓተ ፀሀይ እድሜ 4.6 ቢሊዮን አመታት ይሆናል ተብሎ ይገመታል።

የሰባተኛ ክፍል ሕብረተሰብ ትምህርት የተማሪዎች መጽሐፍ

በስርዓተ ፀሀይ ውስጥ ዘጠኝ ፕላኔቶች በራሳቸው መሀዋር ላይ ፀሀይን ይዞራሉ። ፕላኔቶች ከፀሀይ ባላቸው ርቀት አማካይነት ከቅርብ ወደ ሩቅ ስንዘረዝራቸው፣ ሜርኩሪ፣ ቬኑስ፣ መሬት፣ ማርስ፣ ጁፒተር፣ ሳተርን፣ ዩራኑስ፣ ኔፕቱንና ፕሉቶ ናቸው። ሌሎች በስርዓተ ፀሀይ ውስጥ የሚገኙ ነገሮች ደግሞ ሳትላይቶች፣ አስትሮይዶች፣ ኮሜቶች፣ ሜትዮሮችና የመሳሰሉት ናቸው። ሳትላይቶች በስርዓተ ፀሀይ ውስጥ ፕላኔቶችን የሚዞሩ ሲሆኑ ኮሜቶች፣ አስትሮይዶችና ሜትዮሮች ፀሀይ የሚዞሩ አካላት ናቸው።



ስዕል 1.1 ሥርዓተ - ፀሐይ

ፀሀይ

የግምገማ ጥያቄዎች

1. ፀሀይ ምንድናት? እንዴትስ ተፈጠረች?
2. በፀሀይና መሬት መካከል ያለው ርቀት በኪሎሜትር ስንት ይሆናል?
3. ከወስጣዊውና ውጫዊው የፀሀይ አካል ይበልጥ የሚሞቀው የትኛው ነው?

በስርዓተ ፀሀይ ውስጥ ካሉት አካላት ፀሀይ በጣም ጠቃሚ ናት። ምክንያቱም ፀሀይ ሙቀትና ብርሃን የሚትሰጥ በመሆኑ ነው። ፀሀይ ባትኖር ኑሮ ህይወት ያላቸው ነገሮች በሙሉ መሬት ላይ መኖር አይችሉም ነበር። ከስርዓተ ፀሀይ ውስጥ ፀሐይ በጣም ግዙፍ ናት። ይህም 99.86 % ትሆናለች። ፀሀይ ካሉት ክዋክብቶች ሁሉ ለመሬት በጣም ቀርባ የምትገኝ ስትሆን ከመሬት 150,000,000 ኪሎ ሜትር ያህል ርቃ ትገኛለች። ከፀሀይ ቀጥሎ ለመሬት ቀርባ የምትገኘው ክዋክብት አልፋቬንቸሪ ትባላለች። የፀሀይ ጨረር መሬት ለመድረስ 8 ደቂቃ ያህል ይወስድበታል።

ፀሀይ በውጫዊ አካሏ 6,000°C ያህል ሙቀት የምታመነጭ ስትሆን በውስጣዊው አካሏ ደግሞ 13,000°C ያህል ታመነጫለች። ከፀሐይ ውጪ ሌሎች ክዋክብቶች ሌሊት ሌሊት የሚታዩ ሲሆን ቀን ቀን ደግሞ አይታዩም። ምክንያቱም ከሌሎች ክዋክብቶች የበለጠ ፀሐይ ለመሬት ስለምትቀርብ ለመሬት የምታመነጨው /የምትሰጠው/ ጨረር ከሌሎች የበለጠ ነው።

ፕላኔቶች

የግምገማ ጥያቄዎች

1. ፕላኔት ማለት ምን ማለት ነው?
2. ፕላኔቶች ከከዋክብቶች በምን ይለያሉ?
3. ህይወት ያላቸው ነገሮች የሚኖሩት በየኛው ፕላኔት ላይ ነው? ለምን?
4. ፕላኔቶች ሚዛናቸን ጠብቀው በቅደም ተከተል ፀሀይን እንዲዞሩ የሚረዳቸው ምንድነው?

ፕላኔቶች በስርዓተ ፀሐይ ውስጥ ፀሀይን የሚዞሩ ናቸው። ሁሉም ፕላኔቶች ከፀሀይ በተለያዩ ርቀት ላይ የሚገኙ ሲሆን የራሳቸው ምህዋር አላቸው። ምህዋር ማለት ክብ የእንቁላል ቅርፅ ያለው ፕላኔቶች ፀሀይን የሚዞሩበት የሃሳብ መስመር ወይም መንገድ ነው። በተጨማሪም ምህዋሮች የማይነካኩ ወይም የማይገናኙ ናቸው። ፀሀይ የራስዋ የስበት ሀይል ስላላት ፕላኔቶችን ወደራሷ ትስባለች። ይህ የወደ ውስጥ ስበት/centripetal force/ ይባላል። በተቃራኒው ፕላኔቶችን እርስ በእርስ ወደ ውጭ የመሳሳብ ሀይል አላቸው። ይህ ሀይል የወደ ውጪ ሀይል /centrifugal force/ ይባላል። እነዚህ ሁለቱ የተቃራኒ አቅጣጫ ሀይሎች እርስ በራሳቸው ተመጣጣኝ ስለሆኑ ፕላኔቶች ምህዋራቸውን ሳይለቁ ፀሀይን እንዲዞሩ ይረዳቸዋል። ፕላኔቶች የራሳቸው የሆነ ብርሃን የላቸውም። ይሁን እንጂ ከፀሐይ የሚያገኙትን ብርሃን ማንፀባረቅ ይችላሉ።

ከፕላኔቶች ውስጥ ከአጥብያ ኮከብ(ቬነስ) በስተቀር ሌሎቹን በዓይን ብቻ ማየት አይቻልም። ፕላኔቶችን ከከዋክብቶች ለይቶ ለማየት የምንጠቀምበት መሳሪያ ቴሌስኮፕ ይባላል። ከሜርኩሪና ከአጥብያ ኮከብ(ቬነስ) በስተቀር ሌሎች ፕላኔቶች የራሳቸው ጨረቃ አላቸው። ሳተርን ብዙ ጨረቃዎች ያላት ፕላኔት ስትሆን እኛ የምንኖርባት መሬት አንድ ጨረቃ ብቻ አላት።

የሰባተኛ ክፍል ሕብረተሰብ ትምህርት የተማሪዎች መጽሐፍ

ሠንጠረዥ 1.1. የፕላኔቶች መረጃ

መስፈርቶች	ፕላኔቶች								
	ሜርኩሪ	ቪነስ	መሬት	ማርስ	ጁፕተር	ሳተርን	ኡራኑስ	ኔፕቶን	ፑሉቶ
ከፀሃይ ያላቸው ርቀት ኪ.ሜ(10 ⁶)	57.9	108.2	150	227.9	778.3	1,427	2,869	4,496	5,900
በምህዋር ላይ	ቀን	224							
	ዓመት		1	1.9	11	29.5	84	164.8	247.7
በዘቢያ ላይ	ቀን	243							6
	ሰዓት		23	24	9	10	11	16	
	ደቂቃ		56	37	50	14			
ዲያሜትር(የምድር ወገብ) በኪ.ሜ	4,878	12,104	12,756	6,787	142,800	120,000	51,800	49,500	3,000
የጨረቃ ብዛት	0	0	1	2	16	20	15	2	1
ከባቢ አየር	He	CO ₂	N ₂ ,O ₂	CO ₂	He,H ₂	He,H ₂	He,H ₂ , CH ₄	He,H ₂ , CH ₄	-
ከፍተኛው ሙቀት በ °C	430	480	60	30	-140	-17	-220	-215	-220

**የመሬት አፈጣጠር
የግምገማ ጥያቄዎች**

1. የመሬት አፈጣጠር ከሥርዓተ ፀሐይ አፈጣጠር ጋር ይመሳሰላል?
እንዴት?
2. የመሬት ቅርፅ ምን ይመስላል? የሚታወቅበት መረጃዎች
ምንድናቸው?
3. የመሬት እንቅስቃሴዎች ስንት ናቸው? ምን ምን ናቸው?

የመሬት አፈጣጠር ከሥርዓተ ፀሐይ አፈጣጠር ጋር ተመሳሳይነት አለው።

የመሬት ዕድሜ ከሥርዓተ ፀሐይ ጋር ተመሳሳይ ነው። መሬት ፀሐይን ከሚዘሩ ፕላኔቶች ዉስጥ አንዷ ናት። በድሮ ጊዜ ሰዎች መሬት ጠፍጣፋ እንደሆነች ያስቡ ነበር።



ሥዕል 1.2 መሬት

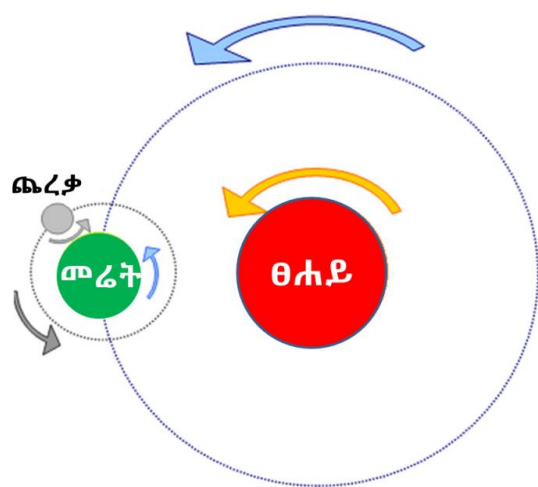
ከጊዜ በኋላ ግን የተደረጉት ጥናትና ምርምሮች መሬት ክብ ወይም እንቁላል መስል ሞላላ ቅርፅ ያላት መሆኑን አረጋግጠዋል። ይህን የመሬት ቅርፅ ካረጋገጡት ምሁራን ውስጥ ፓይታጎረስ፣ ፕላቶና አርስቶትል ዋናቹ ናቸው። የመሬት ቅርፅ ክብ መሆኗን የሚያመለክቱ ማስረጃዎች፤

- የፀሐይ መውጣትና መጥለቅ

የሰባተኛ ክፍል ሕብረተሰብ ትምህርት የተማሪዎች መጽሐፍ

- የመሬት ጥላ በጨረቃ ገፅታ ላይ መታየት፤
- ከሰማይ የተነሳ የመሬት ፎቶ፤
- አንድ ሰው ከአንድ ቦታ ተነስቶ ወደ ኋላ ሳይመለስ ከጊዜ በኋላ የተነሳበት ቦታ መመለስ፤
- ሁለት መርከቦች ተከታትለው ሲጓዙ እየተራራቁ ሲሄዱ እርስ በራሳቸው አለመተያየት።

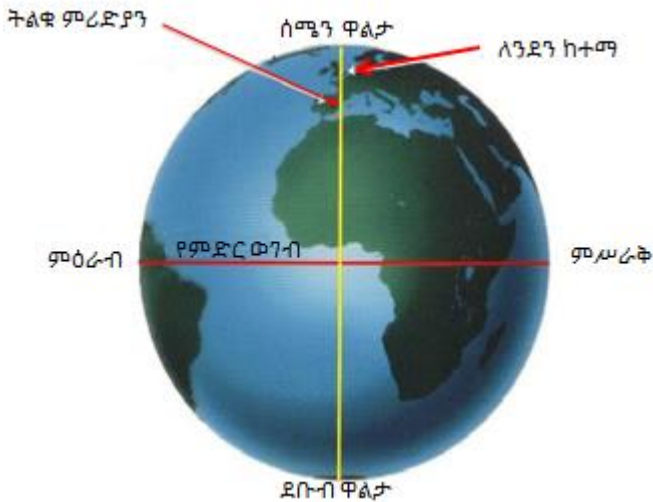
አብዛኛቹ ፕላኔቶች በምግባራቸው ላይ ፀሐይን ከምዕራብ ወደ ምሥራቅ ይዞራሉ። መሬት በራሷ ዛቢያ ላይ አንድ ጊዜ ዞራ ለመጨረስ 23 ሰዓት ከ56 ደቂቃ /አንድ ቀን/ ይፈጅበታል። መሬት በራሷ ዛቢያ የምታደርገው እንቅስቃሴ የመሬት መሽከርከር ይባላል። መሬት በራሷ ዛቢያ ላይ በሚታደርገው እንቅስቃሴ ቀንና ሌሊት ይፈጠራል። መሬት አንድ ጊዜ በምግባሯ ላይ ፀሐይን ዞራ ለመጨረስ $365\frac{1}{4}$ ቀናቶች ይወስድባታል። ይህ እንቅስቃሴ የመሬት በፀሐይ ዙሪያ መዞር ይባላል። መሬት በፀሐይ ዙሪያ በምታደርገው እንቅስቃሴ የወቅቶች መፈራረቅ እንዲሁም የቀንና የሌሊት ሪዝማኔ ልዩነት ይፈጠራል።



ሥዕል 1.3 የመሬት እንቅስቃሴዎች

የሰባተኛ ክፍል ሕብረተሰብ ትምህርት የተማሪዎች መጽሐፍ

የመሬት መጠን ዙሪያ 40000 ኪሎ ሜትር መሆኑ ተረጋግጧል። ትልቁ የሃሳብ መስመር መሬትን ሰንጠቆ የሰሜንና የደቡብ ዋልታዎችን የሚያገናኝ ትልቁ ሜሪዲያን የሚባል ሲሆን መሬትን ወደ ምስራቅና ምዕራብ ንፍቀ ክብብ ይከፍላል። የዚህ ሃሳብ መስመር ርዝመት 12640 ኪ.ሜ. ይሆናል። በሌላ በኩል ደግሞ ከምስራቅ ወደ ምዕራብ መሬትን እኩል የሚከፍል የሃሳብ መስመር የምድር ወገብ ይባላል። ይህ የሃሳብ መስመር መሬትን ወደ ሰሜንና ደቡብ ንፍቀ ክብብ ይከፍላል። የዚህ ሃሳብ መስመር ርዝመት 12756 ኪ.ሜ. ይሆናል። የትልቁ ሜሪዲያንና የምድር ወገብ ርዝመት እኩል አለመሆናቸው መሬት ትክክለኛ ክብ አለመሆኑን ያረጋግጣል።



ሥዕል 1.4 የምድር ወገብና ትልቁ ሜሪዲያን የሃሳብ መስመሮች

የተግባር ጥያቄዎች

1. የሥርዓተ ፀሐይን ሥዕል በማዘጋጀት የፕላኔቶችን ስም ጻፍ/ፊ። በተጨማሪም ስለፕላኔቶቹ የምታውቀውን/ቁውን ጻፍ/ፊ።
2. በወረቀት ላይ የመሬትን ቅርፅና የትልቁ ሜሪዲያን እንዲሁም የምድር ወገብ የሃሳብ መስመሮችን በማንሳት ያላቸውን የርዝመት

ልዩነት ለክፍል ተማሪዎችህ/ሽ አብራራ/ሪ።

መልመጃ 1.1

ለሚከተሉት ጥያቄዎች አጫጭር መልስ ሰጥ/ጪ

1. የሥርዓተ ፀሐይን አፈጣጠር አብራራ/ሪ። ለምን ሥርዓተ ፀሐይ ተባለ?
2. ከፀሐይ ባላቸው ርቀት መሰረት ዘጠኙን ኘላኔቶች በቅደም ተከተላቸው ከሩቅ ወደ ቅርብ ዘርዝር/ሪ።
3. ስለ ኘላኔታችን በአጭሩ አብራራ/ሪ።
4. መሬት ክብ መሆኗን ከሚያረጋግጡ መረጃዎች ውስጥ ሶስቱን ጥቀስ/ሽ።
5. መሬት ፀሐይን አንድ ጊዜ ዙሪያ ለመጨረስ የሚወስድባት ጊዜ ምን ያህል ይሆናል? በዚህ ምክንያት የሚፈጠሩ ክስተቶች ምን ምን ናቸው?

1.2 የላይኛው የመሬት አካል ይዘቶችና ውስጣዊው የመሬት መዋቅሮች

1.2.1. የላይኛው የመሬት አካል ይዘቶች

የግምገማ ጥያቄዎች

1. በላይኛው የመሬት አካል ላይ የሚገኙ ነገሮችን ምን ምን ናቸው? ዘርዝር/ሪ።
2. ለሚከተሉት ቃላቶች ፍቺ ስጥ/ጪ
ከባቢ አየር፣ ሊቶስፌር፣ ባዮስፌርና ሃይድሮስፌር
3. በአብዛኛው ከባቢ አየር ውስጥ የሚገኙ ጋሶችን ዘርዝር/ሪ።
ውጫዊው የመሬት ክፍል በአራት ዋና ዋና አካላት ይመደባል።

እነዚህንም አካላት ቀጥሎ ከተሰጠው ዲያግራም ተመልከት/ቺ።



ሥ ዕል 1.5 የላይኛው የመሬት አካል ይዘቶች

ሀ. ሊ ቶ ስፊር

ይህ የላይኛው ደረቁ የመሬት ክፍል ሲሆን አህጉራትንና በባህር እንዲሁም በውቅያኖስ ሥር የሚገኙ አለቶችን ያጠቃልላል።

ለ. ሃይድሮስፊር

ሃይድሮስፊር ዉሃማ የመሬት አካል ሲሆን በመሬት ገፅ ላይ የሚገኙ እንደ ባህሮች ውቅያኖሶች ሐይቆችና ወንዞች ናቸው።

ሐ. ከባቢ አየር

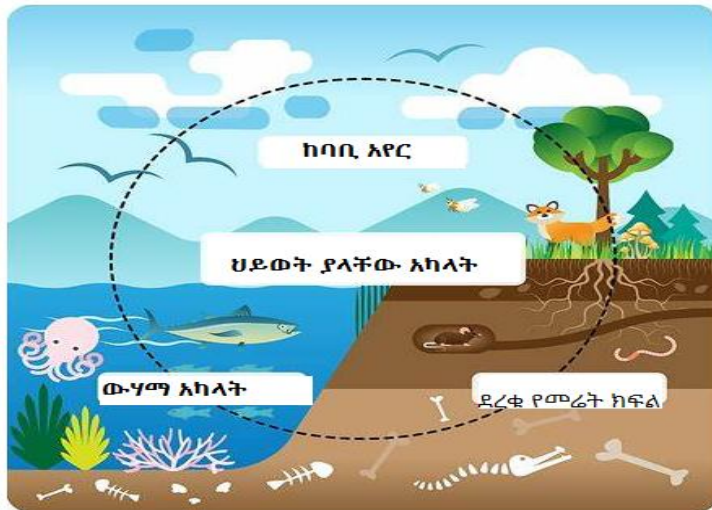
ከባቢ አየር የብዙ አይነት ጋዞች ፣ አቢራና የውሃ ትነት ጥርቅም ሆኖ

የሰባተኛ ክፍል ሕብረተሰብ ትምህርት የተማሪዎች መጽሐፍ

መሬትን እንደ ብርድልብስ ሸፍኖ የሚገኝ ነው። በብዛት ከባቢ አየር ውስጥ የሚገኙ ጋዞች ናይትሮጅን፣ ኦክስጅን፣ ኦርጎንና ካርቦንዳይ ኦክሳይድ ናቸው።

መ. ባዮስፌር

በላይኛው የመሬት አካል ላይ ያሉት ህይወት ያላቸው አካላት ሁሉ አንድ ላይ ባዮስፌር ይባላሉ። ባዮስፌር በአይን የማይታዩ ከጥቃቅን ነፍሳቶች ጀምሮ እስከ ትላልቅ እንስሳትና ዕዕዋትን ያጠቃልላል። እነሱም የሚገኙት በአየር፣ በውሃና በየብስ ውስጥ ነው።



ሥዕል 1.6 የላይኛው የመሬት አካል ይዘቶች

1.2.2. የመሬት መረጃና ውስጣዊ መዋቅሮች

1.2.2.1 የመሬት ውስጣዊ አካል መረጃ ምንጮች

የግምገማ ጥያቄዎች

የመሬት ውስጣዊ አካል መረጃ ምንጮች ምንድናቸው?

የመሬት ውስጣዊ አካል መረጃ ምንጮች በስንት ይከፈላሉ?

ስለ ውስጣዊው የመሬት አካል ለማወቅ አስቸጋሪ ነው። ይሁን እንጂ ሳይንስና ቴክኖሎጂ ከጊዜ ወደ ጊዜ እየተሻሻለ ስለ መጣ በአሁኑ ጊዜ ስለ ውስጣዊው የመሬት አካል ማወቅ ተቻሏል። ስለ ውስጣዊው የመሬት አካል ለማወቅ የሚጠቀሙን የመረጃ ምንጮች በሁለት ይከፈላሉ።

ሀ. ቀጥተኛ ዘዴዎች፤ ቀጥተኛ ዘዴዎች የሚባሉት እንደ እሳተ ገሞራ ፍንዳታ፤ ማዕድናትን ለማውጣት ወደ መሬት ውስጥ መቆፈርና የመሳሰሉት ናቸው።

ለ. ቀጥተኛ ያልሆኑ ዘዴዎች፤ ቀጥተኛ ያልሆኑ ዘዴዎች የሚባሉት ደግሞ አፈጣጠራቸው ከመሬት ጋር ግንኙነት ያላቸውን አካላት እንደ ጨረቃ፤ ማርስና ሌሎች ላይ ጥናት በማድረግ ስለ መሬት መረጃ ማግኘትን ያጠቃልላል። መሬትን በመቆፈር ስለ ውስጣዊው የመሬት ክፍል የሚያጠነው ሳይንስ ጅኦሎጂ ይባላል።

1.2.2.2 ውስጣዊው የመሬት ንብርብሮች

የግምገማ ጥያቄዎች

1. ውስጣዊው የመሬት ንብርብሮች ማለት ምን ማለት ነው?

2. ውስጣዊው የመሬት ንብርብሮችን ዘርዘር/ሪ

ውስጣዊው የመሬት ንብርብሮች ማለት ካላይኛው የመሬት አካል አስከ ውስጣዊው የመሬት አካል ያለው ክፍፍል ማለት ነው። ውስጣዊውን የመሬት አካል በተለያዩ መመዘኛዎች መክፈል ይቻላል። ከእነዚህ መመዘኛዎች መካከል ውስጣዊው የመሬት አካል ባለው ይዘት፤ ጠጣርነት ወይም ፈሳሽነት ባህርይ አማካይነት በሶስት ይከፈላል። እነሱም፤

የሰባተኛ ክፍል ሕብረተሰብ ትምህርት የተማሪዎች መጽሐፍ

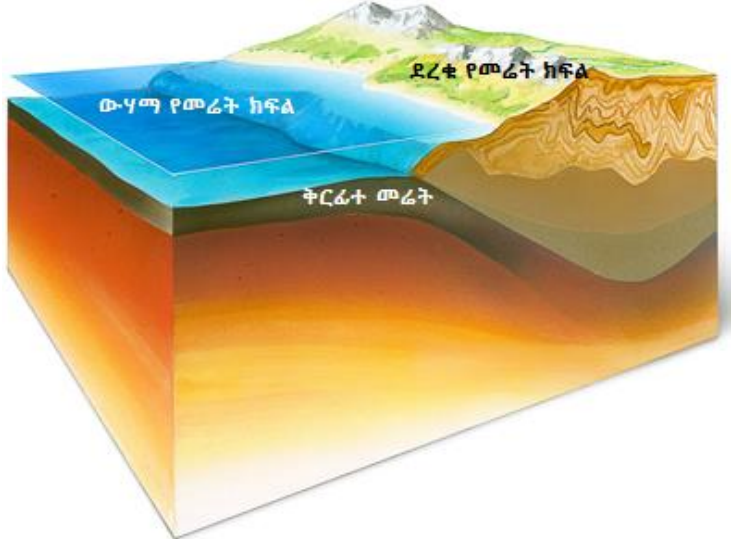
1. ቅርፊተ መሬት: ቅርፊተ መሬት የላይኛው የመሬት አካል ነው። የቅርፊተ መሬት ጥልቀት ከቦታ ቦታ ልዩነት አለው። ቅርፊተ መሬት ከ30- 40 ኪ.ሜ. ጥልቀት አለው።

ከፍተኛ ተራረዎች አካባቢ 40 ኪ.ሜ. ያለው ሲሆን በሰው ልጅ ዘንድ በጥሩ ሁኔታ የሚታወቅ ነው። ይህ የመሬት አካል የሰው ልጅም መኖሪያ ቦታ ነው።

እንደሁም በመሬት ውስጥና በላይኛው የመሬት ኃይሎች የሚቀያየር ንብርብር ነው። ቅርፊተ መሬት በሁለት ይከፈላል። እነሱም፤

ሀ. የየብስ ቅርፊተ መሬት፤ ይህ የመሬት ንብርብር ሲያል(sial) ሲልከንና አሎሚኒየም የተፈጠረ ሲሆን ክብደት የሌላቸው ወይም ቀላል ማዕድናት ናቸው።

ለ. የባህር ሥር ቅርፊተ መሬት፤ ይህ ንብርብር የተፈጠረው ሲማ/Sima (ሲ.ሊ.ከንና ማግኒዚየም) ከሚባሉት ማዕድናት ነው።



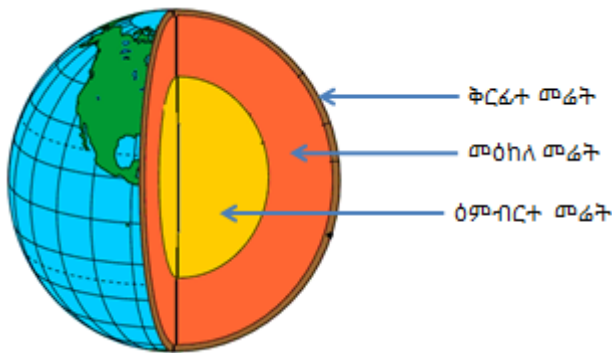
ሥዕል 1.7 ቅርፊተ መሬት

2. ማዕከለ መሬት፤ ይህ የመሬት ንብርብር በቅርፊተ መሬትና በእምብርተ መሬት መካከል ይገኛል። እንደ ጂኦሎጂስቶች ገለፃ የዚህ የመሬት ንብርብር ጥልቀት እስከ 2900 ኪ.ሜ. የሚድረስ ነው። የዚህ የመሬት ንብርብር ባህርይ፤ የላይኛው ክፍል ይዘት ፈሳሽም ጠንካራም ያልሆነና መካከለኛ ባህርይ ሲኖረው፤ የታችኛው ክፍል ግን ጠንካራ ነገሮችን በውስጡ የያዘ ስለሆነ የመጠንከር ባህርይ አለው።

3. እምብርተ መሬት፤ መካከለኛው ውስጣዊ የመሬት ንብርብር ሲሆን በአማካይ እስከ 3470 ኪ.ሜ. ጥልቀት አለው። እምብርተ መሬት በአብዛኛው ክብደት ያላቸው ማዕድናት እንደ ብረትና ኒኬል በውስጡ የያዘ ነው። እምብርተ መሬት በሁለት ይከፈላል። እነሱም፤

ሀ. ውጫዊው እምብርተ መሬት፤ የሚገኘውም በፈሳሽ መልክ ነው።

ለ. ውስጣዊው እምብርተ መሬት፤ ጠንካራው እምብርተ መሬት ክፍል ነው።



ሥዕል 1.8 የመሬት ንብርብሮች

መ ልመ ጃ 1.2

ለሚከተሉት ጥያቄዎች አጭር መልስ ስጥ/ጪ

1. ዋና ዋና የቅርፊተ መሬት ይዘቶችን ዘርዝር/ሪ።
2. ሃይድሮስፌርን በአጭሩ ግለፅ/ጪ።
3. ውስጣዊው የመሬት አካል መረጃ እንዴት ይገኛል?
4. እምብርተ መሬት በስንት ይከፈላል? ባህርያቸውን ግለፅ/ጪ።

1.3. ቅርፊተ መሬት የተሠራባቸው ነገሮች

ግምገማ ጥያቄዎች

1. ቅርፊተ መሬት የተሠራባቸው ንጥረ ነገሮች ምንድናቸው?
2. ማዕድናት ምንድናቸው?
3. ቅርፊተ መሬት የተሠራባቸው ማዕድናት ዘርዘር/ራ።
4. መሬት የተፈጠረችው ከየትኞቹ አለቶች ነው?.

ቅርፊተ መሬት የተሠራው ከአለቶች ነው። አለቶች ደግሞ የተሠሩት ከንጥረ ነገሮች ነው። ቅርፊተ መሬት የላይኛው የመሬት ክፍል ሲሆን ጠንካራው የመሬት ክፍል (ሊቶስፊር) ተብሎ ይጠራል። ይህ ቅርፊተ መሬት ያለው ጥልቀት ከቦታ ቦታ ይለያያል።

1.3.1 ቅርፊተ መሬት የተሠራባቸው ዋና ዋና ንጥረ ነገሮች

ቅርፊተ መሬት የተሠራው ከስምንት ትላልቅ ንጥረ ነገሮች ነው። እነሱም አክሲን፣ ሲልከን፣ አልሚኒየም፣ ብረት፣ ካልሲየም፣ ሶድየም ፖታሲየምና ማግኒዚየም ናቸው። የእነዚህን ንጥረ ነገሮች ዝርዝር ከሚከተለው ሠንጠረዥ ተመልከት/ቺ።

ሠንጠረዥ 1.2 ቅርፊተ መሬት የተሠራባቸው ንጥረ ነገሮች

ተ.ቁ	ንጥረ ነገሮች	መጠን በ%
1	አክሲን	47
2	ሲልከን	28
3	አልሙኒየም	8
4	ብረት	5
5	ካልሲየም	35
6	ሶድየም	3

7	ፖታሲየም	2.5
8	መግኒዥየም	2

1.3.2 ቅርፊተ መሬት የተሠራባቸው ዋና ዋና ማዕድናት

ማዕድናት የተፈጠሩት ከንጥረ ነገሮች ነው። ዋና ዋና ቅርፊተ መሬት የተሠራባቸው ማዕድናት ውስጥ የተወሰኑት፤ ወርቅ፣ አልማዝ፣ መዳብ፣ ኳርትዝ፣ ፖታሽ፣ ግራናይትና የነዳጅ ማዕድናት ናቸው። አብዛኛው ማዕድናት በጠጣር መልክ የሚገኙ ሲሆን የተወሰኑት ደግሞ በፈሳሽ መልክ ይገኛሉ። ለምሳሌ ጠጣር ማዕድናት የሚባሉት እንደ የከሰል ድንጋይ፣ ግራናይትና የመሳሰሉት ሲሆኑ በፈሳሽ መልክ የሚገኙት ደግሞ እንደ ነዳጅ ዘይት ያሉ ናቸው።



ሥዕል 1.9 የተለያዩ ማዕድናት

1.3.3 ቅርፊተ መሬት የተሠራባቸው ትላልቅ አለቶች

አለቶች ከተለያዩ ማዕድናት የተሠሩ ናቸው። አለቶች ከተሠሩባቸው ማዕድናት ዓይነት ለይ ተሞርክዞ የተላያዩ ባህርይ አላቸው። አንዳንድ አለቶች ጠንካራ ሲሆኑ የተወሰኑት ደግሞ ጠንካራ ያልሆኑ ናቸው። ይህ ልዩነት በይዘታቸውና በአፈጣጠራቸው ላይ ይወሰናል። በዚህ መሠረት አለቶች በሦስት ይክፈላሉ።

ሀ) ቅልጠተ አለት

በመሬት ውስጥ ከፍተኛ ሙቀት የለበት ቦታ ያሉ ነገሮች ሁሉ በመቅለጥ ወደ ፈሳሽነት ይቀየራሉ። በዚህ መልክ ያለው ፈሳሽ ነገር ማግማ ይባላል። ይህ ማግማ በእሳተ ጎሞራ አማካይነት ወደ ውጫዊው የመሬት ክፍል ይወጣል። ማግማ ወደ ቅርፊተ ማሬት በመውጣት ስፈስ ለቫ ይባላል። ይህ ላቫ ቀስ በቀስ እየቀዘቀዘ ሲሄድ አለት ይፈጥራል። በዚህ ሁኔታ የተፈጠረው አለት ቅልጠተ አለት ይባላል። ለምሳሌ ግራናይትና ባልጩት ይጠቀሳሉ።




ሥዕል 1.10 ቅልጠተ አለቶች

ለ) ዝቅጠተ አለት

ይህ አለት ከተለያዩ ነገሮች ስብርባሪ፣ በውሃ፣ በንፋስና በበረዶ

መንሸራተት አማካይነት ተወስደው አንድ ቦታ ላይ ከተጠራቀመው ክምችት በመጠንከር የሚፈጠር አለት ነው። ይህ ክምችት የድንጋይ ስብርባሪ፣ አፈር፣ የዕፅዋት ብስባሽና የእንስሳት ቅሪተ አካልን የያዘ ነው። በየአመቱ አዳዲስ ጥርቅሞች እየተደራረበ ይሄዳሉ። የላይኛው ጥርቅም የታችኛው ላይ ክብደቱ እየጨመረ ወደታች በመጫን ወደ ጠንካራ አለት ይቀይረዋል። በዚህ ሁኔታ የተፈጠረው አለት ዝቅጠተ አለት ይባላል። ለምሳሌ፣ የአሸዋ ድንጋይ፣ የኖራ ድንጋይና የድንጋይ ከሰል ናቸው።



ሥዕል 1.11 ዝቅጠተ አለት

ሐ) ለውጥ አለት

ይህ አለት በከፍተኛ ሙቀትና ግፊት አማካይነት ከነበሩት ከቅልጠተ አለትና ዝቅጠተ አለት የተፈጠረ ነው። በዚህ ሂደት ውስጥ ኬሚካላዊና ፍዚካላዊ ለውጦች ይፈጠራሉ።



ሥዕል 1:12 ለውጥ አለት

1.4. የአለቶች ሥርጭትና በኢትዮጵያ ኢኮኖሚ ውስጥ ያላቸው ጠቀሜታ

የግምገማ ጥያቄዎች

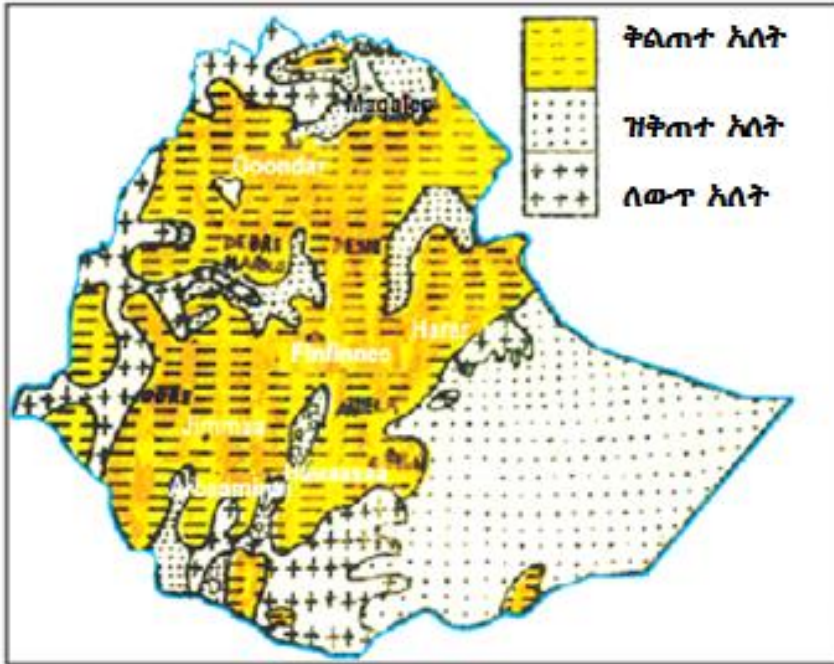
1. በኢትዮጵያ ውስጥ የአለቶች ሥርጭት ምን ይመስላል?
2. በኢትዮጵያ ውስጥ በብዛት የሚገኙት አለቶች የትኞቹ ናቸው?
3. የአለቶች ጥቅም ምንድን ነው?

የአለቶች ሥርጭት

ኢትዮጵያ ውስጥ አለቶች በተመሳሳይ ሁኔታ ተሰራጭተው አይገኙም። በብዛት ተሰራጭተው የሚገኙት ቅልጠተ አለቶች ሲሆኑ የሚገኙበትም በመካከለኛው ክፍተኛ አካባቢዎችና በስምጥ ሸለቆ ውስጥ ነው።

ዝቅጠተ አለቶች የሚገኙባቸው ቦታዎች ደግሞ በሰማሌ ክልላዊ መንግስት፣ በአሞና በአዋሽ ወንዞች ሸለቆ በመካከለኛው የአበይ ወንዝ አካባቢ በስፋት ተከማችቶ ይገኛል።

በሌላ በኩል ለውጥ አለቶች የሚገኙባቸው አካባቢዎች ከመቀሌ ከተማ አካባቢ ተነስቶ ወደ ምዕራብ የተከሰቱ ወንዝ ሸለቆ በመካተል እስከ ሱዳን ይደርሳል። በተጨማሪም በቤንሻንጉል ጉሙዝ ክልላዊ መንግስት ምዕራብ ወለጋ፣ የባሮ ወንዝ ሸለቆ፣ ከሐረር ከተማ አንስቶ እስከ ጅግጅጋ ከተማ ይደርሳል።



ሥዕል 1.12. የአለቶች ሥርጭት

የአለቶች ጥቅም

አለቶች ብዙ ጥቅም አላቸው። አለቶች የተለያዩ ማዕድናት በውስጣቸው ስለያዙ በአገር ኢኮኖሚ ውስጥ የተለያዩ ጠቀሜታ አላቸው። ይህንን የአለቶችን ጠቀሜታ ከሚከተለው ሰንጠረዥ ተመልከት/ቺ።

ሠንጠረዥ 1.3. አለቶች በኢኮኖሚ ውስጥ ያላቸው ጠቀሜታ

የአለት ዓይነቶች	የማዕድናቱ ምሳሌ	በኢኮኖሚ ውስጥ ያለው ጠቀሜታ
ቅልጠተ አለት	ባልጨት፣ ግራናይትና የአሸዋ ድንጋይ	ለህንፃና ለመንገድ ግንባታ
ዝቅጠተ አለት	የድንጋይ ከሰል፣ ነዳጅ ዘይት፣ የተፈጥሮ ጋዝ አሞሌ ጨውና የኖራ ድንጋይ	ለግንባታ፣ ለሐይል ምንጭ፣ ለዕሕፈት፣ ለፋብሪካ ጥሬ ዕቃነትና ለምግብነት
ለውጥ አለት	እብነ በረድ፣ ዕንቁ (አልማዝ) ዩራኒየምና ወርቅ	ለግንባታ፣ ለጌጣጌጥ፣ ለፋብሪካና ለውጭ ምንዛሪ

መልመጃ 1.3

ለሚከተሉት ጥያቄዎች ትክክለኛውን መልስ ስጥ/ጫ።

1. ዋና ዋና ቅርፍተ መሬት የተሰራባቸውን ንጥረ ነገሮች ዘርዝር/ሪ።
2. ማዕድን ማለት ምን ማለት ነው? ምሳሌዎችን ስጥ/ጫ።
3. ሶስቱን ዋና ዋና አለቶችን ዘርዝር/ሪ።
4. በኢትዮጵያ ውስጥ የሶስቱ ዋና ዋና አለቶች መገኛ ቦታዎች ዓፍ/ፊ።
 - ሀ. ቅልጠተ አለት
 - ለ. ዝቅጠተ አለት
 - ሐ. ለውጥ አለት

የምዕራፍ ማጠቃለያ

በሥርዓተ ፀሐይ ውስጥ የሚገኙ ነገሮች ፀሐይ፣ ኘላኔቶች፣ ጨረቃዎች፣ አስተርይዶች፣ ከሜቶች፣ ሜትሮይቶችና የመሳሰሉት ናቸው። በሥርዓተ ፀሐይ ውስጥ ከሚገኙ ነገሮች ፀሐይ 99.86 % ትሸፍናለች። ፀሐይ የራሷ የሆነ ብርሃንና ሙቀት ያላት ስትሆን ከመሬት ያላት ረቀት 150,000,000 ኪ.ሜ ይሆናል።

ኘላኔቶች በራሳቸው ምህዋር ላይ ፀሐይን ይዘራሉ። የመሬት ውጫዊ አካሎች፣ ደረቁ የመሬት ክፍል፣ ውሃማ የመሬት ክፍል፣ ከባቢ አየርና ህይወት ያላቸው የመሬት ክፍል ናቸው።

ውስጣዊው የመሬት አካል በሶስት ታላላቅ ንብርብሮች ይከፈላል። እነሱም ቅርፊተ መሬት፣ መዕከለ መሬትና ዕምብርተ መሬት ናቸው።

የውስጣዊውን የመሬት ክፍል መረጃ ለማግኘት ቀጥተኛና ቀጥተኛ ያልሆኑ ዘዴዎችን እንጠቀማለን።

የአለቶች አፈጣጠር ሁኔታ መለያየት የተለያየ ጥቅሞች እንዲኖራቸው አድርጓል።

የምዕራፉ ማጠቃለያ ጥያቄዎች

ክፍል 1. የሚከተሉትን ዓረፍተ ነገሮች ትክክል የሆነውን እውነት ትክክል ያልሆነውን ሐሰት በማለት መልስ/ሽ

1. ሁለም ፕላኔቶች በተመሳሳይ አቅጣጫ ፀሐይን ይዞራሉ።
2. የትልቁ ሜራዲያን/ Green which meridian/ ርዝመት ከምድር ወገብ (Equator) ርዝመት ይበልጣል።
3. እኛ የምንኖርባት መሬት ከ8 ንጥረ ነገሮች የተሠራ ነው።
4. ማዕድናት በአፈጣጠራቸው ሁኔታ በጥንካሬአቸው ይለያያሉ።
5. ቅልጠተ አለት ከማግማ የተፈጠረ ዓለት ነው።

ክፍል 2. በ "ለ" ሥር የዘረዘሩትን በ "ሀ" ሥር ከተሰጡት ጋር አዛምድ/ጅ

"ሀ"	"ለ"
6. በሥርአተ ፀሐይ እምብርት የሚትገኝ	ሀ. ሜርኩር
7. ጧትና ማታ የምትታይ ኘላኔት	ለ. ቨኔስ
8. ብዙ ጨረቃዎች ያላት ኘላኔት	ሐ. ሳተርን
9. ለፀሐይ ቀርባ የሚትገኝ ፕላኔት	መ. ዝቅጠተ አለት
10. በሬት ከነበሩት አለቶች የተፈጠረ	ሠ. ቅልጠተ አለት
11. ከላቫ የተፈጠረ አለት	ረ. ፀሐይ
12. በተለያዩ ምክንያት ከተከማቸ የተፈጠረ አለት	ሰ. ለውጥ አለት

ክፍል 3. ከሚከተሉት ጥያቄዎች ትክክለኛውን መልስ የያዘው ፊደል በመምረጥ ዓፍ/ፊ

13. በፀሐይና በመሬት መካከል ያለው ርቀት ምን ያህል ነው።
- | | |
|--------------------|-------------|
| ሀ. 150,000 ኪ.ሜ | ሐ. 150. ኪ.ሜ |
| ለ. 150,000,000 ኪ.ሜ | መ. 1500 ኪ.ሜ |

14. ከተሰጡት ምርጫዎች ውስጥ ትንሹ ኘላኔት የትኛው ነው?

ሀ. መሬት

ሐ. ጁኘቴር

ለ. ሳተርን

መ. ኡራኑስ

15. ከሚከተሉት ማዕድናት ውስጥ የበለጠ ጥንካሬ ያለው የቱ ነው?

ሀ. ጅብሰም

ሐ. ዕንቁ /ዲያመንድ/

ለ. ኳርቲዝ

መ. ካልሳይት

16. በዝቅጠተ አለት ሥር የማይመደብ የቱ ነው?

ሀ. የአሸዋ ድንጋይ

ሐ. የኖራ ድንጋይ

ለ. ባዛልት

መ. የድንጋይ ከሰል

ክፍል 4. የሚከተሉትን ጥያቄዎች ባዶ ቦታውን በመሙላት መልስ/ሽ

17. በሥርዓተ ፀሐይ ውስጥ የሚገኝ ትልቁ ኘላኔት ----- ይባላል

18. የመሬት የጨረቃ ብዛት ----- ስሆን ከመሬት ጋር እኩል የጨረቃ ብዛት ያላት ኘላኔት ደግሞ ----- ትባላለች

ክፍል 5. ለሚከተሉት ጥያቄዎች አጭር መልስ ስጥ

19. የመሬት ንብርብሮች በስንት ይከፈላሉ? ስማቸውን ዘርዝር/ሪ።

20. ከመሬት ንብርብሮች ውስጥ ወፍራሙ ንብርብር የትኛው ነው?

ምዕራፍ 2

ዝግመታዊ የሰው ልጅ ለውጥና የዓለም ህዝብ

ከምዕራፉ ትምህርት የሚጠበቁ ውጤቶች

- ስለ ሰው ልጅ አፈጣጠር ሁኔታ ትገልጻለህ/ሽ
- የሰው ልጅ አፈጣጠር ምንጭ የሆኑ የአርክኦሎጂ ምርምር ቦታዎችን በካርታ ላይ ታሳያለህ/ሽ
- የህዝብ ቁጥር መጨመርና ስርጭት ሁኔታ ትገልጻለህ/ሽ
- የሰው ልጅ ቁጥር መቀያየር/በውልደት፣ በሞትና ስደት/ ምክንያቶች የሚከሰተውን ሒሳባዊ ስሌት ታሰላለህ/ሽ
- የመንገዥ ዓይነቶችና ጥቅማቸውን ትገመግማለህ/ሽ
- በመንገዶች ላይ የሚገኙትን መሠረታዊ የትራፊክ ምልክቶችን በመለየት ታሳያለህ/ሽ

መግቢያ

ባለፈው ምዕራፍ ውስጥ ሥርዓተ ፀሐይን፣ የመሬት አፈጣጠርና ፊዝካላዊ ባህሪያትን ተምረሃል/ሻል። በዚህ ምዕራፍ ውስጥ ደግሞ ስለ አለምና ኢትዮጵያ ህዝብ ትማራለህ/ሽ። በዚህ ምዕራፍ ውስጥ ስለ ሰዎች ቁጥር

መጨመርና የአሰፋፊ ሁኔታ፣ የህዝብ ቁጥር መቀየር፣ የህዝቦች ሥርጭትና የከተሞች መስፋፋትን ትማራለህ/ሽ። በተጨማሪም ስለ መጓጓዣ፣ የመጓጓዣ ዓይነቶች፣ የትራፍክ ህጎችን፣ የመንገድ አጠቃቀምን፣ የትራፍክ አደጋንና መንገድን ስናቋርጥ መወሰድ የሚገባንን ጥንቃቄዎችን ትማራለህ/ሽ።

ተማሪዎች ብያንስ ሊደርሱበት የሚገቡ የመማር ብቃቶች፡

- የሰው ልጆች የአርክዎሎጂ ጥናት ምንጭ የሆኑ ቦታዎችን ትለያለህ/ሽ
- በተለያዩ ጊዜያት የሰው ልጅ ያሳየው ታሪካዊ ለውጦችን ትገነዘባለህ/ሽ
- ካለፉትና አሁን ባለው መረጃዎች መሰረት በማድረግ የወደፊቱን የህዝብ ቁጥር ሁኔታን ትገነዘባለህ/ሽ
- የህዝብ ቁጥር የሚቀይሩ ከካቶች /ውልደት፣ ሞትና ስደት/ ወዘተ ታሰባለህ/ሽ
- የህዝብ ስደት ዓይነቶችና የስደት ምክንያቶችን ትለያለህ/ሽ
- በአለም ላይ ህዝብ ተጠጋግተውና ተበታትነው የሚገኙባቸውን አካባቢዎች በካርታ ላይ ታሳያለህ/ሽ
- የኢትዮጵያንና አለም ህዝብ ቁጥር መጨመር ታመዛዝናለህ/ሽ
- የትራንስፖርት ታሪካዊ ዕድገትና አስተዋፅዖ ትገልጻለህ/ሽ
- ጥቅማቸውን መሠረት በማድረግ የትራንስፖርት ዓይነቶችን ታወዳድራለህ/ሽ
- መሠረታዊ የሆኑ የመንገድ ላይ የትራፊክ ምልክቶችን ትለያለህ/ሽ
- የትራፊክ ደህንነትን ለመጠበቅ መሠረታዊ የሆኑ የትራፊክ ህጎችን ትገልጻለህ/ሽ

2.1 የሰው ልጅ ዝግመታዊ ለውጥ


2.1.1 አርኪዮሎጂና የአርኪዮሎጂ ምርምር

የግምገማ ጥያቄዎች

1. ቀደምትና አሁን ያለው የሰው ልጅ ተመሳሳይነት አላቸው? እንዴት?
2. አርኪዮሎጂ ስለ ምን ያጠናል?
3. የሰው ልጅ መገኛ ናቸው ተብለው ከሚገመቱ ቦታዎች ውስጥ የሚታወቀው/ቂውን ተናገር/ሪ?

ስለ ሰው ልጆች አመጣጥ ሁለት የተለያዩ ሃሳቦች አሉ። እነሱም ሃይማኖታዊና ሳይንሳዊ ሃሳቦች ናቸው። ሃይማኖታዊው አስተሳሰብ ሰውን የፈጠረው እግዚአብሔር ነው ተብሎ ይታመናል። በዚህ አስተሳሰብ ሁሉም ሃይማኖቶች ተመሳሳይ የሆነ ግምት አላቸው።

በሳይንሳዊ አመለካከት ግን የሰው ልጅ በዝግመታዊ ለውጥ ሂደት አማካይነት በብዙ ሚሊዮን አመታት ውስጥ የተለወጠ ነው ተብሎ ይታመናል። ይህንን ሂደት ለመረዳት ቀጥለው ያለው ሥዕል ተመልከት/ቺ



ሥዕል 2.1 የሰው ልጅ ዝግመታዊ ለውጥ

በሰው ልጅ ታርክ ውስጥ ኢትዮጵያና የአፍሪካ ቀንድ የሰው ልጅ መገኛ መሆናቸውን ከፍተኛ ግምት ተሰቶዋቸዋል። የተለያዩ የምርምር መረጃዎች እንደሚያሳዩት ምግብን ማዘጋጀትና የተለያዩ መሣሪያዎችን መስራት

የተጀመረበት አካባቢ እንደሆነ ይገመታል። ይህ ዕድገት ለማህበራዊ፣ ኢኮኖሚያዊና ፓላቲካዊ ለውጦች ከፍተኛ አስተዋፅኦ አበርክቷል።

ቻርለስ ዳርዊንና ሌሎች ምሁራን የሰውና የዝንጀሮ ዝርያ የተገኙት ከአንድ ዘር ናቸው ብለው ያምናሉ። በእነዚህ ምሁራን አገላለፅ የሰውና የዝንጀሮ ዘር ከጋራ ቤተሰብ የተገኙ ሆኖ ከጊዜ በኋላ ግን የሰው ዝሪያ ሆሚኒድ ሲባል የዝንጀሮ ዝርያ ደግሞ ፖንጃዴ ተባለ።

አርኪዮሎጅ ማለት ቅሪተ አካልና ሲጠቀሙባቸው የነበሩትን መሣሪያዎችን በማጥናት የሰው ልጅ አኗኗር የሚያጠና ሳይንስ ነው። አርኪዮሎጅስቶች የሰው ልጅ ማገኛ በኢትዮጵያ ስምጥ ሸለቆ ውስጥ መሆኑን አረጋግጠዋል።

2.1.2 የመጀመሪያ የሰው ልጅ መገኛና በተለያዩ ጊዜያት ያሳለፋቸው ለውጦች

የግምገማ ጥያቄዎች

1. ኢትዮጵያ ውስጥ የሚታወቀውን የሰው ልጅ ቅሪተ አካል ለክፍል ተማሪዎች ተናገር/ሪ
2. ሉሲ ምንድነው? ለክፍል ተማሪዎች ተናገር/ሪ

ከዘመናዊው የሰው ልጅ በፊት የተለያዩ የሰው ዝርያዎች ነበሩ። ለምሳሌ፤

- አውስትራሎፒቲክስ፤ ይህ የሰው ዘር በፖንጃዴና በሆሚኒድ ከተከፈለ በኋላ የተገኘ ነው። ይህ የሰው ዘር ከሁለት ሚሊዮን ዓመታት በፊት በምስራቅና ደቡብ አፍሪካ ውስጥ ይኖር እንደነበር ይነገራል። አውስትራሎፒቲክስ ዘርያ ዝንጀሮ ቢመስልም ይበልጥ ሰውን የሚመስል ስለሆነ በሁለት እግሩ ቆሞ የሚሄድ ነበር። ይህ ዘርያ በዝግመታዊ ለውጥ ቀስ በቀስ ወደ ሆሞ ተቀየረ። የሆሞ ዘርያ በዕድገት ደረጃው በሶስት ይከፈላል። እነሱም፡-
- ሆሞ ሐቢሊስ፤ ከሁለት ሚሊዮን አመታት በፊት የኖረና በእጁም

የሰባተኛ ክፍል ሕብረተሰብ ትምህርት የተማሪዎች መጽሐፍ

ሥራ መሥራት የጀመረ ነበር። ቅሪተ አካሉም ኢትዮጵያ ውስጥ በአሞ ሸለቆ ተገኘ ። ይህ ዝርያ መሳሪያዎችን ለመጀመሪያ ጊዜ መሥራት የጀመረ ነው። እነዚህ መሳሪያዎች ከድንጋይ የተሰሩ ናቸው። እነዚህ መሳሪያዎች እንስሳት ለማረድና ቆዳቸውን ለመግፈፍ ይጠቀሙባቸው ነበር።

➤ ሆሞ እሬክተስ፤ ከአንድ ሚሊዮን አመታት በፊት ይኖር የነበረ ሲሆን በሁለት እግሮቹ ቆሞ መሄድ የጀመረ ዝርያ ነው። ቅሪተ አካሉም በኢትዮጵያ መልካ ቁንጡራና በአሞ ሸለቆ ውስጥ የተገኘ ነው። ሆሞ እሬክተስ በሁለት በኩል ስለት ያለው መሳሪያ መስራት ችሏል። እነዚህ መሳሪያዎች ለእርድ፣ ቆዳ ለመግፈፍ፣ ሥራሰሮችን ቆፍሮ ለማውጣትና እንጨት ለመቁረጥ ሲጠቀሙበት ነበር። እነዚህም መሳሪያዎች ቅርስ በአብዛኛው በኢትዮጵያና በሌሎች ምሥራቅ አፍሪካ ተገኝቷል።

➤ አሞ ሳፒያንስ ፤ አሁን ካለው የሰው ዘርያ ጋር በጣም ተቀራራቢና፣ ከ100,000 አመታት በፊት የኖረ ነው። ቅሪተ አካሉም ኢትዮጵያ ውስጥ በአሞ ሸለቆ ፣ በአዋሽ ወንዝና በድሬዳዋ አካባቢ የተገኘ ነው። ይህ ዝርያ መሳሪያዎችን አሻሽሎ ከድንጋይ እንደ ምላጭና መያዣ ያለው ጦር በብዛት መስራት ችሏል።

በአጠቃላይ አሁን ካለው ዘመናዊው የሰው ዘር በፊት ሰው የተለያዩ ዝግመታዊ ለውጥ ውስጥ አልፏል። ለተጨማሪ መረጃ ከዚህ በታች ያለውን ሠንጠረዥ ተመለከት/ች።

ሠንጠረዥ 2.1 የሰው ልጅ ዝግመታዊ ለውጥ

ተ.ቁ	የሰው ዝርያ ሥም	ዕድሜ	የሚገኝበት ቦታ
1.	ሆሚነድ	ከ6 - 8 ሚሊዮን አመታት	ደቡብ አፍሪካና ቻድ ሐይቅ
2	አውስትራሎፒትክስ ራማድስ	4.5 ሚሊዮን አመታት	አራሚስ፣ አፋር
3	የሉሲ አጥንት	3.18 ሚሊዮን አመታት	ሀዳር፣ አፋር

የሰባተኛ ክፍል ሕብረተሰብ ትምህርት የተማሪዎች መጽሐፍ

4	አውስትራሎፒትክስ ጋሃሪ፣ ኢትዳክስ		አዋሽና ኦሞ ወንዞች አካባቢ
5	ሆሞ ሐቢሊስ	ከ2.5 እስከ 1.9 ሚሊዮን አመታት	ጎና፣ ሹንጉራና ቦታችኛው ኦሞ
6	ሆሞ ኢሬክተስ	1.5 ሚሊዮን አመታት	መልካ ቁንጦሬ፣ ጋርዳላና ጋዴቢ
7	ሆሞ ሳፒያንስ	100000 አመታት	ባዶ፣ ፓርክ ኢፒክና ኪኒሽ

መልመጃ 2.1

1. ስለ ሰው ልጆች አፈጣጠር የሚገልፁ ሀሳቦች ምንድናቸው?
2. ጥንታዊ የሰው ዘርያን በቅደም ተከተል ጻፍ/ፊ።
3. ቅርሶችን በማጥናት ስለ ሰው ዘር አመጣጥ የሚያጠና ሳይንስ ምን ይባላል?
4. ለመጀመሪያ ጊዜ በሁለቱም በኩል ስለት ያለውን መሳሪያ የሰራ የሰው ዘር ማን ይባላል? ከምን የተሰራና ለምን ይጠቀሙበት ነበር?

2.2 የዓለም ህዝብ

የግምገማ ጥያቄ

1. ህዝብ ማለት ምን ማለት ነው?
2. የአለም ህዝብ ሥርጭት ምን ይመስላል?
3. በአለም ላይ የህዝብ ቁጥር መጨመር ምን ይመስላል?

ህዝብ ማለት በአንድ በተወሰነ ቦታ ላይ ሰዎች በብዛት ለረጅም ጊዜ የሚኖሩበት ማለት ነው። የተለያዩ መረጃዎች እንደሚገልፁት የህዝብ ቁጥር ከጊዜ ወደ ጊዜ እየጨመረ መጥቷል። ከፍተኛው የህዝብ ቁጥር የታየው ከክርስቶስ ልደት በፊት 10000 ዓመተ ዓለም አከባቢ ነበር። ይህም የሆነበት ምክንያትም ከሚያመርታቸው ነገሮች በቂ ምግብ ማግኘት በመቻሉ

ነው።

በአለም ላይ በሁሉም አካባቢዎች የህዝብ ብዛት በተመሳሳይ ሁኔታ ተሰራጭቶ አይገኝም። በአንዳንድ አካባቢዎች ህዝብ ቁጥር በከፍተኛ ሁኔታ እየጨመረ ሲሆን፤ በአንዳንድ አካባቢዎች ደግሞ ቀስ በቀስ እየጨመረ ይሄዳል። ለአለም ህዝብ ቁጥር መለያየት ምክንያት የሆኑት የአየር ንብረት፣ የምግብ አቅርቦት፣ በሽታ፣ የመሬት አቀማመጥትና ጦርነት ዋና ዋናዎቹ ናቸው።

በአኮኖሚ ያደጉና በማደግ ላይ ያሉ ሀገሮች መካከል የህዝብ ቁጥር ዕድገት ብዙ ልዩነቶች አለው። በመካከላቸው ያለውን ልዩነት በቀላሉ ለመረዳት የሚከተለውን ሠንጠረዥ ተመለከት/ች።

ሠንጠረዥ 2.2. የአለም ህዝብ ብዛት

ተ.ቁ	አህጉር	ህዝብ/በሚሊዮን/	በመቶ(%)
1	ኢ.ሲ.ያ	4393	59.78
2	አፍሪካ	1186	16.14
3	አውሮፓ	738	10.04
4	ሰሜን አሜሪካ	634	8.62
5	ደቡብ አሜሪካ	358	4.87
6	አዉስትራሊያ	39	0.53
7	ጠቅላላ የአለም ህዝብ	7348	100

ምንጭ UN department of economic and social affairs 2015

2. 2.1 የህዝብ ቁጥር መጨመር

የግምገማ ጥያቄዎች

1. ለህዝብ ቁጥር መቀያየር ምክንያቶች ምን ምን ናቸው?
2. ስደት በአለም ህዝብ ቁጥር ላይ ለውጥ ልያመጣ ይችላል? ለምን?

የአንድ ሀገር ህዝብ ቁጥር ሁልጊዜም ቋሚ አይደለም። የህዝብ ብዛት በቦታና በጊዜ ይለያያል። ለአንድ አገር ህዝብ ቁጥር መቀያየር ምክንያት ከሆኑ ነገሮች ዋናዎቹ፣ ውልደት፣ ሞትና ስደት ናቸው። ውልደት የህዝብ ቁጥር እንዲጨምር ሲያደርግ ሞት ደግሞ እንዲቀንስ ያደርጋል።

ይሁን እንጂ ስደት የህዝብ ብዛት ሊጨምር ወይም ሊቀንስ ይችላል። ስደት የህዝብ ቁጥር ሊቀንስ የሚችለው ሰዎች በቋሚነት ዜግነታቸውን ቀይረው ከአንድ አገር ወደ ሌላ አገር ሲሰደዱ ነው። ስደት በአለም ህዝብ ቁጥር ላይ ለውጥ አያመጣም።

ውልደት

ውልደት የህዝብ ቁጥር መጨመር ተፈጥሮአዊ ሂደት ነው። የህዝብ ቁጥር መቀያየር ሂደት ውስጥ ስለ ውልደት ማጥናት በጣም አስፈላጊ ነው።

የውልደት መጠን ስሌት

የውልደት መጠንን ለማስላት የሚከተለውን የሒሳብ ቀመርን እንጠቀማለን ምሳሌ ፣ በ2010 ዓ.ም. ውስጥ በ”ሀ” አገር የተወለዱት ህፃናት 300,000 ናቸው። የዚያ ሀገር ጠቅላላ የህዝብ ብዛት ደግሞ 15000000 ቢሆን

የውልደት መጠን ምን ያህል ይሆናል።

ለዚህ ጥያቄ መልስ ከመስጠትህ/ሽ በፊት የተሰጠውንና የተጠየከውን/ሽውን ጥያቄ መለየት ይኖርብሃል/ሻል።

የተሰጠ	የሚፈለግ
የተወለዱ ህፃናት = 300,000	የውልደት መጠን?
የህዝብ ብዛት = 15,000,000	
ስሌት	

$$\text{የውልደት መጠን} = \frac{\text{በአንድ አመት ውስጥ በህወት የተወለዱ የህፃናት ብዛት}}{\text{የዘ የን አመት ዓጋማሽ የአገሪቱ አ የዘዝብ ብዛት}} \times 1000$$

የሰባተኛ ክፍል ሕብረተሰብ ትምህርት የተማሪዎች መጽሐፍ

$$\text{የጫልደት መጠን} = \frac{300,000}{15,000,000} \times 1000$$

$$\begin{aligned} \text{የጫልደት መጠን} &= \frac{300}{15} \\ &= 20// \end{aligned}$$

ይህ ማለት በ1000 ሰዎች ውስጥ 20 ህፃናት በተጠቀሰው ዓመት የተወለዱ ናቸው።

ሞት

ሞት የአለም የህዝብ ቁጥር የሚቀንስና በማደግ ላይ ባሉ አገሮች ውስጥ ከፍተኛ የሆነ ኩነት ነው።

የተለያዩ ጥናቶች እንደሚያመለክቱት በአሁኑ ጊዜ የሞት ቁጥር በአለም ላይ እየቀነሰ ነው። ለዚህም ምክንያት የሚሆነው የእርሻና የጤና ተክኖሎጂዎች መሻሻል፣ የአካባቢና የግል ንፅህና አጠበቅ መሻሻል ቁልፍ ምክንያቶች ናቸው።

የሞት መጠን ስሌት

ለምሳሌ፣ በ2013 ዓ.ም ውስጥ በ“M” አገር የሞቱት የሰዎች ቁጥር 20000 ነው። በዚህ አጋማሽ ዓመት የአገሪቱ የህዝብ ብዛት ደግሞ 5000000 ነው። የአገሪቱ የሞት መጠን ስንት ነው?

የሰተጠ	ተፈላጊ
-------------	-------------

የሞቱ ሰዎች ቁጥር 20000

ጠቅላላ ህዝብ ብዛት 5000000

የሞት መጠን ?

ስሌት

የሰባተኛ ክፍል ሕብረተሰብ ትምህርት የተማሪዎች መጽሐፍ

$$\text{የሞት መጠን} = \frac{\text{በአንድ አመት ውስጥ የሞቱት የሰዎች ብዛት}}{\text{የዚያን አመት ዓጋማሽ የአገሪቷ የህዝብ ብዛት}} \times 1000$$

$$\begin{aligned} \text{የሞት መጠን} &= \frac{20000}{5000000} \times 1000 \\ &= 4\% \end{aligned}$$

ይህ ማለት በ2013 ዓ.ም በ“M” ሀገር ከ1000 ሰዎች ውስጥ 4 ሰዎች ሞተዋል ማለት ነው።

ስደት

ስደት ማለት ሰዎች ከሚኖሩበት ቦታ በቋሚነት ወይም በጊዜያዊነት የሚኖሩበትን ቦታ ሲቀይሩ ነው።

የስደት መጠን ስሌት

ሀ. ወደ አገር የሚደረግ የስደት መጠን ስሌት

$$\text{ወደ አገር የስደት መጠን} = \frac{\text{በስደት ወደ አገር የሚገቡ ሰዎች ብዛት}}{\text{የዚያን አመት ዓጋማሽ የአገሪቷ የህዝብ ብዛት}} \times 1000$$

ስደት ወደ አገር የሚገቡ የሰዎች ብዛት 300 000፤

የዚያን ዓመት አጋማሽ የአገሪቷ የህዝብ ብዛት 60 000 000

ወደ አገር የስደት መጠን?

$$\begin{aligned} \text{ወደ አገር የስደት መጠን} &= \frac{300\,000}{60\,000\,000} \times 1000 \\ &= 5\% \end{aligned}$$

ይህ ማለት ከአገሪቱ 1000 ሰዎች ላይ ከውጪ 5 ሰዎች ተጨምረው ባቸዋል ማለት ነው።

ለ. ከአገር ወደ ውጪ የሚደረግ የስደት መጠን ስሌት

$$\text{ከአገር ወደ ውጪ የስደት መጠን} = \frac{\text{ከአገር ወደ ውጪ በስደት የሚወጡ ሰዎች ብዛት}}{\text{የዚያን አመት አጋማሽ የአገሪቷ የህዝብ ብዛት}} \times 1000$$

የሰተጠ	ተፈላጊ
------	------

ወደ ውጪ የሚደረግ የስደት ብዛት = 60000 ወደ ውጪ ስደት መጠን?
 የዚያን ዓመት አጋማሽ የአገሪቷ የህዝብ ብዛት = 60000000

$$\begin{aligned} \text{ከአገር ወደ ውጪ የስደት መጠን} &= \frac{60\,000}{60\,000\,000} \times 1000 \\ &= 1// \end{aligned}$$

ይህ ማለት በአገሪቷ 1000 ሰዎች ላይ 1 ሰው በስደት ተቀንሷል ማለት ነው።

ሐ. የስደት ልዩነት

የስደት ልዩነት ማለት ወደ ሀገር የሚገቡና ከአገር የሚወጡ የሰዎች የቁጥር ልዩነት ማለት ነው። ውጤቱ +Ve፣ -ve ወይም 0 ሊሆን ይችላል።

- ውጤቱ +Ve ከሆነ ወደ ሀገር የሚገቡ የሰዎች ቁጥር ይበልጣል ማለት ነው።
- ውጤቱ -ve ከሆነ ደግሞ ከሀገር የሚወጡ የሰዎች ቁጥር ይበልጣል ማለት ነው።
- ውጤቱ 0 ከሆነ ደግሞ ከሀገር የሚወጡና ወደ ሀገር የሚገቡ የስደተኞች ቁጥር እኩል መሆኑን ያሳያል።

ይህ በሒሳብ ስሌት ሲገለፅ

$$\text{የሰደት ልዩነት መጠን} = \frac{\text{ወደ አገር የሰደት መጠን} - \text{ወደ ውጪ የሰሌት መጠን}}{\text{የአመቱ ዓጋማሽ የአገሪቱ ህዝብ ብዛት}} \times 1000$$

የሰተጠ	ተፈላጊ
------	------

ወደ አገር የሚደረግ የሰደት መጠን ስሌት = 300000 የሰደት መጠን?

ከአገር ወደ ውጪ የሚደረግ የሰደት መጠን ስሌት = 60000

$$\text{የሰደት ልዩነት} = \frac{300000 - 60\ 000}{60\ 000\ 000} \times 1000$$

$$\begin{aligned} \text{የሰደት ልዩነት} &= \frac{24}{6} \\ &= 4\% \end{aligned}$$

ይህ ማለት ወደ አገር ያለው የሰደት መጠን ወደ ውጪ ካለው የሰደት መጠን በ4 ስዎች ይበልጣል ማለት ነው።

2.2.2 የሰዎች ቁጥር መቀያየር ባህሪያት

የግምገማ ጥያቄ

1. በማምረት ችሎታ መሰረት ሰዎች በስንት በዕድሜ ክልል ይከፈላሉ?
2. የህዝብ መዋቅር ማለት ምን ማለት ነው?
3. የአምራች ኃይል ዕድሜ ስንት ነው?

የህዝብ ማዋቅር ማለት የተለያዩ መስፈርቶችን ተጠቅመን ህዝብን በተለያዩ የዕድሜ ክልል መክፈል ማለት ነው። የአንድን አገር ህዝብ በዕድሜ ክልል በመለየት ለትምህርት ቤት የደረሱ ህፃናትን አምራች ኃይልን እንዲሁም

የሰባተኛ ክፍል ሕብረተሰብ ትምህርት የተማሪዎች መጽሐፍ

አረጋግጥኝን ቁጥር ማወቅ የወደፊቱን የአገሪቷን ዕጣ ፋንታ ለመገመት ያስችላል።

ዕድሜና ሥርዓተ-ፆታ መረጃ የሚገኘው በተለያዩ ጊዜያት በሚደረግ የህዝብ ቆጠራ ነው። የተገኘውን መረጃ በማምረት ችሎታ ተቀናብሮ መቀመጡ በቀላሉ ስለ ህዝቡ ለመረዳት ያስችላል።

የአንድን አገር ህዝብ በማምረት ችሎታው ላይ በመመርኮዝ በሶስት የዕድሜ ክልል ይከፈላል። እነሱም የልጆች ዕድሜ እስከ 14 ዓመት ያሉ፤ አምራች ኃይል ከ15 — 64 ዓመትና አረጋግጥኝ 65 እና ከዚያ በላይ ናቸው።

የጥገኝነት ሬሾ

የጥገኝነት ሬሾ በአምራችና ሰርተው ራሳቸውን የማይችሉ መካከል ያለው ግንኙነት ማለት ነው። በማምረት ችሎታ ላይ በመመስረት ህዝቡን በሁለት መክፈል ይቻላል። እነሱም አምራች ኃይልና ጥገኛ ናቸው።

ጥገኛ የሚባሉት ደግሞ እንደገና በሁለት ይከፈላሉ። እነሱም ልጆችና አረጋግጥኝ ናቸው።

በአምራች ኃይልና ጥገኛ መካከል ያለውን ልዩነት በሒሳብ ህግ ማስላት ይቻላል።

የጥገኝነት ሬሾ ዓይነቶች

ሀ. የልጆች ጥገኝነት ሬሾ

የልጆች የጥገኝነት ሬሾ ማለት በአምራቹ ኃይል የሚረዱትን የልጆች ቁጥር ለማወቅ የሚረዳ ነው።

ይህን በሒሳብ ህግ ለማስላት፡

$$\text{ከአገር ወደ ውጪ የሰደቱ መጠን} = \frac{\text{ከአገር ወደ ውጪ በሰደቱ የሚወጡ ሰዎች ብዛት}}{\text{የዚያን አመት ዓጋማሽ የአገሪቷ የህዝብ ብዛት}} \times 100$$

$$\text{የልጆች የጥገኝነት ሬሾ} = \frac{400}{3}$$

$$= 133//$$

ይህ ማለት 100 አምራች ኃይል 133 የሚሆኑ ልጆችን ይረዳሉ ማለት ነው።

ለ. የአረጋዊያን ጥገኝነት ሬሾ

አረጋዊያን ጥገኝነት ሬሾ ማለት በአምራች ኃይል የሚረዱ አረጋዊያን ቁጥር ለማወቅ ነው።

የአረጋዊያን ጥገኝነት ሬሾን ለማስላት፡

$$\text{የአረጋዊያን ሬሾ} = \frac{\text{የአረጋዊያን ቁጥር}}{\text{የአምራች ኃይል ቁጥር}} \times 100$$

ለምሳሌ 2009 ዓ.ም የ“G” ሀገር ህዝብ 30 ሚ ሊዮን ውስጥ %50 አምራች ኃይል ሲሆን 30% ደግሞ ህፃናት ናቸው። ከዚህ መ ረጃ የአረጋዊያን ጥገኝነት ሬሾ ፈልግ።

የተሰጠ

$$\text{አምራች ኃይል} = \%50 = 15 \text{ ሚ ሊዮን}$$

$$\text{ልጆች} = \%30 = 9 \text{ ሚ ሊዮን}$$

መ ልስ

$$\text{አረጋዊያን ጥገኝነት ሬሾ የህዝብ አምራቾች - ልጆች} = 30 \text{ ሚ ሊ.} - 15 \text{ ሚ ሊ.} - 9 \text{ ሚ ሊ.} = 6 \text{ ሚ ሊ.}$$

ወይንም

$$\text{አረጋዊያን} = 20\% = 6 \text{ ሚ ሊ.ዮን}$$

$$\text{አረጋዊያን ሬሾ} = \frac{600}{15} = 40$$

ይህ ማለት 100 አምራች ኃይል 40 አረጋዊያን ይረዳሉ ማለት ነው።

የአጠቃላይ ጥገኝነት ሬሽ

የአጠቃላይ ጥገኝነት ሬሽ በአምራች ኃይልና ጥገኛ በሆኑ ሰዎች መካከል ያለው ግንኙነት ያሳያል። በሒሳብ ቀመር ሲሰላ፡

$$\text{አጠቃላይ ሬሽ} = \frac{\text{የልጆች ቁጥር} + \text{የአረጋግጧቸው ቁጥር}}{\text{አምራች ኃይል ቁጥር}} \times 100$$

ለምሳሌ፡ በ 2015 ዓ.ም የ“Z” ህዝብ ብዛት 12,000,000 ሚ ሊዮን ው ስጥ 2,000,000 አረጋግጧቸው፤ 7,500,000 ደግሞ አምራች ኃይል ናቸው። በዚህ መሰረት ሬሹ ለሆነው፡

$$\begin{aligned} \text{አጠቃላይ ሬሽ} &= \frac{\text{የልጆች ቁጥር} + \text{የአረጋግጧቸው ቁጥር}}{\text{አምራች ኃይል ቁጥር}} \times 100 \\ &= \frac{2,500,000 + 2,000,000}{7,500,000} \times 100 = \frac{4,500,000}{7,500,000} \times 100 \\ &= \frac{2,500,000,000}{7,500,000} = \frac{2500}{75} = 33 \end{aligned}$$

ይህ ማለት 100 የሚሆኑ አምራች ኃይሎች 33 የሚሆኑ ህዝብ ስድስት ዓመታት ይረዳሉ ማለት ነው።

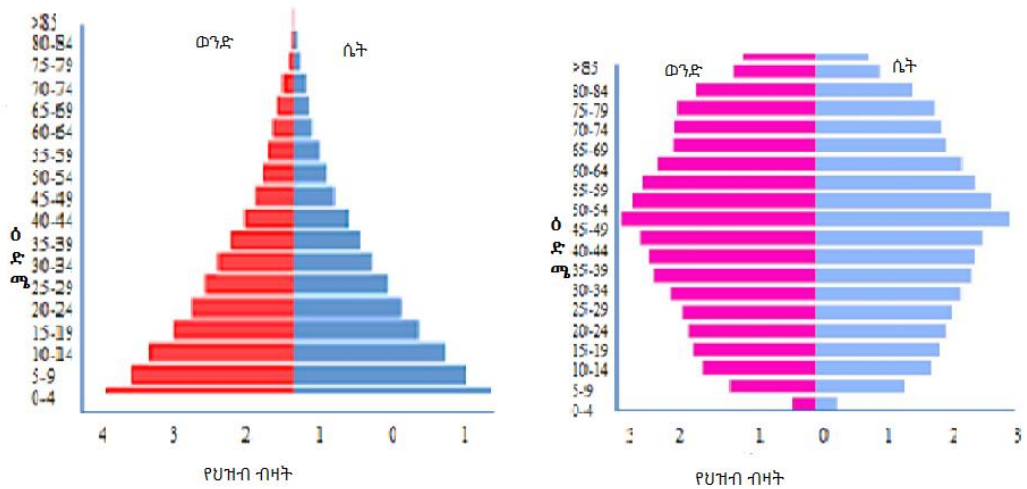
የዕድሜ ኘራሚድ

የዕድሜ ፕራሚድ ማለት የአንድን ሀገር ህዝብ ዕድሜና ስርዓተ-ጾታን ሥርጭት በግራፍ የማሳየት ዘዴ ነው። የአንድን ሀገር የዕድሜና ስርዓተ-ጾታን ኘራሚድ በመመልከት በቀላሉ በየትኛው የዕድሜ ክልል ውስጥ ብዙ ሰዎች እንደሚገኙ ማወቅ ይቻላል።

ከሥር ሰፊ ብሎ ከላይ በፍጥነት እየጠበበ የሚሄደው ግራፍ በማደግ ላይ የሚገኙ አገሮችን ህዝብ ይወክላል። ሁለተኛው ግራፍ ከሥር ጠበብ ብሎ መሳል የሚሰፋና ከላይ ደግሞ በበተወሰነ መልኩ ጠበብ የሚለው ግራፍ ደግሞ ያደጉ አገሮችን ህዝብ የሚወክል ነው።

የሰባተኛ ክፍል ሕብረተሰብ ትምህርት የተማሪዎች መጽሐፍ

ከሥር ሰፋ ብሎ በፍጥነት ወደ ላይ እየጠበበ የሚሄደው ግራፈ የሚያሳየው የውልደት መጠን ከፍተኛ ሆኖ በሞት ምክንያት የተወለደው በብዛት እየቀነሰ መሄዱን ያሳያል። በሌላ በኩል ደግሞ ሁለተኛው ፕራሚድ ብዙ ሰዎች ረጅም ዕድሜ ያሉበት አገርን ያሳያል።



ሥዕል 2.2 የዕድሜ ፕራሚድ

ስርዓተ-ፆታ ሬሾ

የስርዓተ ፆታ ሬሾ የወንዶችና የሴቶችን ቁጥር ግንኙነት የሚያሳይ ነው።

የስርዓተ ፆታ ሬሾ በሒሳብ ስሌት የሚገለፀው፤

$$\text{የስርዓተ ፆታ ሬሾ} = \frac{\text{የወንዶች ብዛት} \times 100}{\text{የሴቶች ብዛት}}$$

ምሳሌ 1. የአዳማ ከተማ የህዝብ ብዛት 800000 ከሆን ከዚህ ውስጥ 450000 የሚሆኑት ሴቶች ከሆኑ የከተማው የፆታ ሬሾ ስንት ይሆናል?

የተሰጠ የሚፈለግ

የአዳማ ከተማ ህዝብ ብዛት = 800000 የፆታ ሬሾ?

የሰባተኛ ክፍል ሕብረተሰብ ትምህርት የተማሪዎች መጽሐፍ

የሰቶች ብዛት = 4500000

ሒሳባዊ ስሌት

$$\text{የዓታ ሬሽ} = \frac{\text{የወንዶች ብዛት} \times 100}{\text{ሰቶች ብዛት}}$$

(የወንዶች ብዛት = የአዳማ ከተማ ህዝብ ብዛት - የሴቶች ብዛት) →

$$800,000 - 450,000 = 350,000$$

$$\frac{350,000}{450,000} \times 100 = \frac{35,000,000}{450,000} = \frac{3500}{45} = 77.8$$

= 77.8

ይህ ማለት ሴቶች ቁጥር 100 ሲሆን ወንዶቹ ደግሞ 78 ይሆናሉ።

2.2.3. የህዝብ ሥርጭት

የግምገማ ጥያቄ

1. የሚትኖሩበት አካባቢ ህዝቦች በምን ሁኔታ ተሰራጭተው ይገኛሉ? ለምን ይመስለኋል/ሻል?
2. ሰዎች በብዛት ተጠጋግተው የምኖረው በከተማ ወይንስ በገጠር ነው? ለምን?
3. የህዝብ ጥግግት ማለት ምን ማለት ነው?

የህዝብ ጥግግት ማለት በዓለም ላይ የህዝቦች አሰፋፈር ሁኔታ ማለት ነው። የአለም ላይ ህዝቦች በተመሳሳይ ሁኔታ ተሰራጭተው አይገኙም። ህዝቦች ከደቡባዊ ንፍቀ ክብብ በበለጠ በሰሜናዊው ንፍቀ ክብብ በብዛት ተሰራጭተው ይገኛሉ። ምክንያቱም አብዛኛው ደቡባዊው ንፍቀ ክብብ በውሃና በበረዶ የተሸፍነው ስለሚገኝ ነው። የህዝብ ሥርጭትን በአህጉራት ደረጃ ስንመለከት በኢ.ሲ.ያ አህጉር 59.78%፣ በአፍሮካ አህጉር 16.14%ና በአውሮፓ አህጉር 10.4% በመሆን በተከታታይ ከአንደኛ እስከ ሦስተኛ ደረጃን ይዘው የሚገኙ መሆኑን መረጃዎች ያሳያሉ።

የህዝብ ጥግግት

የህዝብ ጥግግት ማለት በአንድ በተወሰነ አካባቢ ሰፍሮ የሚገኝ የህዝብ ብዛት ማለት ነው። በሌላ በኩል በመሬት ገዕታ ላይ ሰዎች ምን ያህል ተጠጋግተው ወይም ተበታትነው መኖራቸውን የሚገልፅ ነው። የህዝብን ጥግግት ለማወቅ የህዝብ ብዛትና እነዚህ ህዝቦች ሰፍረው የሚገኙበት ቦታ ሥናነፃፅር የሚናገኘው ውጤት ነው።

የህዝብ ጥግግት ለማወቅ የሚከተሉትን ፎርሙላ ተጠቀሙ

$$\text{የህዝብ ጥግግት} = \frac{\text{በአንድ አካባቢ ሰፍረው የምገኝ ህዝብ}}{\text{ለመሬት ስፋት}}$$

ምሳሌ 1. በ400000ኪ.ሜ² ስፋት ባለው ሀገር ላይ 2000000 ህዝብ ይኖርበታል የሀገርቱ የህዝብ ጥግግት ስንት ይሆናል?

የተሰጠ	የሚፈለግ
ስፋት = 40000 ኪ.ሜ ²	የህዝብ ጥግግት?
የህዝብ ብዛት = 2,000,000	

$$\text{ሕሳብዎ ስሌት} = \frac{\text{የህዝብ ብዛት}}{\text{የመሬት ስፋት}} = \frac{2000000}{400000 \text{ ኪ.ሜ}^2} = \frac{200}{400} \text{ ኪ.ሜ}^2 = \frac{50}{100} \text{ ኪ.ሜ}^2$$

ይህ ማለት ከዚህ ሀገር 1 ኪ.ሜ² ስፋት ባለው መሬት ላይ 50 ሰዎች ይኖራሉ ማለት ነው።

ምሳሌ 2. በ2010 ዓ.ም የኢትዮጵያ ህዝብ ብዛት 79000000 ነበር። ጠቅላላ የመሬቷ ስፋት 1106000 ኪ.ሜ² ነው። በዚሁን አመት የኢትዮጵያ ህዝብ ጥግግት ምን ያህል ነው?

የተሰጠ

የሚፈለግ

የመሬት ስፋት = 1,106,000 ኪ.ሜ² የህዝብ

ጥግግት?

የህዝብ ብዛት = 79,000,000

ሒሳባዊ ስሌት

$$\text{የህዝብ ጥግግት} = \frac{79000000 \text{ ሰዎች}}{1106000 \text{ ኪ.ሜ}^2} = \frac{79000 \text{ ሰዎች}}{1106 \text{ ኪ.ሜ}^2} = \frac{71.42}{\text{ኪ.ሜ}^2} = \frac{71}{\text{ኪ.ሜ}^2}$$

ይህ ማለት በግምት 71 ሰዎች በ1ኪ.ሜ² ስፋት ባለው መሬት ላይ ሰፍረው ይገኛል ማለት ነው።

በህዝብ ሥርጭት ላይ ተፅዕኖ የሚያደርሱ ነገሮች

በየትኛውም የአለም ክፍል የህዝብ ጥግግትና ስርጭት በተመሳሳይ ሁኔታ

ተሰራጭተው አይገኝም። በሰዎች ስርጭትና አሰፋፈር ላይ ተፅዕኖ

የሚያደርሱ ሁለት ትላልቅ ምክንያቶች አሉ። እነሱም ተፈጥሮአዊና ሰው ሰራሽ

ምክንያቶች ናቸው።

ሀ. ተፈጥሮአዊ ምክንያቶች

የህዝብ ስርጭትን የሚወስኑ ተፈጥሮአዊ ምክንያቶች የሚባሉት አየር ንብረት፣

ለም አፈር፣ ውሃ፣ የመሬት አቀማመጥ የዕድሜ ሽፋን ናቸው።

- **የአየር ንብረት፡-** ምቹ ያልሆነ የአየር ንብረት(ሙቀት፣ ዝናብ፣ የፀሐይ ብርሃን፣ እርጥበትና ተስማሚ የሆነ አየር በሌለበት አካባቢ) ባለበት አካባቢ ሰዎች በብዛት አይኖሩም። ለምሳሌ፡- በበረሃማ አካባቢ ከፍተኛ ቅዝቃዜ ባለበት አካባቢ ሰዎች በብዛት አይኖሩም። ምክንያቱም በበረሃማ

አከባቢ ሰዎችን ለበሽታ የሚደርጉ ነፍሳቶች ስለሉ ሰዎች በብዛት አይኖሩም።

- የመሬት አቀማመጥ ምቹ ያልሆነና ውጣውረዳ የበዛበት አከባቢ ላይ ሰዎች በብዛት ሰፍረው አይገኙም። ምክንያቱም ለመኖር የሚያስፈልጋቸውን ነገሮች በቀላሉ ስለማያገኙ ለመኖር አስቸጋሪ ነው። ለምሳሌ ሰዎች በብዛት የማይኖሩባቸው አከባቢዎች በተራራማ፣ በገደላማና በረግረጋማ አከባቢዎች ናቸው።
- የውሃ መገኘት፡ ውሃ ለሰው ልጆች በጣም አስፈላጊ ነው። በቂና ንፁህ ውሃ ባለበት ቦታ ሰዎች በብዛት ለመኖር ይመርጣሉ።
- ለም አፈር፡ ለም አፈር ያለበት አከባቢ ለእርሻ ስራ ምቹ ነው። ለም አፈር በሌለበት አከባቢ ደግሞ ሰዎች ለኑሮ በቂ የሆነ ሰብልና ዕዕዋቶች ለማግኘት ስለሚቸገሩ ለመኖር አይመርጡም።

ለ. ሰው ሰራሽ ምክንያቶች

ሰው ሰራሽ ሆነው የህዝብ ሥርጭትን ከሚወስኑ ምክንያቶች ውስጥ እርሻ፣ ማዕድን ማወጣት፣ መጓጓዣና የመሳሰሉት ስሆኑ፤ የኢኮኖሚ እንቅስቃሴዎች

የፋብሪካዎች መስፋፋት፣ የከተሞችና የቴክኖሎጂ ዕድገትን ይወስናል። በተጨማሪም አከባቢን መጠበቅ እና አለመጠበቅ ቀጣይነት ያለው የህዝብ አሰፋፈር ላይ ቀጥተኛ የሆነ ተፅዕኖ ያደርሳል። እንደሁም ማህበረሰቡ የተሰማራበት የኢኮኖሚ እንቅስቃሴ ዓይነቶች እንደ እርሻ፣ ከብት ማርባትና ንግድ የመሳሰሉት ተመሳሳይ የሆነ የህዝብ አሰፋፈር የላቸውም።

2.2.4. ስደት

የግምገማ ጥያቄ

1. ስደት ምንድነው?

ስደት ማለት በቋሚነት ወይም ለግዛዊ ከሚኖሩበት አካባቢ ተነስተው ወደ ሌላ /አድስ/አካባቢ መስፈር ማለት ነው። በሌላ በኩል ደግሞ ስደት በፊት ከነበሩት ለቀው ወደ ሌላ ቦታ በመሄድ ለረጅም ጊዜ ወይም ከአንድ ዓመት በላይ ሌላ ቦታ መኖር ማለት ነው። በአጠቃላይ ህዝቦች ከነበሩበት ተነስተው ሌላ አድስ ቦታ መስፈር ማለት ነው። ሰዎች ከነበሩበት ቦታ ተነስተው ወደ ሌላ አድስ ቦታ የሚሰፍሩበት ምክንያቶች፡- ለትምህርት፣ ለሥራ፣ ለንግድ ተስማሚ የአየር ንብረት ለማግኘት፣ ምቹ ኑሮን ለመፈለግና በመሳሰሉት ምክንያቶች ልሆን ይችላል። ስደት በአንድ ሀገር ውስጥ ከገጠር ወደ ከተማ ወይም ከአንድ ቦታ ወደ ሌላ ቦታ ከሆነ የሀገር ውስጥ ስደት ይባላል። የአንድን ሀገር ድንበር ተሻግረው የሚደረግ የሰዎች እንቅስቃሴ ደግሞ ከአንድ ሀገር ወደ ሌላ ሀገር የሚደረግ ስደት ይባላል።

2.2.5 የህዝብ አሰፋፈር

የግምገማ ጥያቄ

1. በአካባቢ/ህ/ሽ ሰዎች እንዴት ሰፍረው ይገኛሉ?
2. የከተማና የገጠር የአሰፋፈር ልዩነት ግለፅ/ጫ?
3. በኢትዮጵያ ውስጥ ህዝቦች በብዛት ተጠጋግተው የሚኖሩባቸው አካባቢዎች የት የት ናቸው? ሰዎች በጣም ተበታትነው የሚኖሩባቸው ቦታዎችስ? ለክፍል ተማሪዎች አብራራ/ሪ?

የህዝብ አሰፋፈር ማለት ህዝቦች በተወሰነ ቦታ ላይ ሰፍረው የሚኖሩበት ሁኔታ ማለት ነው። የአንድ ሀገር የህዝብ ሥርጭት የምወሰነው በአየር ንብረት በመሬት አቀማመጥና በዕዕዎቶች ሥርጭት ጋር የተያያዘ ነው። የህዝብ አሰፋፈር የተለያዩ የኢኮኖሚ እንቅስቃሴዎችና የሰዎችን የአኗኗር ሁኔታ ከማሳየት አልፎ መሠረተ ልማትንና ሥነ ህዝብ ፓሊስን ለማዘጋጀት ቀጥተኛ የሆነ አቅጣጫን የሚያሳዩ ናቸው።

የሰባተኛ ክፍል ሕብረተሰብ ትምህርት የተማሪዎች መጽሐፍ

በአንድ አካባቢ የሚኖሩ የሰዎች ብዛትና የሥራ ሁኔታን መሠረት በማድረግ የህዝብ አሰፋፈርን በሁለት ትላልቅ ክፍሎች መክፈል ይቻላል። እነሱም የከተማና የገጠር አሰፋፈር ናቸው።

የከተማ ህዝብ፡- በከተማ ከገጠር በተሻለ ሁኔታ መሠረተ ልማት ተስፋፍተዋል

ይገኛል። በከተማ በጠባብ መሬት ላይ ብዙ ህዝብ በጋራ ተሰባስበው ይኖሩበታል። እንደ ኢትዮጵያ ህገ-መንግስት መሠረት ከተማ የሚባለው ቢያንስ ከ2000ና ከዚያ በላይ ህዝብ የያዘ ከሆነ ነው።

የከተማ አሰፋፈርን የሚወስኑ ሁኔታዎች

የከተማ አሰፋፈርን የሚወስኑ ነገሮች ብዙ ናቸው። ከእነዚህም ውስጥ፡-

- ተፈጥሮአዊ የሰው ቁጥር መጨመር
- ከገጠር ወደ ከተማ የሚደረግ ስደት
- የፋብሪካዎች መስፋፋት
- የመሠረተ ልማቶች መስፋፋትና የመሳሰሉት ናቸው።

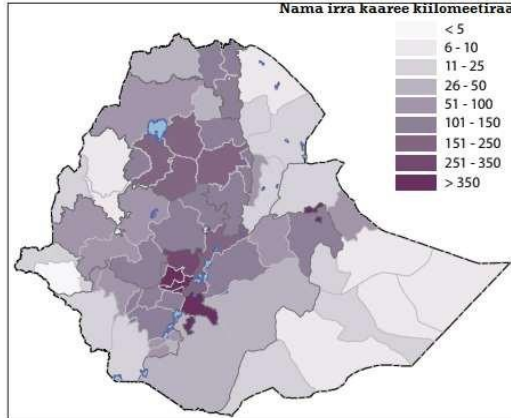
የገጠር ህዝቦች ፡-የገጠር ህዝቦች ኢኮኖሚ እንቅስቃሴ በእርሻ ላይ የተመሠረተ

በሰፊ መሬት ላይ የሚኖር በቤተሰብ ደረጃ የሚማሩ ሞያ ያላቸው በማደግ ላይ ባሉ ሀገሮች በጣም የሚበዙ ናቸው።

የኢትዮጵያ ህዝብ

የኢትዮጵያ ህዝብ ቁጥር በፍጥነት ከሚጨምሩባቸው የአፍሪካ ሀገሮች መካከል ትመደባለች። ኢትዮጵያ ከአፍሪካ ሀገሮች ከናይጄሪያ ቀጥላ በህዝብ ብዛት ሁለተኛ ደረጃ ላይ ትገኛለች። ኢትዮጵያም እንደ አለም ሀገሮች ሁሉ የህዝቦች ሥርጭት ተመሳሳይነት የለውም። ለምሳሌ በኢትዮጵያ ከፍተኛ ቦታዎች፣ ከደጋና ወይና ደጋ አካባቢ ከፍተኛ የሆነ የህዝብ ጥግግት የሚገኝ ስሆን በዝቅተኛ ቦታዎች፣ በቆላና በበረሃማ አካባቢዎች ህዝቦች በጣም ተበታትነው ይገኛሉ።

የሰባተኛ ክፍል ሕብረተሰብ ትምህርት የተማሪዎች መጽሐፍ



ካርታ. 2.1. የኢትዮጵያ ህዝብ ስርጭት (በሌላ ካርታ የቀየራል)

መልመጃ 2. 2

ለሚከተሉት ጥያቄዎች አጭር መልስ ሰጥ

1. ለህዝብ ቁጥር መጨመር ምክንያት የሆኑ ነገሮች ምን ምን ናቸው?
2. በህዝብ ብዛት ከ1ኛ-3ኛ የያዙ አህጉራት ሥም በቅደም ተከተል ዓፍ/ፊ
3. የህዝብ የዕድሜ ኘራሚድ ምንን ያሳያል? በስራ አሳይ/ዩ።
4. በ2013 ዓ.ም የ"ጠ" ሀገር ህዝብ ብዛት 120 ሚሊዮን ነው። በዚህ አመት 20 ሚሊዮን ህፃናት የተወለዱ ስሆን 500000 ህዝብ በድርቅ ምክንያት ከሀገር ተሰዷል። 450000 የሚሆኑ ህዝቦች ከተለያዩ ሀገሮች በስደት የገቡ ከሆነ ከላይ የተዘረዘሩት መረጃዎች መነሻ በማድረግ ቀጥለው ያለው ጥያቄዎች ስራ/ሪ

- ሀ. የውልደት መጠን
 - ለ. ወደ ሀገር ውስጥ የገቡ
 - ሀ. የውልደት መጠን
 - ሐ. ከሀገር የተሰደዱ
 - መ .የስደት ልዩነትን ሥራ/ሪ
5. የ"መ" ሀገር ህዝብ ብዛት 20 ሚሊዮን ነው። ከሀገርቷ ህዝብ ብዛት 45% ወንዶች ከሆነ የፃታ ሬሾ ፈልግ/ጊ
 6. 70 ሚሊዮን ከሚሆኑት ከ"ረ" ሀገር ህዝብ ውስጥ 20000000 የሚሆኑት ልጆች 10000000 የሚሆኑት ደግሞ አረጋጁያን ከሆኑ የጥገኝነት ሬሾ ስንት ይሆናል?

ሀ. የህፃናት ሬሾ፣

ለ. የአረጋዊያን ሬሾ፤

ሐ. ጠቅላል የሀገሪቱ የጥገኛ ሬሾ ፈልግ።

7. የ”የ” ሀገር መሬት ስፋት 400000 ኪ.ሜ² ነው። የሀገርቷ ህዝብ ብዛት ደግሞ 80000000 ከሆኑ የሀገርቷ ህዝቦች ጥግግት ስንት ይሆናል?

2.3 የመጓጓዣ ዕድገት ፅንሰ ሀሳብ

የግምገማ ጥያቄዎች

1. መጓጓዣ ምንድን ነው?
2. የመጓጓዣ ዓይነቶች ምን ምን ናቸው?
3. በአከባቢ/ህ/ሺ የሚኖሩ ህዝቦች ለማጓጓዣ የሚጠቀሙት ምን ምን ናቸው?
4. የመጓጓዣ እድገት ማለት ምን ምለት ነው?
5. ለመጓጓዣ እድገት የሚያስፈልጉ ነገሮች ምን ምን ናቸው?

መጓጓዣ ለአንድ ሀገር ኢኮኖሚ እድገትና መሰረተ ልማት መስፋፋት መሰረት ነው። መጓጓዣ ለአንድ ሀገር እድገት እንደ የደም ስር ይታያል። መጓጓዣ ሰዎችና የተለያዩ ዕቃዎችን ከአንድ ቦታ ወደ ሌላ ቦታ ለማጓጓዝ ያገለግላል። መጓጓዣ የርቀት ችግሮችን በመፍታት የአለም ህዝብ በቀላሉ እንድንገናኙ ያደርጋል ። ይህ ማለት ሰዎችና ዕቃዎችን ከነበሩበት ወደሚፈለግበት ቦታ በቀላሉ ስለሚያጓግ ነው። ዘመናዊ መጓጓዣ የተጀመረው በቅርብ ጊዜ ነው። እድገቱም ከ18ኛው ክፍል ዘመን እንዲሁትሪ አብዮት ጋር ከፍተኛ ግንኙነት አለው። ከእንዲሁትሪ አብዮት በኋላ ፈጣን የሆነ ዕድገትና ለውጥ በአለም ላይ አሳይቷል።

ሠንጠረዥ 2.3 የመጓጓዣ

ተ.ቁ	ክፍለ ዘመን	የመጓጓዣ የዕድገት-ደረጃ
1	በ18 ክፍለ ዘመን	• የስዊዘር ቦይ መቆፈር

የሰባተኛ ክፍል ሕብረተሰብ ትምህርት የተማሪዎች መጽሐፍ

		<ul style="list-style-type: none"> • የመኪና መንገድ መሠራት
2	በ19ኛ ክፍለ ዘመን	<ul style="list-style-type: none"> • የባቡር ሃዲድ መሠራት • በእንፋሎት የሚሰራ ጀልባ መጀመር
3	በ20ኛው ክፍለ ዘመን	<ul style="list-style-type: none"> • የሞተር መንገድ መጀመር • የአየር መንገድ መስፋፋት

2.3.1. መንገድ በኢኮኖሚና ማህበራዊ ዕድገት ውስጥ ያለው ድርሻ

የግምገማ ጥያቄ

1. መንገድ በኢኮኖሚ ዕድገት ውስጥ ያለውን ድርሻ ግለፅ/ጨ?
2. መንገድ በሰው ልል ማህበራዊ ኑሮ ውስጥ ያለው ጠቃሚታ ምንድነው? መንገድ በኢኮኖሚ እንቅስቃሴ ውስጥ አገልግሎት ከሚሰጡ ነገሮች አንዱ ነው። ከዝህ በላይ እንደተጠቀሰው ሰዎችና እቃዎችን ከአንድ ቦታ ወደ ሌላ ለማንቀሳቀስ ትልቅ ድርሻ አለው። ያለመንገድ የሀገር ውስጥና ውጪ ንግድ ለማካሄድ ማሰብ አይቻልም። የተለያዩ መሠረተ ልማቶችን እንደጤና፣ ትምህርት፣ መንገድ፣ ውሃ፣ ማብራትና የመሳሰሉትን ለማስፋፋት መንገድ ወሳኝ ነው። በአጠቃላይ መንገድ ከሚሰጣቸው ጥቅሞች የሚከተሉት ናቸው።

- ጥሬ ዕቃዎችን ለአምራቾች ያቀርባል፤
- የፋብሪካ ውጤቶችን ከተመረቱበት ቦታ ለተጠቃሚዎች ያቀርባል፤
- ድንገተኛና ተፈጥሮአዊ አደጋዎች በሚፈጠሩበት ጊዜ ፈጣን አገልግሎት ለመስጠት፤
- የሥራ ዕድል ይፈጥራል፤
- ሠራተኞችን ከቤት ወደ ስራ ቦታና ከስራ ቦታ ወደ ቤት ለማመላለስ ይረዳል፤

➤ የሰዎች እርስ በርስ ግንኙነት እንድጠናከር ያደርጋል።

2.3.2. የመጓጓዣ ዓይነቶች

የግምገማ ጥያቄዎች

1. በአከባቢያችሁ አገልግሎት የሚሰጡ የመጓጓዣ ዓይነቶች ምን ምን ናቸው?
2. ባህላዊ የመጓጓዣ ዓይነቶች ምን ምን ናቸው ? ዘመናዊ የመጓጓዣ ዓይነቶች የሚባሉትስ ምን ምን ናቸው?

መጓጓዣን በተለያዩ መስፈርቶች መክፈል ይቻላል። በዘመናዊነታቸው ላይ በመመስረት ባህላዊ መጓጓዣና ዘመናዊ መጓጓዣ በመባል ይከፈላሉ። በሌላ በኩል በምንዘብነት ወይም በምቀሳቀሱበት መንገድ ላይ በመመስረት በሶስት ይከፈላል። እነሱም የየብስ፣ የውሀና የአየር መጓጓዣ ናቸው።

ባህላዊ መጓጓዣ,

ባህላዊ መጓጓዣ ለዘመናዊ መጓጓዣ መሠረት ነው። ባህላዊ መጓጓዣ በጥንት ጊዜ ጀምረው ሰዎች በተለያዩ ባህላዊ የመጓጓዣ ዓይነቶችን ስጠቀሙ ቆይቷል። እነዝህ ባህላዊ የመጓጓዣ ዓይነቶች በሰውና በተለያዩ እንስሳት ጉልበት የሚከናወን ነው። ባህላዊ መጓጓዣን ለሁለት ክፍለን ማየት እንችላለን። እነሱም የየብስና የውሃ ባህላዊ መጓጓዣዎች ናቸው። የየብስ ባህላዊ መጓጓዣ በሰው ጉልበትና የተለያዩ እንስሳትን በመጠቀም የሚከናወን ነው። እነዝህም እንስሳት በፈረስ፣ በበቅሎ፣ በግመል፣ በአህያ ዕቃዎችን ከቦታ ቦታ ማጓጓዝ ነው። ባህላዊ የውሃ ላይ መጓጓዣ ደግሞ በአከባቢው ከሚገኙ ነገሮች/ከእንጨት ተሠርተው አገልግሎት የሚሰጡ ስሆኑ ከእንጨት የተሠሩ ገበቴ መሰል ዕቃዎች፣ ከቁጠማ፣ ከቃጫና ከግንድ የተሠሩ እንድሁም ጀልባ ሌሎች ናቸው።

የሰባተኛ ክፍል ሕብረተሰብ ትምህርት የተማሪዎች መጽሐፍ



ሥዕል 2.5 ባህላዊ መጓጓዣ

ዘመናዊ መጓጓዣ

ዘመናዊ መጓጓዣዎች በሚሰጡት ጥቅም ላይ ተመስርተው በሶስት ይከፈላሉ። እነሱም የየብስ፣ የውሃና የአየር መጓጓዣዎች ናቸው።



ሥዕል 2.6 ዘመናዊ መጓጓዣዎች

1. የየብስ መጓጓዣ

የየብስ መጓጓዣ ማለት መንገደኞችንና ዕቃዎችን ከአንድ ቦታ ወደ ሌላ ቦታ በመሬት ገፅታ ላይ ማንቀሳቀስ ማለት ነው። ይህ እንቅስቃሴ የምደረገውም በመኪና መንገድ ላይ፣ በባቡር ሂድድና በቱቦ አማካይነት ነው።

2. የውሃ መጓጓዣ

ይህም ከመጓጓዣ ዓይነት አንዱ ሆኖ በባህሮች፣ በወንዞችና በውቅያኖሶች ላይ ሰዎችንና ዕቃን በመርከብና በጆልባ ማንቀሳቀስ ማለት ነው። የውሃ

መጓጓዣ መንገዶችንና ዕቃዎችን አገር ውስጥና ወደ ውጭ አገር ለመጓጓዣ ይረዳል። የውሃ መጓጓዣ ብዙ ዕቃዎችን በማጓጓዣ የሚታወቅ የመጓጓዣ አይነት ነው።

3. የአየር መጓጓዣ

የአየር መጓጓዣ ካሉት መጓጓዣዎች ውስጥ በጣም ፈጣን የሆነ ነው። በተጨማሪም በአስቸጋሪ መልክ አምድር አንደተራራዎች፣ ሸለቆዎች፣ ኮረብታዎች፣ ውሃ ማዕከላት እና የመሳሰሉት ላይ ሰዎችንና ዕቃን ለማጓጓዣ ምቹ ነው። እንደሁም ቶሎ የሚበላሹ ዕቃዎችን በፍጥነት ረጅም ርቀት ለማድረስ ተመራጭ ነው።

2.3.3. የመንገድ ደህንነት፣ የትራፍክ አደጋዎችና በማህበራዊና ኢኮኖሚ ላይ የሚያመጣው ጉዳት

የግምገማ ጥያቄዎች

1. የመንገድ ደህንነት ማለት ምን ማለት ነው?
2. የመንገድ ደህንነት ለመጠበቅ ተጠያቂነት ያለው አካል ማን ነው?
3. መንገድን ስታቋርጥ የሚታደርገው ጥንቃቄ ምንድነው?
4. የትራፍክ ህግን ተከትሎ መጓዣ ከምን ዓይነት አደጋዎች ያድናል?

የመንገድ ደህንነት በአሽከርካሪዎች፣ በመኪና፣ በሰዎች፣ በመሠረተ ልማትና በመሳሰሉት ላይ ከፍተኛ ችግር ያደርሳል። የመንገድ ደህንነት መጠበቅ በሰዎችና በንብረት ላይ የሚደርሰውን አደጋ ለመቀነስ ያስችላል። ይህን የመንገድ ደህንነት አሽከርካሪዎችና ማንኛውም ግለሰቦች ልተገብሩ የሚገባ ነው። የመንገድ ደህንነት ከመንገድ አሰራር፣ የመንገድ ሁኔታ፣ የመኪናዎች ብዛትና የሚታገበሩ የትራፍክ ህጎችን ያጠቃልላል። የመንገድ ደህንነት እንደ የመንገድ መተዳደሪያ ህግና ደንብ፣ የመንገድ ደህንነት ስርአትና ቁጥጥር፣ አሽከርካሪዎችን ማብቃት፣ ተማሪዎችን በትምህርት ቤት ውስጥ ማስተማር፣ ለህብረተሰብ በቂ ግንዛቤ መፍጠር ፣ የመንገድ ደህንነት የምግልፁ ምልክቶች በመንገድ ዳር ማቆም፣ የመኪናዎችን ሞተር

የሰባተኛ ክፍል ሕብረተሰብ ትምህርት የተማሪዎች መጽሐፍ

ጤንነት በየጊዜው መፈተሽና የመሳሰሉትን ያጠቃልላል። የመንገድ ደህንነትን መጠበቅ ሁሉም ካሰበበት ከባድ ሥራ አይደለም።

የትራፍክ አደጋ

የትራፍክ አደጋ ማለት በመንገድ ምክንያት በመንገድ ላይ የሚደርሱ የተለያዩ አደጋዎች ማለት ነው። በመኪና መንገድ ላይ አደጋ ልያደርሱ የሚችሉ የተለያዩ ምክንያቶች አሉ። ከእነዚህም ውስጥ ጥቂቶቹ ምቹ የሆኑ ትላልቅ መንገድ አለመኖር፣ ጠጥቶ ማሽከርከር፣ ለረዥም ሰዓት ያለ ዕረፍት ማሽከርከር፣ ስልክ እያናገሩ ማሽከርከር፣ በፍጥነት ማሽከርከር፣ ከተፈቀደለት መንገድ ውጪ ማሽከርከር፣ ወደልተፈቀደ መስመር ለማለፍ መሞከር፣ ፍሬቻ ሳያሳዩ ለማዞር መሞከርና የመሳሰሉት ናቸው።



ሥዕል 2.7 የትራፍክ አደጋና የሚደርሰው ጉዳት

የትራፍክ መብራት

የትራፍክ መብራት በቀይ ብጫና አሬንጅ ቀለማት የተዘጋጀ ሆኖ መንገድ ዳር ቆሞ የትራፍክ ፓሊስን በመተካት በኤሌትሪክ የሚሠራ የትራፍክ ህግን የሚያስጠብቅ ነው።

የሰባተኛ ክፍል ሕብረተሰብ ትምህርት የተማሪዎች መጽሐፍ






- ቀይ መብራት በሚበራበት ሰዓት መኪና በለበት ይቆማል
- ብጫ መብራት በሚበራበት ሰዓት መኪናዎች እንቅስቃሴ ለመጀመር ይዘጋጃሉ
- አሬንጓዴ መብራት በሚበራበት ሰዓት ደግሞ የቆሙ መኪናዎች ይንቀሳቀሳሉ።



ሥዕል 2.8 ሰዎች መንገድን የሚያቋርጡበት ቦታ

ሠንጠረዥ 2.3 የመንገድ የትራፍክ ምልክት

ተ. ቁ	ምልክቶቹ የሚያስተላልፉት መመሪያ	የምልክቶች				
1	የሚያስጠነቅቁ					
2	የሚከለክሉ					
3	የሚያስገድዱ					
4	ቅድሚያ የሚያሰጡ					
5	መረጃ የሚሰጡ					

6	አቅጣጫ የሚያሳዩ			
---	------------	---	---	--

መንገድን ለማቋረጥ ልወሰድ የሚገቡ ጥንቃቄዎች

- መኪና ከሚንገዘበት መንገድ ርቆ መቆም
- ለመኪና በተፈቀደበት ጊዜ ቆሞ ማሳለፍ
- ግራና ቀኝን ማየትና ማዳመጥ
- ለሰዎች በተፈቀደ ቦታ ብቻ ማቋረጥ
- ለሰዎች በተፈቀደ ጊዜ ቀስ ብሎ ማለፍ

በአጠቃላይ የመንገድ አገልግሎት በአለም ላይ በምጣኔ ሀብት ፣ ፖለቲካና ማህበራዊ ዕድገት ውስጥ ከፍተኛ ሚና አለው። ዛሬ ላይ ያለውን የመንገድ ዕድገት ደረጃ ሰዎች እንደፍላጎታቸው ከአንድ ቦታ ወደ ሌላ ቦታ መንቀስቀስ የሚያስችል ሁኔታን ፈጥሮአል። ስለዚህ ለትራፊክ ደንቦች መገዛት ከሁሉም ዜጋ የሚጠበቅ ነው።

ትግበራ ጥያቄዎች

1. እናንተ በሚትኖሩበት አካባቢ የመኪና መንገድ ካለ በመንገድ ዳር የቆሙና መረጃ የሚሰጡ የትራፊክ ምልክቶችን በቡድን ሆኖችሁ 5 ምልክቶችን ሥዕል እንሱ፤ ለምን አገልግሎት እንደምውሉ ጻፍ? በመቀጠልም ስለ ምልክቶቹ የሚያወቁ ሰዎች ወይም የትራፊክ ፓሊስ ጋር በመሄድ ምልክቶቹ ለምን አገልግሎት እንደሚውሉ ጠይቁ። ያገኛችሁትን መልስ ደግሞ ለክፍል ተማሪዎች አብራራ/ሪ?
2. በሠንጠረዥ 2.4. ላይ የተቀመጡት ምልክቶች እያንዳንዳቸው ምን ዓይነት መረጃ እንደምያስተላልፉ መብራራያ ስጥ/ጪ?

መልመጃ2.3

ለሚከተሉት ጥያቄዎች አጭር መልስ ስጥ/ጫ

1. መጓጓዣ ማለት ምን ማለት ነው?
2. ዘመናዊ መጓጓዣዎች ስንት ናቸው? ስማቸውን ዓፍ/ፊ?
3. የትራፊክ ህግን ጠብቆ መጓዝ ከምን አይነት አደጋዎች ያድናል?
4. ስድስቱን የትራፊክ ምልክቶች ምንድናቸው ?ለእያንዳንዳቸው ምሳሌ ስጥ/ጫ?

መንገድ ለማቋረጥ የሚንተገብራቸውን ጥንድዎች ዘርዘር/ሪ።

የምዕራፉ ማጠቃለያ

- የሰው ልጅ አመጣጥ ላይ ሁለት መላ ምቶች አሉ። እነሱም ሳይንሳዊና ሃይማኖታዊ መላምት ናቸው።
- ኢትዮጵያና ሌሎች የአፍሪካ ቀንድ አገሮች በሰው ልጅ ታሪክ ውስጥ ከፍተኛ ቦታ አላቸው።
- አርክኦሎጂ ሳይንስ ሆኖ ስለ ጥንታዊ የሰው ልጅ አመጣጥ ከቅሪታ አካል የሚያጠና ነው።
- አውስትራሎኒትክስ በረዥም ጊዜ ዝግመታዊ ለውጥ ከጀናስ ዘር ወደ ሆሞ ሀብልስ፣ ሆሞ እሬክተስና ሆሞ ሳፒያንስ እያደገ የመጣ ነው።
- በአለም ላይ የሰው ልጅ ሥርጭት ወይም አሰፋፈር አይመሳሳልም። የመለያየቱ ምክንያት የአየር ንብረት፣ የምግብ አቅርቦት፣ በሽታና ጦርነት በዋናነት ይጠቀሳሉ።
- የህዝብ ቁጥርን የሚቀይሩ ሁኔታዎች ውልደት፣ ሞትና ስደት ናቸው።
- የአንድ ሀገር ህዝብ በምጣኔ ሀብትና በማህበራዊ ጉዳዮች ውስጥ በሚያደርጉት ተሳትፎ ልጆች፣ ጎልማሶችና አረጋዊያን ተብለው በሶስት ይከፈላሉ።

የሰባተኛ ክፍል ሕብረተሰብ ትምህርት የተማሪዎች መጽሐፍ

- የህዝብ ጥግግት ማለት በአንድ በተወሰነ ቦታ የሚኖር የህዝብ ብዛት ማለት ነው።
- መጓጓዣ ማለት ሰዎች ወይም ዕቃዎች ከአንድ ቦታ ወደ ሌላ ቦታ መጓጓዝ ማለት ነው። የመጓጓዣ አይነቶች ሁለት ሲሆኑ እነሱም ባህላዊና ዘመናዊ የመጓጓዣ አይነቶች ናቸው።
- የትራፊክ ደህንነት ማለት ማንኛውም ግለሰብ በመጓጓድ ስገለገል ልክተለዉ የሚገባ የትራፊክ ህግ ነው።
- የትራፍክ አደጋ ማለት በሰዎችና በንብረት ላይ በማጓጓዣ ምክንያት የሚደርስ አደጋ ማለት ነው።
- የትራፊክ ህጎች ማለት ግለሰቦችና አሽከርካሪዎች መጓጓድ ስጠቀሙ ልተገብሩ የሚገባቸው የትራፊክ ደንቦች ናቸው።

የምዕራፉ ማጠቃለያ መልመጃ

ክፍል I. የሚከተሉት ጥያቄዎች ትክክል የሆነው እውነት ትክክል ያልሆነውን ሐሰት በማለት ባፍ/ፊ

1. ሁሉም ሀይማኖቶች ሰውን የፈጠረው እግዚአብሔር ወይም ፈጣሪ ነው ብለው ያምናሉ።
2. የሰው ልጅ አመጣጥ በዝግመታዊ ለውጥ ከሆሞወደ አውስትራሎኻትክስ እየተቀየረ የመጣ ነው።
3. ስደት የአለምን ህዝብ ቁጥር ይቀይራል።
4. ባህላዊ መጓጓዣ የየብስ እንጅ የውሃና የአየር መጓጓዣዎች የለውም።
5. የትራፍክ ደህንነትን ማስጠበቅ የትራፍክ ፓሊስ ድርሻ ብቻ ነው

ክፍል II. በ ለ ሥር የተዘረዘሩት በ ሀ ሥር ካሉት ጋር አዛምድ/ጂ

- | | |
|--------------|--------------------|
| ሀ | ለ |
| 6. ባህላዊ መጓጓዣ | ሀ. በህይወትና በንብረት ላይ |

ጉዳት ያደርሳል

7. ዘመናዊ መጓጓዣ ለ. በመንገድ ዳር የሚቆም
8. የትራፍክ ህግ ሐ. አውሮጳን
9. የትራፍክ ምልክቶች መ. በቅሎ
10. የመኪና አደጋ ሠ. ግራና ቀኝን አይቶ መንገድ ማቋረጥ
- ክፍል III ለሚከተሉት ጥያቄዎች ትክክለኛውን መልስ በመምረጥ ጻፍ/ፊ**
11. የሰዉ ልጅ መገኛ ነዉ ተብሎ ይገመታል
 ሀ. የአፍርካ ቀንድ ሐ. አሜሪካ
 ለ. አዉሮፓ መ. አውስትራሊያ
12. በመጀመሪያ ጊዜ በሁለት እግሩ ቆሞ መሄድ የጀመረው የሰው ዘር የቱ ነው?
 ሀ. ሆሞ ሀብሊስ ሐ. ሆሞ ሳፒያንስ
 ለ. ሆሞ ኤሬክተስ መ. ሁሉም መልስ ናቸው
13. ከሚከተሉት ውስጥ የህዝብ ቁጥር የሚቀንስ ተፈጥሮአዊ ክስተት የቱ ነው?
 ሀ. ውልደት ሐ. የሰዎች ዝውውር
 ለ. ስደት መ. ሞት
14. ከሚከተሉት ውስጥ የትራፍክ አደጋ ምክንያት ያልሆነዉ የቱ ነዉ?
 ሀ. ምቹ ያልሆነ የመኪና መንገድ መኖር
 ለ. የትራፍክ ህግን የሚያሳዩ የትራፍክ ምልክቶችን ማቆም
 ሐ. ከፍጥነት በላይ ማሽከርከር
 መ. የማብራት ምልክት ሳያሳይ መኪናን ማዞር።
15. ከሚከተሉት የትራፍክ ምልቶች ተሽከሪካሪዎች ለማቆም የሚያገለግል የቱ ነው?



ክፍል IV ለሚከተሉት ጥያቄዎች ባዶ ቦታውን በመሙላት መልስ/ሽ

- 16. ለመጀመሪያ ጊዜ በእጅ መስራት የጀመራው ጥንታዊ የሰው ዘር--
ይባላል።
- 17. ሰዎችንና ዕቃን ከአንድ ቦታ ወደ ሌላ ቦታ ማንቀሳቀስ -----
ይባላል

ክፍል 5 ለሚከተሉት ጥያቄዎች አጭር መልስ ስጥ/ጩ

- 18. የትራፍክ አደጋን ልያስከትሉ ከሚችሉት ምክንያቶች ውስጥ ሶስት
ጻፍ/ፊ
- 19. መንገድን ስናቋርጥ ልናደርጋቸው የሚገቡ ጥንቃቄዎችን ዘርዝር/ሪ

ክፍል VI የሚከተሉትን ጥያቄዎች በስራ አሳይ/ዩ

- 20. የጃፓን ሀገር ህዝብ ብዛት 50 ሚሊዮን ብሆንና ከእነዚህ ውስጥ 65
% ጎልማሶችና 5% አረጋዊያን ናቸው። ጠቅላላ የሀገርቷ የቆዳ
ስፋት ደግሞ 10 ሚሊዮን ኪ.ሜ² ነው። እነዚህን መረጃዎች
መሠረት በማድረግ

- ሀ. የሀገርቱ የአምራች ኃይል ስንት ይሆናል?
- ለ. የሀገሪቱ የጥገኝነት ሬሾ ስንት ይሆናል
- ሐ. የሀገሪቱ የህዝብ ጥግግት ስንት ነው?

ምዕራፍ 3

ሰውና የተፈጥሮ ሀብት

ከምዕራፉ የሚጠበቁ የመማር ውጤቶች፡

- በሰውና በተፈጥሮ ሀብቶች መካከል ያለውን ግንኙነት ትገልጻለህ/ሽ
- ተፈጥሮ ሀብቶችን በመገኛቸው መጠንና በጠቀሜታቸው መክፈል ትችላለህ/ሽ
- በተፈጥሮ ሀብቶች አጠቃቀም ላይ ተፅዕኖ የሚያደርሱትን ነገሮች ትዘረዝራለህ/ሽ
- በሰውና በተፈጥሮ ሀብቶች መካከል ያለውን ግንኙነት፣ ከአቅም በላይ፣ ተመጣጣኝና ከአቅም በታች ህዝብ ምን እንደ ሆኑ ትገልጻለህ/ሽ

መግቢያ

ባለፉት ምዕራፎች ውስጥ ስለ ሰው ልጅ ዝግመታዊ ለውጥ፣ የህዝብ ቁጥር መቀየር፣ የህዝብ አሰፋፈር፣ የኢትዮጵያ ህዝብ ስርጭትን መማራችሁ ይታወቃል።

በዚህ ምዕራፍ ውስጥ ደግሞ ስለ ሰው ልጅና አካባቢያዊ ግንኙነት፣ ከአቅም በላይ፣ ተመጣጣኝና አነስተኛ የሆነ የህዝብ አሰፋፈር የሚሉ ፅንሰ ሃሳቦች ይቀርባሉ። በተጨማሪም በኢትዮጵያ ውስጥ የተፈጥሮ ሀብቶች ላይ

በተፈጥሮና ሰው ሰራሽ አማካይነት የሚመጡ ተፅዕኖዎች እንደ የእርሻ መሬት መስፋፋት፣ የከተሞች መስፋፋትና የህዝብ አሰፋፈርን ትማራላችሁ።

ተማሪዎች ቢያንስ ልደርሱበት የሚገቡ የመማር ብቃቶች

- በተፈጥሮ ሀብትና በሰዎች መካከል ያለውን ግንኙነት ትገልጻለህ/ሽ።
- የተፈጥሮ ሀብት ዓይነቶችና የሚሰጡትን ጠቀሜታ ትለያለህ/ሽ።
- በተፈጥሮ ሀብት ላይ ጉዳት ልያደርሱ የሚችሉ ነገሮችን ትዘረዝራለህ/ሽ።
- በተፈጥሮ ሀብትና ሰዎች መካከል ያለውን ግንኙነት /ከአቅም በላይ የሆነ የህዝብ አሰፋፈር ተመጣጣኝ የህዝብ አሰፋፈርና አነስተኛ የህዝብ አሰፋፈር/ ምን እንደሆኑ ትገልጻለህ/ሽ።
- የሚታደሱና የማይታደሱ የተፈጥሮ ሀብት መካከል ያለውን ልዩነት ትገልጻለህ/ሽ።

3.1 በሰውና ተፈጥሮ አካባቢ መካከል ያለው ግንኙነት የግምገማ ጥያቄዎች

1. በሰው ልጅና በአካባቢያቸው ያለውን ልዩነት ግለፅ/ጫ
2. በሰዎችና አካባቢ ግንኙነት ላይ ተፅዕኖ የሚያደርሱ ነገሮች ምን ምን ናቸው?
3. የሰው ልጅ በተፈጥሮ የተገኘ ነገሮችን ሁሉንም ይጠቀምበታል? የማይጠቀምበት ከሆነ እንቅፋት የሆነበት ምንድነው?
4. ከአቅም በላይና ከአቅም በታች ህዝብ መካከል ያለው ልዩነት ምንድነው?

የሰው ልጅና አካባቢ የማያቋርጥ ግንኙነት አላቸው። ይኸውም የሰው ልጅ ለመኖር የሚያስፈልጋቸውን ነገሮች ሁሉ የሚያገኘው ከአካባቢ ነው። ስለዚህ የሰው ልጅ ከተፈጥሮ አካባቢው ውጭ መኖር አይችልም። ይሁን

እንጂ በተፈጥሮ የተገኙትን ነገሮች ሁሉ እየተጠቀመቀ አይደለም። ለዚህም ምክንያት የሚሆኑት የሳይንስና ቴክኖሎጂ፣ የዕውቀት እና የገንዘብ እጥረት ናቸው። በተፈጥሮ ከተገኙት እስካሁን ሰዎች ያልደረሱበት የተፈጥሮ ሀብቶች ብዙ አሉ። ይህ ማለት ሳይንስና ቴክኖሎጂ እያደገ ሲሄድ እነዚህ የተፈጥሮ ሀብቶችን ጥቅም ላይ ያውላል ማለት ነው።

ለምሳሌ በበረሃማ አካባቢ የሚገኘውን አፈር እስከ አሁን በውሃ እጥረት ምክንያት ለእርሻ ሥራ ያልዋለውን ከጊዜ በኋላ በዘመናዊ መስኖ በመጠቀም ተፈጥሮን ወደ ጥቅም እየቀየረ ነው።

በተገቢው ሁኔታ ያለመጠቀም የተፈጥሮ ሀብቶችን ለብክነት ይዳርጋል። ይህ ሁኔታ አፍሪካ ውስጥ ከሰሐራ በታች ያሉ አገሮች ላይ ይታያል። በመሆኑም የተፈጥሮ ሀብቶችን በተገቢ ሁኔታ መጠቀም ያስፈልጋል።

የተፈጥሮ ሀብቶች አጠቃቀም በተመለከተ በሰውና ተፈጥሮ ሀብቶች መካከል ያለው ግንኙነት፣ ከአቅም በላይ፣ ተመጣጣኝና ከአቅም በታች አሰፋፈር በማለት መግለፅ ይቻላል።

ከአቅም በላይ የሆነ የህዝብ አሰፋፈር

ከአቅም በላይ የሆነ የህዝብ አሰፋፈር ማለት የአንድ ሀገር የህዝብ ብዛት ከሀገሪቷ የተፈጥሮ ሀብት መጠን በላይ ሲሆን ማለት ነው። ከአቅም በላይ የሆነ ህዝብ ያላቸው ሀገሮች የተፈጥሮ ሀብቱ ከሰው ቁጥር በታች ስለሆነ መጠኑ ቀስ በቀስ እየተመናመነ ይሄዳል። ከአቅም በላይ የሆነ ህዝብ ያላቸው ሀገሮች ለብዙ አይነት ኢኮኖሚያዊና ማህበራዊ ችግሮች የተጋለጡ ናቸው። ከነዚህም ችግሮች ዋና ዋናዎቹ ከፍተኛ የሆነ ድህነት ፣ ሥራ አጥነት፣ የመሠረተ ልማት ችግርና የፖለቲካ አለመረጋጋት ናቸው።

የተመጣጠነ የህዝብ ቁጥር

የተመጣጠነ የህዝብ ቁጥር ማለት የአንድ ሀገር የህዝብ ብዛትና በሀገሪቱ ውስጥ የሚገኘው የተፈጥሮ ሀብት መጠን ተመጣጣኝ ሲሆኑ ነው። እነዚህ ሀገሮች ውስጥ ሰዎች የተሸለ ህይወት ይኖራሉ። ኢኮኖሚያዊ ዕድገት ሊኖር ይችላል። መሰረተ ልማትም ሊስፋፋ ይችላል።

ከአቅም በታች የሆነ የህዝብ ቁጥር

ከአቅም በታች የሆነ የህዝብ ቁጥር ማለት ሀገርቷ ያላት የህዝብ ቁጥር ከተፈጥሮ ሀብት መጠን በታች ሆነው ሲገኝ ነው። በተወሰኑ የአለም ሀገሮች ውስጥ የተፈጥሮ ሀብት መጠን ከህዝብ በላይ በልጠው ይገኛሉ። በነዚህ ሀገሮች ውስጥ የተፈጥሮ ሀብት ሁሉ ጥቅም ላይ አይውልም።

3.2 የተፈጥሮ ሀብት ዓይነቶች

የተግባር ጥያቄ

1. ራሳቸውን የሚያድሱና ራሳቸውን የማያድሱ የተፈጥሮ ሀብት መካከል ያለው ልዩነት ምንድን ነው?
2. ራሳቸውን የሚያድሱና ራሳቸውን የማያድሱ የተፈጥሮ ሀብት ዓይነቶችን ዘርዘር/ሪ?

የተፈጥሮ ሀብት ማለት በተፈጥሮ ያሉና ለሰው ልጅ የተለያዩ አገልግሎት የሚሰጡ ናቸው። እነዚህ የተፈጥሮ ሀብቶች የተለያዩ ናቸው። ከነዚህም ውስጥ ዋና ዋናዎቹ ራሳቸውን የሚያድሱና ራሳቸውን የማያድሱ የተፈጥሮ ሀብቶች ናቸው።

3 . 2 .1 ራሳቸውን የሚያድሱ የተፈጥሮ ሀብቶች

ራሳቸውን የሚያድሱ የተፈጥሮ ሀብቶች በተፈጥሮ ራሳቸው መተካት የሚችሉ ናቸው። ለምሳሌ ውሃ የፀሐይ ብርሃን፣ ደን፣ አየር፣ አፈርና የመሳሰሉት ናቸው። የሰው ልጅ ፍላጎቱን ለሚሟላት የተለያዩ የተፈጥሮ

የሰባተኛ ክፍል ሕብረተሰብ ትምህርት የተማሪዎች መጽሐፍ

ሀብቶችን ይጠቀማል። ይሁን እንጂ የተፈጥሮ ሀብትን በአግባብ ካልተጠቀሙበት ክፍተኛ ጉዳት ሊደርስባቸው ይችላል።

3. 2 . 2 ራሳቸውን የማያድሱ የተፈጥሮ ሀብቶች

ራሳቸውን የማያድሱ የተፈጥሮ ሀብት ማለት አንድ ጊዜ ተጠቅመን ካለቁ በኋላ መልስን ልናገኛቸው የማንችል የተፈጥሮ ሀብቶች ናቸው። ለምሳሌ ብረት ማዕድን፣ የተፈጥሮ ጋዝ፣ ነዳጅ ዘይትና የመሳሰሉት ናቸው።

3.3 ኢትዮጵያ ውስጥ በተፈጥሮ ሀብት ላይ ተፅዕኖ የሚያደርሱ ነገሮች የግምገማ ጥያቄዎች

1. በተፈጥሮ ሀብት ላይ ተፅዕኖዎችን የሚደርሱ የተፈጥሮ ክስተቶች ምንድናቸው?
2. በሰው ሰራሽ ምክንያት በተፈጥሮ ሀብቶች ላይ የሚደርሱ ተፅዕኖዎች ምንድናቸው?

በተፈጥሮ ሀብቶች ላይ ተፅዕኖ በሁለት መንገድ ሊደርስ ይችላል። እነሱም በተፈጥሮና በሰው ሰራሽ ምክንያት ናቸው። በተፈጥሮ የሚመጡ ተፅዕኖዎች የእሳተ-ገሞራ ፍንዳታ፣ የመሬት መንቀጥቀጥና ሰደድ እሳት ናቸው።

በተፈጥሮ ሀብቶች ላይ ክፍተኛ ተፅዕኖ ሊደርስ የሚችለው በሰዎች ተፅዕኖ አማካይነት ነው። ከእነዚህም የተወሰኑት፤

የህዝብ ብዛት መጨመር

የሰዎች ቁጥር ከጊዜ ወደ ጊዜ እየጨመረ መሄድ ለተፈጥሮ ሀብቶች ብክነት ክፍተኛ ምክንያት ነው። በተለይ በአሁኑ ጊዜ በአገራችን የህዝብ ቁጥር አሳሳቢ ሁኔታ እየጨመረ ከመሆኑ የተነሳ በተፈጥሮ ሀብት ላይ ጉዳት እየደረሰ ነው።

የእርሻ መሬት ማስፋፋት

ከጊዜ ወደ ጊዜ እየጨመረ የመጣው የህዝብ ቁጥር በግጦሽ መሬት፣ በደኖችና በፓርኮች የተሸፈኑ ቦታዎችን በመመንጠር ወደ እርሻ መሬት እየተቀየረ ነው። ይህ ድርጊት በዚህ ሁኔታ ከቀጠለ ከፍተኛ ጉዳት በተፈጥሮ ሀብት ላይ ያደርሳል።

የከተሞች መስፋፋት

በአሁኑ ጊዜ በኢትዮጵያ ውስጥ ከተሞች በጣም እየተስፋፉ መሆናቸው ይታወቃል። በዚህ የተነሳ የመኖሪያ ቤት ፍላጎት እየጨመረ በመምጣቱ በህገ-ወጥ መንገድ የከተሞች መስፋፋት ይከሰታል።

መልመጃዎች

1. ራሳቸውን የሚያድሱና ራሳቸውን የማያድሱ የተፈጥሮ ሀብት በመለየት ዘርዘር/ሪ።
2. አለግባብ የተፈጥሮ ሀብቶች አጠቃቀም የሚኖር ከሆነ በሰው ለጅና በተፈጥሮ ሀብቶች መካከል ያለው ግንኙነት ተቃራኒ ይሆናል። ይህ ሀሳብ ምንን ለመግለፅ ታስቦ ነው?
3. በሰውና በተፈጥሮ ሀብቶች መካከል ያለው ግንኙነትን በተመለከተ፣ ከአቅም በላይ፣ ተመጣጣኝና ከአቅም በታች የሚሉትን ነጥቦች ግለፅ/ጨ ከአቅም በላይ፣ ተመጣጣኝና ከአቅም በታች የሚሉትን ነጥቦች ግለፅ/ጨ
4. በአገራችን ውስጥ በተፈጥሮ ሀብት ላይ ተፅዕኖ የሚያደርሱ ነገሮች ምንድናቸው? ዘርዘር/ሪ።

የተማሪው/ዋ ተግባር

1. በትምህርት ቤት/ሽን አካባቢ የሚገኙ የተፈጥሮ ሀብቶችን ከጎበኘህ/ሽ በኋላ ራሳቸውን የሚያድሱና ራሳቸውን የማያድሱ የተፈጥሮ ሀብት ለይተህ/ሽ ዘርዘር/ሪ።
2. የትምህርት ቤት/ሽን አካባቢን ቀላል ካርታ በማዘጋጀት በተፈጥሮ ሀብት ዓይነትን አመቺ በሆኑ ምልክቶች አሳይ/ዩ።

የምዕራፉ ማጠቃለያ

- የሰዉ ልጅና የተፈጥሮ ሀብት የማይለያይ ግንኙነት አላቸዉ። ስለዚህ የተፈጥሮ ሀብት እንዳይባክን በጥንቃቄ መጠቀም አስፈላግ ነዉ።
- የተፈጥሮ ሀብትን በጥንቃቄ የማንጠቀምበት ከሆነ ከፍተኛ ብክነት ይደርስበታል።
- ከግዜ ወደ ግዜ እየጨመራ ያለዉ የህዝብ ቁጥር መስረታዊ ፍላጎቶችም እየጨመረ ይሄዳል። በጥንቃቄ ጉድለት የሰዉ ልጅ የራሱን ፍላጎት ለማሟት በተፈጥሮ ሀብት የሚጠቀም ከሆነ የተፈጥሮ ሀብቶች ላይ ጉዳት ሊደርስ ይችላል። ለምሳሌ፣ የእረሻ መሬትን ለመስፋፋት ሲባል ደኖችና ፓርኮች ይመነጥራሉ። ይህ በመሆኑ በተፈጥሮ ሀብትና በሰዎች መካከል ያለዉ ግንኙነት ማመጣጠን ያስፈልጋል።

የምዕራፉ ማጠቃለያ መልመጃ

ክፍል I. ለሚከተሉት ጥያቄዎች ትክክለኛዉን መልስ የያዘዉን ፊደል በመምረጥ መልስ/ሽ።

1. ከሚከተሉት የተፈጥሮ ሀብቶች ዉስጥ ራሳቸዉን የሚያድሰዉ የትኛዉ ነዉ?
 ሀ/ ዉሃ ለ/ የተፈጥሮ ጋዝ ሐ/ እንቁ መ/ ነሐስ
2. ከሚከተሉት ዉስጥ የተፈጥሮ ሀብት ያልሆነዉ የቱ ነዉ?
 ሀ/ አፈር ለ/ ደን ሐ/ ማዕድን መ/ መልስ የለም።
3. ከሚከተሉት ዉስጥ በሰዎችና በተፈጥሮ ሀብት መካከል ባለዉ ግንኙነት አማካይነት ችግር የማይኖረዉ በየቱ ነዉ?

የሰባተኛ ክፍል ሕብረተሰብ ትምህርት የተማሪዎች መጽሐፍ

- ሀ/ አነስተኛ የሆነ የህዝብ ብዛት
- ለ/ ከተፈጥሮ ሀብት በላይ የሆነ የህዝብ ብዛት
- ሐ/ የህዝብና የተፈጥሮ ሀብት መመጣጠን
- መ/ መልስ የለም

ክፍል 2. ለሚከተሉት ጥያቄዎች አጭር መልስ ስጥ/ጩ::

1. የተፈጥሮ ሀብት ዓይነቶች ምን ምን ናቸው?
2. በሰው ልጅና በተፈጥሮ ሀብት መካከል ያለውን ግንኙነት ግለፅ/ጩ::
3. በተፈጥሮ አጠቃቀም ላይ ጉዳት ሊያደርሱ የሚችሉት ነገሮች ዘርዘር/ሪ?
4. ከአቅም በላይ የህዝብ ብዛት ማለት ምን ማለት ነው?

ክፍል 3. የሚከተሉትን ባዶ ቦታዎችን ሙሉ/ይ

1. በእትዮጵያ ውስጥ በተፈጥሮ ሀብቶች ላይ ተፅዕኖ የሚያደረሱ ነገሮች _____, _____ እና _____ ናቸው::
2. ተጠቅመንበቸው ከለቁ በኋላ ተመልሰው የማናገኘቸው የተፈጥሮ ሀብቶች _____ ይባላሉ::

ምዕራፍ 4

ቀደምት የአለም ስልጣኔ ከጥንት እስከ መካከለኛው ክፍለ ዘመን

ከዚህ ምዕራፍ የሚጠበቁ የትምህርቱ ውጤቶች፡

- በካርታ ላይ በወንዞች ዳርቻ የተመሰረቱትን ስልጣኔዎች ታሳያለህ/ሽ
- ቀደምት የአለም ስልጣኔንና የመካከለኛው ክፍለ ዘመን ስልጣኔን ታመዛዝናለህ/ሽ
- የቀደምት አለም ስልጣኔ ውጤቶችን ታብራራለህ/ሽ
- የክርስትና ሀይማኖት አመጣጥና መስፋፋትን ትገመግማለህ/ሽ
- የእስልምና ሀይማኖት አመጣጥ እና መስፋፋትን ትገመግማለህ/ሽ
- የባዛንታይን ኢምፓየር ባህሪያትን ትገልጻለህ/ሽ፡፡

መግቢያ

በአክባቢ ሳይንስ ትምህርት ውስጥ ስለ ማህበራዊ ኑሮ፣የተፈጥሮ ሀብት እንክብካቤ፣ ግብርና እና ንግድ በክልል እና በኢትዮጵያ ያለበትን ደረጃ ተምረህል/ሻል፡፡በተጨማሪም በምስራቅ አፍሪካ ውስጥ የሚገኙ ታሪካዊ የቅርሶች ማዕከላትን ለይተህል/ሻል፡፡በዚህ ምዕራፍ ደግሞ ስለ ቀደምት የአለም ወንዞች ዳርቻ ስልጣኔዎች እንዴት እንደ ተጀመሩ ትማራለህ/ሽ፡፡ለምሳሌ የጥንት ሜሶፖታሚያ፣ የህንድ ስልጣኔ፣ የቻይና እና የግሪክ-ሮማን ስልጣኔዎችን በስፋት ትማራለህ/ሽ፡፡እንዲሁም ስለ

ክርስትናና እስልምና ሀይማኖቶች አመጣጥ እና መስፋትን ትማራለህ/ሽ። በመጨረሻም ስለ ባዛንታየን ኢምፓየር ባህሪያትን ትማራለህ/ሽ።

ተማሪዎች ቢያንስ ሊኖራቸው የሚገባ የትምህርት ብቃት፤

- በወንዞች ዳርቻ የተመሰረቱትን ስልጣኔዎች ትዘረዝራለህ/ሽ
- ቀደምት የአለም ልጣኔዎች እና የመካከለኛውን ክፍለ ዘመን የአለም ስልጣኔዎችን ታመዛዝናለህ/ሽ
- ቀደምት የአለም ስልጣኔና የመካከለኛው ክፍለ ዘመን ስልጣኔ ውጤቶችን ታብራራለህ/ሽ
- የክርስትናና የእስልምና ሀይማኖት አመጣጥ እና መስፋትን ታብራራለህ/ሽ
- የባዛንታየን ኢምፓየር ታሪክ እና ባህሪያትን ታብራራለህ/ሽ።

4.1.ጥንታዊ የአለም ስልጣኔ

4.1.1.የሜሶፖታሚያ ስልጣኔ

የሙከራ ጥያቄዎች

1. የወንዞች ዳርቻዎች ለቀደምት የአለም ስልጣኔዎች ምቹ ያደረጋቸው ምንድነው?
2. የሜሶፖታሚያ ስልጣኔ የተጀመረበትን አህጉር ታውቃለህ/ሽ?
3. ስለ ሀሞራቢ ህጎች የምታውቀውን/ውን ለክፍል ጓደኞችህ አብራራ/ሪ

የሜሶፖታሚያ ስልጣኔ ከአለም ስልጣኔዎች ሁሉ ቀደምት ነው። በግሪክ ቋንቋ ሜሶፖታሚያ ማለት "በሁለት ወንዞች መካከል የሚገኝ መሬት" ማለት ነው። በዚህ መሰረት የሜሶፖታሚያ ስልጣኔ የተጀመረው በቲግሪስ እና ኢፍራጤስ ወንዞች መካከል በ3500 ዓ.ዓ አከባቢ ነው።



ካርታ.4.1.1.የጥንት ሜሶፖታሚያ መገኛ

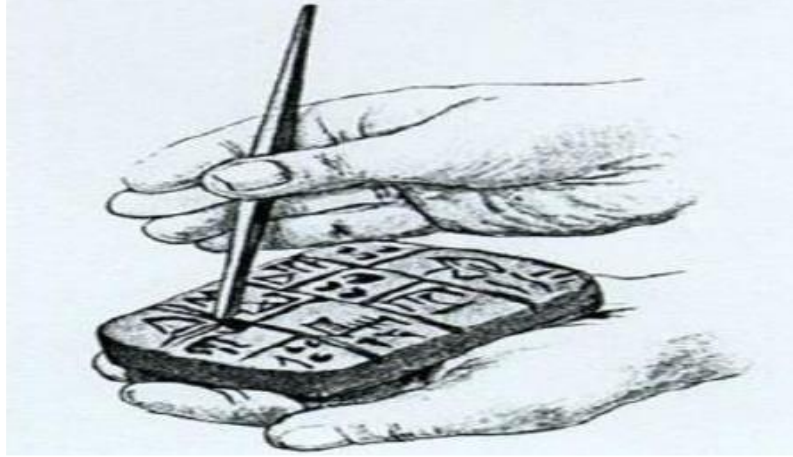
በቲግሪስና ኢፍራጣስ ወንዞች ዳርቻ አካባቢ ለመጀመሪያ ጊዜ የሰፈሩና የሜሶፖታሚያን ስልጣኔም የመሰረቱት ህዝቦች ሱሜሪያኖች ይባላሉ። በቀደምት ሜሶፖታሚያ ስልጣኔ ሱሜሪያኖች ጠንካራ ማህበራዊ፣ ፖለቲካዊ እና ምጣኔ ሀብታዊ አደረጃጀት ነበራቸው። እንዲሁም ነገስታቶቻቸው ፍጹማዊ ስልጣንን በመጠቀም ሜሶፖታሚያን ሲያሰተዳድሩ ቆይተዋል። ከሜሶፖታሚያ ነገስታት መካከል ለመጀመሪያ ጊዜ ህግ በማውጣትና ህብረተሰቡ እንዲገለገሉበት ያደረገው ሀሙራቢ (1792-1750 ዓ.ዓ) ይባላል። የሀሙራቢ ህጎች ጭካኔ የተሞላባቸውና ከባድ ህጎች ከመሆናቸው የተነሳ በተፈፀመ ወንጀል ልክ ተመሳሳይ ቅጣቶች የሚሰጡ ህጎች ነበሩ። ለምሳሌም “ዓይን ያጠፋ ሰው ዓይኑ በመጥፋት ይቀጣ” የሚል ነበረው። በሌላ በኩል ደግሞ የሀሙራቢ ህጎች ህብረተሰቡ ተከባብሮ እንዲኖሩና ወንጀል እንዳይሰፋፋ እንዲሁም ሰላምና መረጋጋት በህዝቦች መካከል እንዲረጋገጥ ትልቅ አስተወጽኦ አድርጎ ነበር።

በቲግሪስ እና ኢፍራጤስ ወንዞች አከባቢ ያሉት ውሃ እና ለም አፈር ለግብርና ምቹ በመሆናቸው ለሜሶፖታሚያ ስልጣኔ መመስረት ምክንያት ሆነዋል። በተጨማሪም ሱሜሪያኖች ወንዞችን በመገደብ እና በመስኖ እርሻ ስራ ይታወቁ ነበር። ቀደምት ሜሶፖታሚያኖች በየብስና በውሃ ላይ ከተለያዩ አከባቢ ህዝቦች ጋር ንግድ በማካሄድም ይታወቃሉ። አንዲሁም በንፋስ ሀይል የሚሰራ ጀልባዎችንና በሰውና በእንስሳት ጉልበት የሚሰሩ ሰረገላዎችን በመስራት ለመጓጓዣነት ሲጠቀሙበት ቆይተዋል። የተለያዩ ብረታ ብረቶችን በመጠቀም የተለያዩ መሣሪያዎችን በመስራት ለአለም አበርክቷል።

ግብርና ለሁሉም ስልጣኔዎች መሰረት ነው። እንዲሁም ህዝቦች በቋሚነት በአንድ አከባቢ ሰፍረው እንዲኖሩና ከተሞች እንዲስፋፉ ከፍተኛ ሚና ተጫውቷል። የናይሎቲክ አብዮት በሰው ልጅ የአኗኗር ታሪክ ውስጥ ከፍተኛ ለውጥ አስመዝግቧል። የዚህ ሁሉ ለውጥ መሰረት የግብርና ስራ ነው። በአጠቃላይ ግብርና ለሁሉም ዘመናዊ ስልጣኔዎች መሰረት ሆኗል።

ቀደምት ሜሶፖታሚያዎች የቀን አቆጣጠር (ካላንደር) እንዲሁም የሂሳብ ስሌቶችን በመጠቀም የክብ ቅርጽ 360° (ዲግሪ) እንዳለው እና አንድን ቀንን በ24 ሰዓት በመክፈል አንድ ሰዓት 60' (ደቂቃ) እንዳለው ማግኘት ችለዋል። ይህ ግኝት ደግሞ ለዘመናዊ ሰዓት አቆጣጠር መሰረት ሆኗል። በተጨማሪም በውሃ የሚሰራ ሰዓት ማግኘት ችለዋል።

ቀደምት ሜሶፖታሚያኖች የሸክላ አፈርን በመጠቀም የተለያዩ ህንጻዎችን በመገንባትም ይታወቃሉ። በተጨማሪም የሸክላ አፈርን በመጠቀም የራሳቸውን ስነ ፅሁፎች መፍጠር ችለዋል። የሜሶፖታሚያን ስነ ፅሁፍ ኩኒፎርም ይባላል።



ሥዕል 4.1.1 የሜሶፖታሚያን ስነ ፅሁፍ ኩኒፎርም

ከጊዜ በኋላ አካዲያኖች፣ ባቢሎኒያኖች ፣ አሲሪያኖች እና ፐርሺያኖች ሜሶፖታሚያኖችን በመወረር በቅደም ተከተላቸው ገዝተዋል። ይሁን እንጂ እነዚህ ወራሪዎች ለሜሶፖታሚያ ስልጣኔ ከፍተኛ አሰተዋፅኦ አበርክተዋል።

በአጠቃላይ የሜሶፖታሚያ ጠንካራ ማህበራዊ፣ ፖለቲካዊ እና ኢኮኖሚያዊ አደረጃጀት በውስጣዊ ችግርና በውጫዊ ችግር ምክንያቶች ሊወድቅ ችሏል። የውስጣዊ ችግር የእርስ በእርስ ጦርነት ሲሆን የውጫዊው ችግር ምክንያት ደግሞ በ6ኛ ዓ.ዓ ፐርሺያኖች ያደረጉባቸው ተደጋጋሚ ወረራ ነው።

4.1.2. ቀደምት የህንድና ቻይና ስልጣኔዎች

ሀ. ቀደምት የህንድ ስልጣኔ

የሙከራ ጥያቄዎች


1. የቀደምት ሜሶፖታሚያ እና ህንድ ስልጣኔዎችን የሚያመሳስላቸው ነገሮች ምንድናቸው?

- 2. የቀደምት ህንድ ስልጣን ላይ በመወያየት አብራሩ
- 3. የቀደምት ህንድ ስልጣን በየትኛው የወንዞች ዳርቻ ተመሰረተ?

ቀደምት የህንድ ስልጣን የተጀመረው በኤሺያ አህጉር በኢንዱስና ጋንጀስ የወንዞች ሸለቆዎች አካባቢ ነው። ይህም ስልጣን ከ2,500 እስከ 1,500 ዓ.ዓ ድረስ ሊቆይ ችሏል። የህንድ ስልጣን መስራች ህዝቦች ድራቪዲያኖች በመባል ይታወቃሉ። እንደ ሜሶፖታሚያ ስልጣን በኢንዱስና በጋንጀስ ወንዞች ዳርቻ አካባቢ ያሉት ውሃ እና ለም አፈር ለግብርና ምቹ በመሆናቸው ለህንዶች ስልጣን መመስረት ምክንያት ሆነዋል። በተለይ ጥጥ በማምረት የሸማ ልብሶችን ሰርተው ለአለም ህዝቦች አስተዋውቀዋል። በተጨማሪም ቀደምት ህንዶች ወንዞችን በመጥለፍ የመስኖ እርሻ ስራ እንዲሰፋፋ ትልቅ አስተዋወቅ አበርክተዋል። እንዲሁም የሸክላ አፈርን በመጠቀም የተለያዩ ግንባታዎች፣ እድ-ጥበቦች እና የተለያዩ የቤት ዕቃዎችን በመስራት ሲጠቀሙበት ቆይተዋል።

በሌላ በኩል ደግሞ ቀደምት ህንዶች የተለያዩ ጌጣጌቶችን በማምረት ከተለያዩ የአለም ህዝቦች ጋር በመነገድ በአለም ላይ ይታወቁ ነበሩ። ለምሳሌ ከፐርሲያ፣ ሱሜሪያ፣ ቻይና፣ አክሱም፣ ግብፅ እና ከአውሮፓ ሀገር ነጋዴዎች ጋር ሲለዋወጡ ቆይተዋል። ቀደምት የህንድ ነጋዴዎች የራሳቸው ማህተምና የምርት ዝርዝር (trade manual) በማዘጋጀት ሲጠቀሙ ቆይተዋል።

በቀደምት የህንድ ስልጣን የሸክላ አፈርን በመጠቀም የተገነቡት ከተማዎች ሀራፓና ሞሃንጆዳሮ ይባላሉ። በአርኪዮሎጂ ጥናት መሰረት ሁለቱ ከተሞች በዘመናዊ አሰራር መልክ የተገነቡ መሆናቸው ተረጋግጧል። በተጨማሪም ሁለቱ ከተሞች ፍላጎትና ቆሻሻ ማስወገጃ ቦይ እና የሕዝብ መታጠቢያ ገንዳዎች አሏቸው።



ሥዕል. 4.1.2 (ሀ) ቀደምት የሞሃንጃ ዳሮና ሐራፓ ከተሞች ቅሪት

በቀደምት የህንድ ስልጣኔ ህዝቦች የተለያዩ የስራ ክፍፍል ነበራቸው። በዚህ ስራ ክፍፍል መሰረት ህዝቦች የየራሳቸው የስራ ድርሻ አላቸው። በዚህ መሰረት የአከባቢ አለቆች የአከባቢውን ሰላምና ደህንነት የማስጠበቅ ኃላፊነት ነበራቸው። የሀይማኖት አባቶች ደግሞ ህብረተሰቡ የሀይማኖትን ህግና ደንብ እንዲያከብሩና አብሮነትን እንዲያጎለብቱ ከፍተኛ ሚና ሲጫወቱ ቆይቷል። ቀደምት የህንድ ታዋቂ ሀይማኖቶች ሂንዱይዝምና ቡዲዝም በመባል ይታወቃሉ። ሁለቱም ሀይማኖቶች ህብረተሰቡ የአብሮነትን እሴት እንዲጎለብቱ ሲያስተምሩ ቆይቷል።

በጠቃላይ ቀደምት የህንድ ስልጣኔ የተለያዩ እውቀቶችንና ሙያዎችን ለዓለም ህዝብ አበርክቷል። ይሁን እንጂ ቀደምት የህንድ ስልጣኔ በውስጣዊና ውጫዊ ችግር ምክንያቶች ሊወድቅ ችሏል። የውስጣዊው ችግር የተላላፊ በሽታዎች መስፋፋትና ድርቅ ሲሆኑ የውጫዊ ችግር

ምክንያት ደግሞ በ1500 ዓ.ዓ አርያኖች የደረጉት ተደጋጋሚ ወረራ ነበር።

ለጥንታዊ የቻይና ስልጣኔ

የሙከራ ጥያቄዎች

1. ቀደምት የቻይና ስልጣኔ ከሌሎች አካባቢ ስልጣኔዎች በምን ይለያል?
2. በቀደምት የቻይና ስልጣኔ ውስጥ የተስፋፋ ግኝቶች ምንድናቸው? በቡድን ተወያይቡት
3. የኮንፊሺያኒዝም ፍልስፍና ምንን ያካትታል?

ቀደምት የቻይና ስልጣኔ የተመሰረተው በኤሺያ አህጉር በሚገኙ በያንግቲዝና ህዋንግሆ የወንዞች ሽለቆዎች ውስጥ ነው። ከ1700 ዓ.ዓ ጀምሮ በእነዚህ የወንዞች ዳርቻ አካባቢ የተለያዩ ስልጣኔዎች ተስፋፍተዋል። ጥንታዊ የቻይና ስልጣኔ የሚታወቀው በሀር ልብስ ምርት፣ በከሰል ድንጋይ፣ በሴራሚክስ ስራ፣ በጦር መሳሪያ (በባሩድ) ምርት እና በእንጨትና የቆዳ ስራ ምርቶች ናቸው። በ150 ዓ.ዓ አካባቢ የማባገፍ ማሸንፍ በሰውና በእንስሳት ጉልበት የሚንቀሳቀሱ ስረገላዎችን ሰርተዋል።

ቀደምት ቻይናውያን ቀርከህን በመጠቀም የተለያዩ የቤት ዕቃዎችን ሰርተው ሲጠቀሙበት ቆይተዋል። እንዲሁም ቀርከህን በመጠቀም የራሳቸውን ስነ ፅሁፍ መፍጠር ችለዋል። የቀደምት ቻይና ስነ-ፅሁፍ ሎጎግራፊክስ ይባላል። የጥንታዊ ቻይና ስነ-ፅሁፍ የሚገለፀው በስዕላዊ መልክ ነው። በሎጎግራፊክስ ስነ ፅሁፍ አንድ ምልክት አንድ ሀሳብን ይገልጻል።

የሰባተኛ ክፍል ሕብረተሰብ ትምህርት የተማሪዎች መጽሐፍ

የቀደምት ቻይና ነገስታት አሀዳዊ መንግስትን በመመስረት ይታወቃል። ከቻይና ስርወ መንግስታት ውስጥ ታዋቂዎቹ ሻንግ (1700-1122 ዓ.ዓ) እና ሾን(1122-256 ዓ.ዓ) ናቸው። እነዚህ ነገስታት በቅደም ተከተል ቻይናን ገዝተዋል። በሁለቱም ስርወ መንግስት አገዛዝ ቻይናን ከውጫዊ ጠላት ለመከላከል በድንበራቸው ላይ 7400 ኪሎ ሜትር ርዝመት ያለው የግምብ አጥር አሰርተዋል። ይሁን እንጂ የታጠረው ግብ የተጠበቀውን ያህል ቻይናን ከውጪ ኃይል ወራሪ ሊከላከል አልቻልም። ምክንያቱም ወደ ጎን ያለው ርዝመት በጣም ረጅም ሰለሆነ አሰተማመኝ የሆነ ጥበቃ ሊደረግለት አልቻለም።



ሥዕል.4.1.2 (ለ) ትልቁ የቻይና የግምብ አጥር

ቀደምት ቻይናዊያን በስነ-ፅሁፍና በኮንፊሻኒዝም ፍልስፍናም ይታወቃል። የኮንፊሻኒዝም ፍልስፍናን የመሰረተው ሰዉ ኮንፊሻስ (551-479 ዓ.ዓ) ይባላል። የኮንፊሻኒዝም ፍልስፍና በህበረተሰቡ ውስጥ መልካም ስነ ምግባር እንዲስፋፋ ትልቅ ሚና ተጫውቷል።

በኮንፊሻኒዝም ፍልስፍና መሰረት አንድ የቤተሰብ አባል በእድሜውና በደታው መከባበር እንዳለበት፣ ባህሉንና ቱፊቱን መጠበቅ እንዳለበት ያስተምራል። ህብረተሰቡም ለመንግስት የሚፈልገውን ትብብር መፈጸም እንዳለባቸውና መንግስትም የህዝቡን ባህልና ወግ የማክበርና የማስከበር ግዴታ እንዳለበት ያስተምራል። በድምሩ የኮንፊሻኒዝም ፍልስፍና መከባበርና መረዳዳት ላይ ያተኮረ ነው።

በአጠቃላይ ቀደምት የቻይና ስልጣኔ እሴትን ችሎ የተመሰረተ ስልጣኔ ነው። ምክንያቱም የቀደምት ቻይና ስልጣኔ ከውጭ ኃይሎች ጫና ነፃ ሆኖ የተመሰረተ ሰለሆነ ነው። በዚህ ምክንያት ቀደምት የቻይና ስልጣኔ ከሌሎች የአለም ስልጣኔ የተለየ ነበር።

4.1.3.ጥንታዊ የግሪኩ-ሮማን ስልጣኔዎች

የሙከራ ጥያቄዎች

1. የጥንታዊ የግሪኩ-ሮማን ስልጣኔ የት ተጀመሩ?
2. ከጥንታዊ የግሪኩ-ሮማን ስልጣኔዎች ውስጥ በዘመናዊው አለም የሚተገበሩትን በመለየት ተወያዩበት። የሁለቱንም ስልጣኔ ውጤቶችን ዘርዝር/ሪ
3. በጥንታዊ የግሪክ ዲሞክራሲና ዘመናዊ ዲሞክራሲ ላይ ክርክር አድርገው

የጥንታዊ ግሪክና የሮማ ህዝቦች በጥንታዊ የአለም ስልጣኔ ከፍተኛ የዕድገት ደረጃ ላይ በመድረስ ለአለም ህዝቦች ትልቅ አስተዋጽኦ አበርክተዋል። ጥንታዊ የግሪክና ሮማን ህዝቦች ብዙ ስልጣኔዎች በጋራ ስለነበራቸው ስልጣኔያቸው ባብዛኛው የግሪኩ-ሮማን ስልጣኔ በመባል ይታወቃል።

ሀ)ጥንታዊ የግሪክ ስልጣኔ

ጥንታዊ የግሪክ ስልጣኔ በ3000 ዓ.ዓ አከባቢ በኤጂፕን ባህር አከባቢ የተመሰረተ ነው። ግሪኮች መሬታቸውን ሂሳስ ሲሉ ህዝቦቿን ደግሞ ሂሊንስ (ሂሊኖች) በማለት ይጠራሉ። በተመሳሳይ ሁኔታ ጥንታዊ የግሪክ ስልጣኔ የሂሊንስ ስልጣኔ በመባል ይታወቃል። ለግሪክ ስልጣኔ መሰረት የሆነው ጥንታዊ የክሬት ስልጣኔ ነው። የክሬት ከተማ በሜዲቴራኒያን ባህር መካከል የምትገኝ ደሴት ነበረች። ይሁን እንጂ የክሬት ከተማ ባልታወቀ ምክንያት ሙሉ በሙሉ ከአለም ላይ ጠፊፍታለች። የክሬት ስልጣኔ የሚኖንያን ስልጣኔ በመባልም ይታወቃል።

የጥንታዊ ግሪክ ስልጣኔ ለተለያዩ የአለም ስልጣኔዎች መሰረት ነው። ቀደምት ግሪኮች የሚታወቁት በዴሞክራሲ ስርዓት፣ ማራቶን፣ ፍልስፍና፣ ሂሳብ፣ ፊዚክስ፣ ባዮሎጂ፣ ህክምና እና በታሪክ ጥናቶች ነው። በተጨማሪም ቀለማትን በመቀባት ጥበብ፣ የተለያዩ ቅርፃ ቅርጾችን በመስራት፣ በስነ-ህንፃ፣ ስዕል በመሳል እና በተለያዩ ስነ-ጥናቶች በመግጠም ይታወቁ ነበር።

እንደሁም ጥንታዊ የግሪክ ህዝቦች በተለያዩ ግንባታዎችና በሀይማኖት በአለም ላይ ይታወቁ ነበር። በተለይ ሀይማኖታቸውን የሚገልፁ የተለያዩ ቅርፃ ቅርጾችን በመስራት የበዓል ቀን አምልኮ ስርአት ያካሄዱበት ነበር።

የፕሮጅክት ስራ

የሚከተለውን ጥያቄ በመስራት ለመምህራችሁ አሳዩ

- አራት አራት ሆናችሁ በመደራጀት በጥንታዊ የግሪክ ስልጣኔ ሲገለገሉበት የነበሩትን የቤት ዕቃዎች ለምሳሌም በሰዕል 4.1.3 ላይ ያለውን በአከባቢያችሁ የሚገኙትን ቁሳ ቁሶች በመጠቀም ሰርታችሁ አቅረቡ።



ሰዕል 4:1.3 የጥንታዊ ግሪክ ህንፃና ቅረፃ ቅርፆች

ቀደምት ግሪክ ከምትታወቅበት ውስጥ ዋነኛው የዴሞክራሲ ስርዓት ፅንሰ-ሀሳብን በማመንጨት ነው። ዴሞክራሲ የሚለው ቃል ከዴሞና ክራቶስ ከሚባሉት ሁለት ቃላቶች የተመሰረተ ሲሆን ትርጉሙም የህዝብ አስተዳደር ማለት ነው።

ጥንታዊ የግሪክ ዴሞክራሲና ዘመናዊው የምዕራባዊያን ዴሞክራሲ ተመሳሳይነትና ልዩነት አላቸው። ተመሳሳይነታቸው፣ ሁለቱም አሳታፊ መሆናቸው፣ ለአብላጫ ድምፅ መገዛት እና የስልጣን ገደብ መኖር ሲሆን ልዩነታቸው ደግሞ ከዚህ በታች ባለው ሰንጠረዥ ተዘርዝረዋል።

የሰባተኛ ክፍል ሕብረተሰብ ትምህርት የተማሪዎች መጽሐፍ

ጥንታዊ የግሪክ ዲሞክራሲ	ዘመናዊ ዲሞክራሲ
ህዝቦች በቀጥታ ይሳተፋሉ።	ህዝቦች በተወካዮቻቸው በኩል ይሳተፋሉ።
እድሜያቸው የመምረጥ እና ለመመረጥ ለደረሱ ወንድ ዜጎች ብቻ መብት ይሰጣል።	ለዜጎች እኩል የመሳተፍ መብት ይሰጣል።
ሁሉንም ዜጎች እኩል አያሳትፍም ለምሳሌ፣ ባሮችና ሴቶችን አጣሳትፍም።	እዲሜያቸው የመምረጥ እና ለመመረጥ የደረሱ(ከ18 ዓመት በላይ የሆኑ)ዜጎችን ሁሉ ያሳትፋል።

በጥንታዊ የግሪክ ስልጣኔ ዘመን ለዚህ ስልጣኔ መሰረት የሆኑ ታላላቅ ምሁራን ነበሩ። እነሱም ሄሮዶቶስ (484-425 ዓ.ዓ)፣ ሂራክሎቶስ (460-357 ዓ.ዓ)፣ ሆሜር (750-700 ዓ.ዓ)፣ ሶቅራቶስ (470-399 ዓ.ዓ)፣ ፕላቶ (427-347 ዓ.ዓ) እና አርስቶቲል (384-322 ዓ.ዓ) ናቸው። ሄሮዶቶስ የታሪክ ፀሀፊ ስለነበረ የታሪክ አባት ተብሎ ይታወቃል። እንዲሁም ሆሜር ኢሊያድና(Iliad) ኦዲሴይ(Odyssey) የሚባሉ ታዋቂ ግጥሞችን በመግጠም ይታወቃል። በጥንታዊ የግሪክ ስልጣኔ እነዚህ የግሪክ ተመራማሪዎች ለአለም ህዝብ ከፍተኛ አስተዋፅኦ አበርክተዋል።

ጥንታዊ የግሪክ ስልጣኔ የከተማዎች ስልጣኔ በመባል ታወቀ። ምክንያቱም ከተሞች የራሳቸውን የአስተዳደር ድንበር ስለ ነበራቸው ነው። የጥንታዊ ግሪክ ከተሞች በዲሞክራሲ ፖሊስ ተብለው ይጠራሉ። ጥንታዊ የግሪክ ከተሞች አስተዳደር የገጠር ቀበሌዎችንም ያጠቃልላል። የገጠር ቀበሌዎች በግብርና ስራ ይተዳደሩ ነበር። እነዚህ

የገጠር ቀበሌ ነዋሪዎች ለከተማ አስተዳደሩ ከፍተኛ የገቢ ምንጭ ሆነው ሲያገለግሉ ቆይተዋል። በተጨማሪም ጥንታዊ የግሪክ ከተሞች በንግድ ስራ ዘርፍም ሲተዳደሩ ነበር። በወቅቱ ከነበሩት ታዋቂ የጥንት ግሪክ ከተሞች አቴንስና እስፓርታ ይባላሉ ። አቴንስ የጥንት ግሪክ ከተማ ስለ ነበረች እንደ የአስተዳደር ማዕከል ትታይ ነበረች።

የጥንት ግሪክ ከተሞች በእርስ በእርስ ጦርነትም ይታወቁ ነበር። ለምሳሌ አቴንስና እስፓርታ በተለያዩ ጊዜያት እርስ በእርሳቸው ሲዋጉ ነበር። ሁለቱ ከተሞች ከእርስ በርስ ጦርነት እራሳቸውን ለመከላከል ሲባል በመካከላቸው የአጥር ግንብ ገንብተው ነበር። በጥንታዊ የግሪክ ስልጣኔ ዘመን የእስፓርታ መንግስት ሴቶችን ለውትድርና ሲያሰለጥናቸው ነበር። በዚህ መሰረት ሴቶች በተለያዩ ጦርነቶች ላይ ሲሳተፉ ቆይተዋል።

በመጨረሻም ጥንታዊ የግሪክ ስልጣኔ በውስጣዊ ችግርና በውጫዊ ችግር ምክንያቶች ተደክሟል። የውስጣዊው ችግር ምክንያት የእርስ በርስ ጦርነት ሲሆን የውጫዊው ችግር ምክንያት ደግሞ በ6ኛ ዓ.ዓ በፐርሲያኖች የደረሰባት ወረራ ነው።

ለጥንታዊ የሮማ ስልጣኔ

ጥንታዊ የሮማ ስልጣኔ በ753 ዓ.ዓ በአሁኑ መካከለኛ ጣሊያን ላቲን ተብለው በሚጠሩ ህዝቦች ተመስርቶ የተስፋፋ ነው። ጥንታዊ የሮማውያን የግሪክ ስልጣኔን ሲጠቀሙ ቆይተዋል። ይሁን እንጂ የራሳቸውን ስልጣኔ በመጨመር ለአለም ህዝቦች ከፍተኛ አስተዋጾ አበርክተዋል። ጥንታዊ የሮማን ስልጣኔ የሚታወቀው በሪፐብሊክ አስተዳደር ስርአት፣ የተለያዩ ህጎችን በማውጣት፣ በድራማ፣ በቲያትር

የሰባተኛ ክፍል ሕብረተሰብ ትምህርት የተማሪዎች መጽሐፍ

እና ትምህርትን በማስፋፋት ነው። የጥንታዊ የሮማ ትምህርት በይበልጥ ያተኮረው ማንበብና መጻፍ ላይ ነበር። የሚጽፉበት ፊደል ላቲን ሲሆን በአሁኑ ጊዜ አፋን አሮሞን ጨምሮ ብዙ የአለም ቋንቋዎች የላቲን ፊደላትን ይጠቀማሉ። በተጨማሪም ጥንታዊ የሮማ ስልጣኔ በውሃ ሷሷዎች ዝርጋት፣ የከተማ ፍሳሽ ማስወገጃ ቦይዎችና ድልድዮችን በመሰራት እንዲሁም የከተሞቻቸውን ንጽህና በመጠበቅ ይታወቃሉ።

ጥንታዊ የሮማን ሪብሊክ በ509 ዓ.ዓ የተመሰረተ ነው። ይህ የሪብሊክ አስተዳደር በሁለት መዋቅር የሚመራ ሆኖ ጠንካራ ህጎች አለው። እነዚህ የአስተዳደር መዋቅር ሴኔት (Senate)ና ኮንሱል (Consul) በመባል ይታወቃሉ። የሴኔት አባል ሆነው መመረጥ የሚችሉ ፓትሪሺያኖች ብቻ ናቸው። ፓትሪሺያኖችና ፒሊቢያኖች ታዋቂ የሮማን ህብረተሰብ ክፍሎች ናቸው። በጥንታዊ የሮማ ሪብሊክ ውስጥ ፓትሪሺያኖች ሀብታሞችና የገዢ መደብ አባላት ናቸው። የሴኔት አባል ሆነው የሚመረጡ ዕድሜ ልክ የሚያስተዳድሩ ሲሆኑ የኮንሱል አባሎች ደግሞ ለአንደ አመት ብቻ ያገለግላሉ። ፒሊቢያኖች ከፍተኛ ቁጥር ያላቸው ጭቁን ህዝቦች ሲሆኑ መንግስት የሚፈልገውን ግብር በአስገዳጅነት የሚከፍሉ የህብረተሰብ ክፍል ናቸው።

ጥንታዊ የሮማ መንግስታት በሜድትራኒያን ባህር አከባቢ ጠንካራ የጦር ኃይልና የንግድ መሰመሮችን ተቆጣጥረው ቆይተዋል። በዚህ መሰረት ከ216-146 ዓ.ዓ በሰሜን አፍሪካ አከባቢ የሚገኙ ጥንታዊ ካርቴጅና ግብፅን በኃይል ተቆጣጥረዋል። ይሁን እንጂ ጥንታዊው የሮማ ስልጣኔ በእርስ በእርስ ጦርነት ምክንያት ኃይሉ እስከ መጨረሻ ዘልቆ ሊቆይ አልቻለም።

በዚህ መሰረት ጥንታዊ የሮማን ሪፐብሊክ መንግስት በ27 ዓ.ዓ የኢምፓየር ስርዓት ስር ወደቋል። ይሁን እንጂ ለ200 አመታት ያህል ከፍተኛ የዕድገት ደረጃ ላይ ሊደርስ ችሏል። ይህ ጊዜ ፓክስ ሮማና (pax Romana) ወይም ታላቋ ሮም በመባል ይታወቃል። ቢሆንም በ4ኛው ዓ.ዓ ጥንታዊ ሮማ ለሁለት በመከፈል ምዕራባዊና ምስራቃዊ ሮማ ተመሰረቱ። በመጨረሻም ምዕራባዊ ሮማ በ476 ዓ.ም በጀርመን ኅላዎች የወደመች ሲሆን ምስራቃዊ ሮማ (ባይዛንታይን) ደግሞ በ1453 በቱርኮች ወረራ ልትወረር ችላለች።

4.1.4 የክርስትና ሀይማኖት አመጣጥና መስፋፋት

የሙከራ ጥያቄዎች

1. የክርስትና ሀይማኖት ተከታዮች ምን ይባላሉ?
2. ጥንታዊ የሮማን መንግስታት የክርስትና ሀይማኖት ተከታዮችን ምን አይነት መብት ከለከሏቸው?
3. የክርስትና ሀይማኖት የትና እንዴት እንደ ተስፋፋ ተወያዩበት።

የክርስትና ሀይማኖት የተጀመረው በ1ኛው ዓ.ም በመካከለኛው ምስራቅ ኤጂፕቶ በአሁኑ ፊሊስጤምና እስራኤል በሚባሉት አገሮች ውስጥ በኢየሱስ ክርስቶስ ተከታዮች አማካኝነት ነው። የክርስትና ሀይማኖት ተከታዮች ክርስትያኖች ይባላሉ። ይህ ስም የተወሰደው ከግሪክ ቃል ነው። ክርስቶስ የሚለው ቃል መሲህ የሚል ሲሆን ትርጉሙም ማዳን ማለት ነው። የክርስትና ሀይማኖት መተዳደሪያ መፅሐፍ ቅዱስ ይባላል። የክርስትና ሀይማኖት ተከታዮች በመፅሐፍ ቅዱስ ህግጋት ይተዳደራሉ።

የክርስትና ሀይማኖት ከ1ኛው እስከ 4ኛው ዓ.ም የተለያዩ ችግሮችን አሳልፏል። ምክንያቱም ጥንታዊ የሮማ ኢምፓየር መንግስታት የክርስትና ሀይማኖት ትምህርትና ተከታዮችን አምርረው ይጠሉ ስለነበር ነው። በተለይ ከክርስትና ሀይማኖት ትምህርት ውስጥ "የሰው ልጅ እኩልነትን ማስተማሩ" በጥንታዊ ሮማ ኢምፓየር መንግስት ፊት ተቀባይነትን እንዳያገኝ አድርጎታል።

በጥንታዊ ሮማ መንግስታት ዘመን ከ1ኛው እስከ 4ኛ ዓ.ም መካከል አብዛኞቹ የክርስትና ሀይማኖት ተከታዮች ድሃ የሮማ ህዝቦች ነበሩ። በዚህ ምክንያት ጥንታዊ የሮማ መንግስት የሮማ ክርስቲያኖችን ለኛ ከመታዘዝ ለኢየሱስ መታዘዝን ይመርጣሉ በማለት የክርስትና ሀይማኖት ተከታዮች ላይ ተጽዕኖ አድርጎታል። በዚህ ሁኔታ የሮማ መንግስታት ብዙ ክርስቲያኖች ላይ በአሰቃቂ ሁኔታ ጭፍጨፋ ሲያካሄዱ ነበር። በዚህ ምክንያት ብዙ ክርስቲያኖች ሞተዋል እንዲሁም ከሀገር ተሰደዋል።

ነገር ግን የሮማ መንግስታት የክርስትና ሀይማኖትን ለማጥፋት ሲያደርጉ የነበረው ተጽዕኖ ሳይሳካ ቀርቷል። እንዲሁም የክርስትና ሀይማኖት ተከታዮች እየተጠናከሩና ቁጥራቸው እየጨመረ መምጣቱ የሮማ መንግስት ተስፋ እንዲቆርጥ አድርጎታል። በዚህ ምክንያት በ312 ዓ.ም ታዋቂው የሮማ ንጉስ ቆንስጣንጣይን የክርስትናን ሀይማኖት ተቀብሎ ለክርስቲያኖችን ሙሉ መብት ሰጧል። የክርስትና ሀይማኖት የሮማ መንግስት ሀይማኖት በመሆን መስፋፋት ችሏል። በ6ኛው እና 7ኛው ዓ.ም ጥንታዊ የግብፅ ህዝቦችና ኑቢያኖችም የክርስትና ሀይማኖት በሰሜንና ሰሜን ምስራቅ አፍሪካ እንዲስፋፋ የራሳቸውን አስተዋፅዖ አበርክተዋል። እንዲሁም ከ500 እስከ 1000 ዓ.ም የሮማ ቤተክርስቲያን መንግስትን በመተካት የሮማንን ኢምፓየር

ማስተዳደር ችግሮች፡፡

በመካከለኛው ዘመን (500 እስከ 1500 ዓ.ም) የክርስትና ሀይማኖት በአውሮፓ ትልቅ የበላይነትንና ተቀባይነትን አገኝቷል። እንዲሁም በአፍሪካ፣ በኤሺያ እና በሰሜንና ደቡብ አሜሪካ መስፋፋት ችሏል። በተለይ በ332 ዓ.ም በአፍሪካ ቀንድ የአክሱም መንግስት በቅድሚያ የክርስትና ሀይማኖትን በመቀበል ሂማኖቱን እንዲስፋፋ አድርጓል።

በአጠቃላይ ሲታይ ግን የክርስትና ሀይማኖት በአፍሪካ አህጉር በስፋት የተስፋፋው ከአውሮፓ ሚሽነሮች/ሚሲዮኖች ወደ አፍሪካ አህጉር ከመጡ በኋላ (ከ16ኛ እስከ 18ኛ ዓ.ም) ነው።

መልመጃ 4.1

ለሚከተሉት ጥያቄዎች አጫጭር መልስ ስጥ/ጩ።

1. ጥንታዊ የሚሶፖታሚያን ስነ ፅሁፍ ምን በመባል ይታወቃል?
2. የሀሞሪቢ ጠንካራ ህግ ማውጣት አላማው ምን ይመስላችኋል?
3. ጥንታዊ የሚሶፖታሚያ፣ ህንድ እና ቻይና ስልጣኔዎች በምን ይመሳሰላሉ? ልዩነታቸውስ ምንድነው?
4. የግሪኩ-ሮማን ስልጣኔ ውጤቶች ዘርዘር/ሪ
5. የወንዞች ዳርቻ ለምን ለጥንታዊ ስልጣኔዎች ምቹ ሆኑ?

4.2. የመካከለኛው ክፍለ ዘመን የአለም ታሪክ

4.2.1 የባይዛንታይን ኢምፓየር

የሙከራ ጥያቄዎች

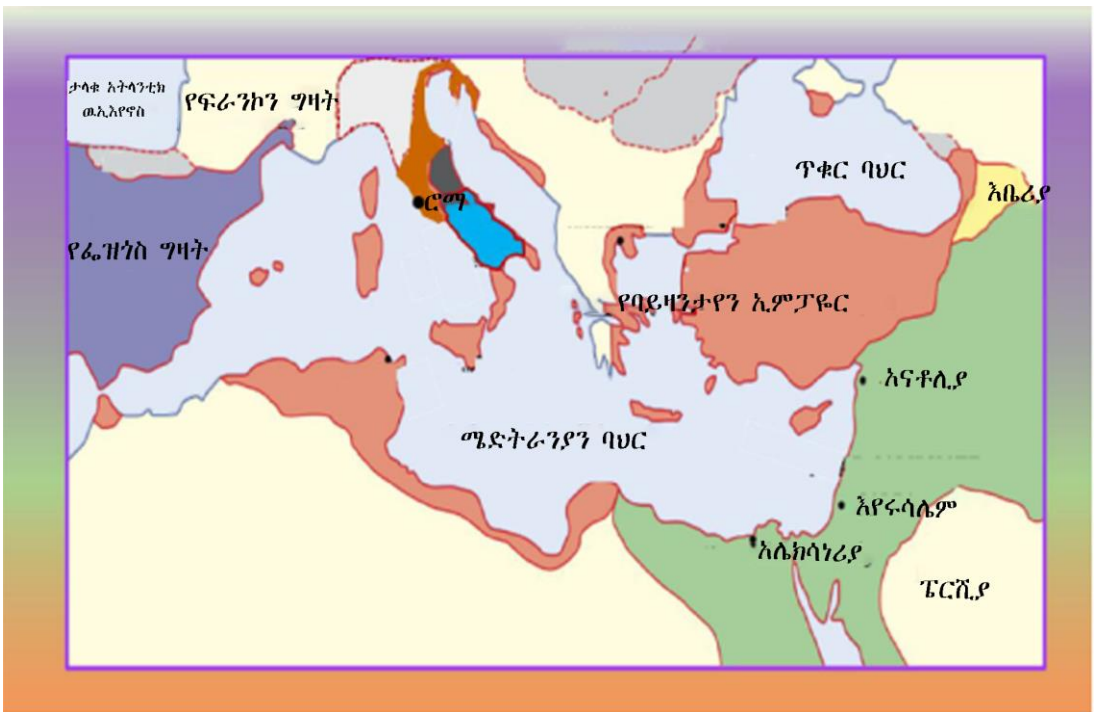
1. ኢምፓየር ማለት ምን ማለት ነው?
2. የባይዛንታይን ኢምፓየር የት አካባቢ ተመሰረተ?

ኢ.ም.ፓ.የር ማለት ሰፊ አካባቢ ሆኖ በንጉስ ወይም በንግስት የሚመራ ግዛት ማለት ነው። የባይዛንታይን ኢ.ም.ፓ.የር ከ5ኛው እስከ 15ኛ ዓ.ም ከምስራቅ አውሮፓ እስከ መካከለኛው ምስራቅ አውሮፓ ያሉትን አካባቢ ሲያስተዳድር ነበር። የባይዛንታይን ኢ.ም.ፓ.የርን የመሰረተው ታላቁ ቆንስጣንጣይን ይባላል። በ324 ዓ.ም የምዕራብ ሮማን በመልቀቅ የባይዛንቲም ከተማን የአስተዳደሩ ማዕከል አድርጓታል። በ330 ዓ.ም የባይዛንታይን ኢ.ም.ፓ.የር ስም ወደ ንጉሱ ስም፣ ኮነስታንቲኖፕል ተቀይሮ ነበር። በሌላ በኩል ደግሞ የባይዛንታይን ከተማ የምስራቅ አውሮፓ የአስተዳደር ማዕከል ሆኖ ሲያገለግል ቆይቷል።

የኮነስታንቲኖፕል ከተማ በአውሮፓና በኤሺያ የንግድ መስመር ላይ በመመስረቷ ምጣኔ ሀብቷን ማሳደግ ችላለች። በተጨማሪም የሜድቴራኒያንና የጥቁር ባህር አካባቢ የንግድ እንቅስቃሴን በመቆጣጠር የባይዛንታይን ከተማ ምጣኔ ሀብት እንዲበለፅግ አድርገዋል። ከዚህ በሚገኘው ገቢ ትልቅ እግረኛና የባህር ጦር ኃይል ገንብቷል። የባይዛንታይን ኢ.ም.ፓ.የር ከምዕራብ ሮማ ውድቀት በኋላ የአውሮፓውያን የስልጣኔ ማዕከል በመሆን የግሪኩ-ሮማን ስልጣኔ እንዲቀጥል አድርጓል።

የባይዛንታይን ኢ.ም.ፓ.የርን ሲያስተዳድሩ ከነበሩት ነገስታት ውስጥ ጁስቲኒያ (527-565 ዓ.ም) ታዋቂ ንጉስ ነበር። የባይዛንታይን ኢ.ም.ፓ.የር ትልቅ ደረጃ የደረሰውና ግዛቱ የተስፋፋው በጁስቲኒያ አስተዳደር ዘመን ነበር። የባይዛንታይን ኢ.ም.ፓ.የር ግዛት ከደቡብ ምስራቅ አውሮፓ እስከ ሶሪያና ሊባኖስ ይደርስ ነበር። እንዲሁም የሰሜን አፍሪካ አካባቢንና ግብፅን መቆጣጠር ችለው ነበር። በዚህ ምክንያት የሜድቴራኒያን አካባቢ ፖለቲካና ምጣኔ ሀብትን ሙሉ በሙሉ በቁጥጥራቸው ስር አስገብተው ነበር። የባይዛንታይን ኢ.ም.ፓ.የር ከኮነስታንቲኖፕል ከተማ

በተለያዩ አቅጣጫ በመስፋፋት ትልቅ ኢምፓየር መሆን ችሏል።



ካርታ. 4.2 (ሀ) የባይዛንታይን ኢምፓየር

ንጉስ ጁስቲኒያ በግሪክና በሮማ ስልጣኔ ዘመን የወጡትን ህጎች በመጨመር አዲስ ህግ አርቅቋል። ይህንንም ህግ የጁስቲኒያ ህግ በማለት ስራ ላይ እንዲውል አድርጓል። በተጨማሪም ንጉስ ጁስቲኒያ፣ አንድ አምላክ፣ አንድ ኢምፓየር እና አንድ ሀይማኖት የሚል ሃሳብን በባይዛንታይን ኢምፓየር ውስጥ እንዲሰፋፋ አድርጓል።

ይህ ንጉስ የመንግስት አስተዳደርንና የሀይማኖት አስተዳደርን በማስተሳሰር ኮንስታንቲኖፕል የአስተዳደርና የክርስትና ሀይማኖት ትምህርት ማዕከል እንድትሆን አድርጓታል። ውብ የሆኑ ቤተመንግስቶች፣ ቤተ መጻሕፍት እና ቤተክርስቲያናትን በኮንስታንቲኖፕል ከተማ ውስጥ ተገንብተዋል። ሮማኖች የኪነ ጥበብ እና የተለያዩ ቀለማትን በመጠቀም

የሰባተኛ ክፍል ሕብረተሰብ ትምህርት የተማሪዎች መጽሐፍ

ውብ እና ማራኪ የሆኑ ስዕሎችን በመሳል ይታወቁ ነበር። የግሪኩ-ሮማ፣ ፐርሻያኖች እና የአረቦችን ስነ ህንፃ ጥበብ በማሻሻል ይጠቀሙበት ነበር። በተለይ ውብ የሆኑ ቤተክርስቲያኖችን በማሰገንባት ይታወቁ ነበር። ለዚህም ጥሩ ምሳሌ የሚሆነው የሀጊያ ሶፊያ ቤተክርስቲያን ነው። በአጠቃላይ የባይዛንታይን ኢምፓየር መንግስታት በህዝብ ዘንድ ትልቅ ተቀባይነት ነበራቸው ።



ሥዕል:4.2 (ለ) የሀጊያ ሶፊያ ቤተክርስቲያን

የባይዛንታይን ኢምፓየር ምጣኔ ሀብት(ኢኮኖሚ) የተመሠረተው በግብርና፣ ንግድ እና የተለያዩ እድገብ ስራ ላይ ከሚገኝ ገቢ ሲሆን የምጣኔ ሀብት ስርዓታቸው የፊውዳሊዝም ስርአት ላይ የተመሰረተ ነበር። በዚህ ስርዓት ውስጥ መሬት የባለባቶች ሲሆን ሰፊው ህዝብ ደግሞ ጨሰኛ ነበር። አርሶ አደሮች የባለባቶችን መሬት የሚያርሱ ሲሆን ከሚያገኙት ምርት ይበልጡን ምርት ለባለባቶች ለመስጠት ይገደዱ ነበር። በተለያዩ የእደ ጥበብ ስራ ላይ የተሰማሩትም ከሚያገኙት ገቢ ለባለባቶች ይገብሩ ነበር። በተጨማሪም የሜድትራኒያን

የንግድ መስመርን በመቆጣጠር ትልቅ ገቢ ሲያገኙ ነበር። የንግድ ስርዓትን ለማዘመን ከወርቅ የተስሩ ሳንቲሞችን በመስራት ይጠቀሙበት ነበር። በአጠቃላይ ከተለያዩ አቅጣጫ በሚያገኙት ገቢ የባይዛንታየን ኢምፓየር ፖሊቲካዊ እና ምጣኔ ሀብታዊ አደረጃጀቱን አጠናክሯል።

በውጫዊና በውስጣዊ ችግር ምክንያቶች የባይዛንታየን ኢምፓየር በ7ኛው ዓ.ም መዳከም ጀመረ። በተለይ የሜድትራኒያንና የቀይ ባህር አካባቢ የንግድ መስመሮችን ለመቆጣጠር ፍላጎት ከነበራቸው ሀገሮች እንደ ስላቮች፣ ሱልጂክ ቱርክ እና ኦቶማን ቱርክ ጋር በቅደም ተከተል ለዘመናት ሲዋጉ ቆይተዋል። በመጨረሻም ከኦቶማን ቱርክ ጋር በ1453 ዓ.ም ባደረጉት ጦርነት ኦቶማን ቱርኮች የኮንስታንቲኖፕል ከተማን በመቆጣጠር ኮንስታንቲኖፕል የሚለውን ስምም ወደ ኢስታንቡል ቀይሯል።

በአጠቃላይ የባይዛንታይን ኢምፓየር የግሪኩ-ሮማን ስልጣኔ እንዲቀጥል በማድረግ፣ የፊውዳል ስርዓት እንዲስፋፋ በማድረግ፣ የመንግስትና የሀይማኖት አስተዳደርን በማስተሳሰር ትልቅ ሀብት ማፍረት እና የጥንት ዘመን ስልጣኔ ከመካከለኛው ዘመን ስልጣኔ ጋር እንዲተሳሰር ከፍተኛ አሰተወፅዖ አበርክቷል።

4.2. 2. የእስልምና ሀይማኖት አመጣጥና መስፋፋት

የሙከራ ጥያቄዎች

1. እስላም ማለት ምን ማለት ነው?
2. የእስልምና ሀይማኖት ትምህርት የት ተጀመረ?
3. የእስልምና ሀይማኖት በምን አይነት አካሄድ በኢትዮጵያ ተስፋፋ?

በሳውዲ አረቢያ አካባቢ ሲኖሩ የነበሩ ህዝቦች አርብቶ አደር ነበሩ። እንዲሁም የሳውዲ አረቢያ አካባቢው ቆላማ ስለሆነ ለሰው ልጅ ኑሮ እምብዛም ምቹ አልነበረም በዚህ ምክንያት ውሃ ፍለጋ ከቦታ ቦታ ሲንቀሳቀሱ ነበሩ ። በሌላ በኩል ደግሞ በንግድ ስራ ላይ በከፍተኛ ደረጃ ሲሳተፉ ቆይተዋል። ከጊዜ በኋላ የእስልምና ሀይማኖት በሳውዲ አረቢያ መስፋፋት ጀመረ ።

የእስልምና ሀይማኖት ከሳውዲ አረቢያ አካባቢ በ612 ዓ.ም ወደ ተለያዩ አካባቢዎች መስፋፋት ጀመረ። የእስልምና ሀይማኖት በማስተማር እንዲስፋፋ ከፍተኛውን ሚና የተጫወተው ነቢዩ መሀመድ ነበር። የእስልምና ሀይማኖት ትምህርት መሰረት ያደረገው ለፈጣሪ የበላይነት መገዛት የሚለውን ፅንሰ-ሀሳብ ነው። እንዲሁም የሰው ልጅ ከመጥፎ ስራና ከክፉ ድርጊት መቆጠብ አለበት የሚለው አስተምሮት ነው።

የእስልምና ሀይማኖት መስፋፋት በጀመረበት ወቅት ትልቅ ተቃውሞ ከቁረሽ ጎሳዎች አጋጥሞታል። ይህ የቁረሾች ተቃውሞ በእስልምና ሀይማኖት ተከታዮች ላይ ከፍተኛ ጉዳት በማድረስ የሀይማኖቱ ተከታዮች በ622 ዓ.ም ከመካ ወደ መዲና እንዲሰደዱ አድርጓል። ይህ የሰደት ጊዜ በታሪክ ሂጂራ በመባል ይታወቃል። ሂጂራ በአሁን ወቅት የእስልምና ሀይማኖት የቀን አቆጣጠር (ካላንደር) በመሆን በማገልገል ላይ ይገኛል።

በ624 ዓ.ም የእስልምና ሀይማኖት ተከታዮች በመዲና ከተማ ኃይላቸውን በማጠናከር ባድር በሚባል ጦር ሜዳ ቁረሾችን ማሸነፍ ችለዋል። ቀጥሎም በ630 ዓ.ም መካን ሙሉ በሙሉ በመቆጣጠር

ለመጀመሪያ ጊዜ መካን በአስተዳደራቸው ስር አስገብተዋል። ከዚያ በኋላ ባቋቋሙት አስተዳደር ነብዩ መሀመድ የእስልምና ሀይማኖትና የፖሊቲካ መሪ መሆን ችለዋል።

ከነብዩ መሀመድ አስተዳደር ዘመን ጀምሮ የእስልምና ሀይማኖት ትምህት በቁራን ይመራል። በ632 ዓ.ም ነብዩ መሀመድ ከሞተ በኋላ የተለያዩ የሙስሊም ካሊፌቶች አስተዳደሩን ተክቶ የእስልምና ሀይማኖትን አስፋፍተዋል። ካሊፍ ማለት ተወካይ ማለት ሲሆን የእስልምና ሀይማኖትና ፖሊቲካን የሚመሩ መሪዎች ነበሩ። አራቱ የመጀመሪያ የሙስሊም ካሊፌቶች አቡበከር (632-634ዓ.ም)፣ ኡመር (634-644 ዓ.ም)፣ አሰማን (644-656ዓ.ም) እና አሊ (656-661 ዓ.ም) ናቸው። እነዚህ ካሊፌቶች የእስልምና ሀይማኖት በተለያዩ አካባቢዎች እንዲስፋፋና የሙስሊም ኢምፓየሮች እንዲመሰረቱ ከፍተኛ ሚና ተጫውተዋል።

በቁራን ትምህት ላይ በመመስረት አራቱ የመጀመሪያ ካሊፌቶች የእስልምና ሀይማኖት በተለያዩ የአለም ሀገሮች እንዲስፋፋ አድርጓል። የእስልምና ሀይማኖት ሊስፋፋ የቻለው በሁለት መንገድ ነው። እሱም በሰላማዊ መንገድና በጦርነት ነው። በአፍሪካ ቀንድ አካባቢዎች በሰላማዊ መንገድ የተስፋፋ ሲሆን በሰሜን አፍሪካ ፣ ምስራቅ አውሮፓ፣ የመካከለኛ ምስራቅ እና ሰሜን ምስራቅ ኤሺያ ሀገሮች ደግሞ በጦርነት ነው።

በአጠቃላይ ከእስልምና ሀይማኖት መስፋፋት ጋር ተያይዞ ብዙ ስልጣኔዎች ማደግ ችለዋል። የፐርሲያና የግሪኩሮማ ህንፃ ግንባታ ስልጣኔን በማሻሻል በአለም አቀፍ ደረጃ እንዲስፋፋ ከፍተኛ ሚና

ተጫውቷል። እንሁም የአረብኛ ቋንቋም የአለም ማህበረሰብ የመግባቢያ ቋንቋ እንዲሆን አድረጓል።

መልመጃ 4. 2

ለሚከተሉት ጥያቄዎች አጫጭር መልስ ስጥ/ጨ።

1. ጁስቲኒያ የሚባል የባይዛንታይን ንጉስ በምን ስራ ይታወቃል?
2. የባይዛንታይን ስልጣኔ ውጤቶችን ዘርዘር/ሪ
3. የባይዛንታይን ኢምፓየር ባህሪያትን አብራራ/ሪ
4. የእስልምና ሀይማኖት ወደ ኢትዮጵያ በሰላማዊ መንገድ እንዲስፋፋ ያደረጉት ምክንያቶችን ዘርዘር/ሪ

ማጠቃለያ

አብዛኞቹ ጥንታዊ የአለም ስልጣኔዎች የወንዞችን ዳርቻ መሰረት በማድረግ የተመሰረቱ ናቸው። ምክንያቱም ለግብርና ስራ ምቹ የሆነ ለም አፈርና በቂ ውሃ ስለ ነበራቸው ነው። በዚህ ምክንያት የወንዞች ዳርቻ ለተለያዩ የአለም ስልጣኔዎች ምቹ ሊሆኑ ችለዋል። የተለያዩ ጥናቶች እንደሚያመለክቱትም ብዙ የወንዞች ዳርቻዎች ለብዙ የአለም ስልጣኔዎች መሰረት መሆናቸው ተረጋግጧል።

ከጥንት የኤሽያ እና የአውሮፓ ስልጣኔዎች ታዋቂዎቹ ሜሶፖታሚያ፣ ህንድ፣ ቻይና፣ ሮማ እና ግሪክ ናቸው። በእነዚህ የጥንት ዘመን ስልጣኔዎች የተገኙ እድገቶች ውስጥ የዴሞክራሲ ፅንሰ-ሀሳብ፣ የሪፐብሊክ ስርዓት፣ የተለያዩ ህጎች፣ ፍልስፍናዎች፣ የህክምና ጥናቶች እና የተለያዩ የቅርፅ ቅርጾች ስራዎች ናቸው። እንዲሁም ለዘመናዊው ትምህርት መሰረት የሆኑ እንደ ሂሳብ፣ ፊዚክስ፣ ባዮሎጂ፣ ህክምና እና የታሪክ ጥናቶች ተካሄደዋል። በተጨማሪም ቀለማትን የመቀባት ጥበብ፣ ስነ-ህንፃ፣ ስነ-ሥዕል መሳሪያ እና የተለያዩ ስነ-ጽሑፎችን ግጥሞችን በመግጠም ለአለም ህዝብ አበርክተዋል።

የክርስትና ሀይማኖት የተጀመረው በ1ኛው ዓ.ም በመካከለኛው ምስራቅ በአሁኑ ወቅት ፊሊስጤምና እስራኤል በሚባሉ ሀገራት አካባቢ

በክርስቶስ ተከታዮች አማካኝነት ነው። የክርስትና ሀይማኖት ከ1ኛ እስከ 4ኛ ዓ.ም የተለያዩ ችግሮችን ቢያሳልፍም ከ4ኛው ዓ.ም በኋላ በተለያዩ የአለም ሀገራት መስፋፋት ችሏል። በሌላ በኩል ደግሞ የእስልምና ሀይማኖት በሳውዲ አረቢያ አካባቢ በነቢዩ መሀመድ ትምህርት አማካኝነት በ612 ዓ.ም ተጀመረ። ከነብዩ መሀመድ ሞት በኋላ (632 ዓ.ም) የተለያዩ የሙስሊም ካሊፌቶች የእስልምና ሀይማኖት በተለያዩ አካባቢዎች እንዲስፋና የሙስሊም ኢምፓየሮች እንዲመሰረቱ አድርገዋል።

የምዕራፍ 4 ማጠቃለያ ጥያቄዎች

ክፍል 1. የሚከተሉትን ዐረፍተ ነገሮች “እውነት” ወይም “ሐሰት” በማለት መልስ/ሽ

1. ግብርና የሁሉም ስልጣኔዎች መሰረት ነው።
2. የሜሶፖጵሚያን ስነ-ፅሁፍ ሃይሮግሎፊክስ ይባላል።
3. የእስልምና ሀይማኖት በአፍሪካ ቀንድ አካባቢ የተሰፋፋው በሰላማዊ መንገድ ነው።
4. የባዛንታይን ኢምፓየር ነገስታት ለክርስትና ሀይማኖት መስፋፋት ከፍተኛ ሚና ተጫውተዋል።
5. የባዛንታይን ኢምፓየር ነገስታት ለክርስትና ሀይማኖት መስፋፋት ከፍተኛ ሚና ተጫውቷል።

ክፍል II. በ “ለ” ስር ያለውን ምርጫ ከ “ሀ” ስር ካሉት ጥያቄዎች ጋር አዛምድ/ጅ

<u>ሀ</u>	<u>ለ</u>
1. ጥንታዊ ሜሶፖታሚያ	ሀ. ኮንስታንቲኖፕል
2. ጥንታዊ ህንድ	ለ. ሪፐብሊክ
3. ጥንታዊ ቻይና	ሐ. ዴሞክራሲ
4. ባይዛንታይን	መ. ሎጎግራፊክስ
5. ጥንታዊ ሮማ	ሠ. ኩኒፎርም
6. ጥንታዊ ግሪክ	ረ. ሀራፓ

ክፍል III. ለሚከተሉት ጥያቄዎች ከተሰጡት ምርጫዎች ውስጥ ትክክለኛ የሆነውን በመምረጥ መልስ/ሽ

1. የጥንታዊ ሜሶፖታሚያ ስልጣኔ በየትኛው ወንዝ ዳርቻ ተመሰረተ?

ሀ. ጋንጀስ እና ኢንዱስ	ሐ. ያንግቲዝ እና ህዋንግሆ
ለ. ትግሪስ እና ኢፍራጤስ	መ. ናይል እና ቲግሪስ
2. ከሜሶፖታሚያ ነገስታት ህጎችን በማርቀቅ የሚታወቀው ንጉስ ማን ይባላል ?

ሀ. ጁስቲኒያ	ሐ. ሀሞራቢ
ለ. ሐሮዶቶስ	መ. ቆንስታንቲን
3. ከጥንታዊ ስልጣኔ ዉስጥ በውሃ የሚስራ ሰዓት በመስራት የሚታወቀው የትኛው ነው?

ሀ. ጥንታዊ ግሪክ	ሐ. ጥንታዊ ቻይና
ለ. ጥንታዊ ህንድ	መ. ጥንታዊ ሜሶፖታሚያ
4. ከ5ኛው እስከ 15ኛው ዓ.ም የሚድትራኒያንን አካባቢ ተቆጣጥሮ ሲያስተዳድር የነበረው ኢምፓየር የትኛው ነው?

ሀ. ባይዛንታይን	ሐ. ግሪክ-ሮማ
ለ. ጥንታዊ ሮማ	መ. ሞንጎሊያ

5. ከጥንታዊ ግሪክ ምሁራን ውስጥ “የታሪክ አባት” በመባል የሚታወቀው ማነው?

ሀ.ፐላቶ

ሐ. ሔሮዶቶስ

ለ.ሂሯክራቶስ

መ.ሶቅራጦስ

6. ከሚከተሉት ጥንታዊ ስልጣኔዎች ውስጥ ከውጭ ጫና ነፃ የሆነው የቱ ነው?

ሀ.የጥንታዊ ቻይና

ሐ.የጥንታዊ ግሪክ

ለ.የጥንታዊ ህንድ

መ.የጥንታዊ ሮማ

ምዕራፍ 5

ጥንታዊ የአፍሪካ ታሪክ

በዚህ ምዕራፍ የሚጠበቁ የትምህርቱ ውጤቶች፤

- ጥንታዊ የአፍሪካ ስልጣኔዎችን ትዘረዝራለህ/ሽ
- የጥንት ኑቢያ ስልጣኔን ከሌሎች ስልጣኔዎች የሚለየውን ትገነዘባለህ/ሽ
- ጥንታዊ የአለም ስልጣኔ አመስራረትን ታመዛዝናለህ/ሽ
- የጥንት ኑቢያ ስልጣኔ ልዩ የሚያደርገውን በመገንዘብ ታደንቃለ/ሽ
- የጥንት ኑቢያና ሜሮኤ ስልጣኔዎች ባህርያት ትገነዘባለህ/ሽ
- የአፍሪካ ሀገራትን ከቅኝ ግዛት በፊትና በኋላ ያሉትን ሁኔታዎችን በማስተያየት ትገመግማለህ/ሽ።

መግቢያ

በምዕራፍ አራት ውስጥ ስለ ቀደምት የአለም ስልጣኔዎች አጀማመርና አስተዋፅኦቶቸው ተረድተህ/ሻል። በዚህ ምዕራፍ ደግሞ ከጥንታዊ የአፍሪካ ስልጣኔዎች ውስጥ ስለ ጥንታዊ ግብፅ፣ ኑቢያ እና ሜሮኤ ትማራለህ/ሽ። ጥንታዊ ግብፅ፣ ኑቢያ እና ሜሮኤ ታዋቂና የመጀመሪያ የሰለጠኑ ጥንታዊ የአፍሪካ ሀገር ናቸው። በዚህ መሰረት የጥንታዊ ግብፅ ስልጣኔ የተመሰረተው በሰሜን ምስራቅ አፍሪካ ሲሆን ኑቢያ እና ሜሮኤ ደግሞ በአሁኑ ሱዳን ተብሎ በሚታወቀው አካባቢ ነው።

ተማሪዎች ቢያንስ ሊኖራቸው የሚገባ የትምህርት ብቃት፤

- ጥንታዊ የግብፅ ሥልጣኔ ለአለም ስልጣኔ ያበረከተውን ትዘረዝረለህ/ሽ
- የጥንት ኑቢያና ሜሮኤ ስልጣኔዎች ባህርያት ትገናዝባለህ/ሽ
- በአፍሪካ ሀገራትን ከቅኝ ግዛት በፊት የነበሩትን ሁኔታዎችን ትገልጻለህ/ሽ
- ብረትን የማቅለጥ ስልጣኔና ጥቅሙን ታብራራለህ/ሽ

5.1 ጥንታዊ የግብፅ ስልጣኔ

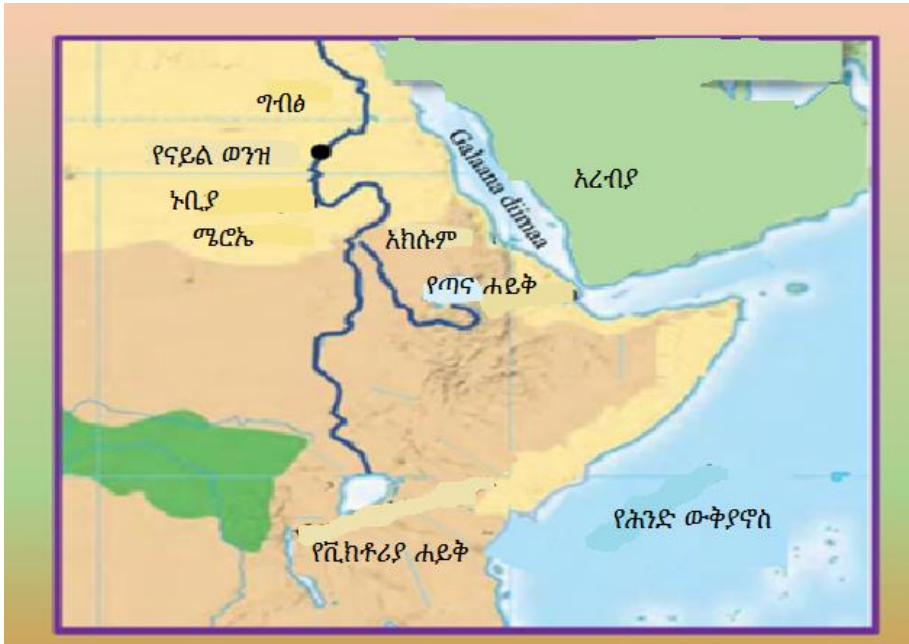
የሙከራ ጥያቄዎች

1. የጥንታዊ ግብፅ መንግሥት በየተትኛው የአፍሪካ ክፍል ይገኝ ነበር?
2. ጥንታዊ የግብፅ ስልጣኔ በምን ይገለጻል?

ጥንታዊ የግብፅ ሥልጣኔ የተመሠረተው በሰሜን ምስራቅ አፍሪካ በናይል ወንዝ ስምጥ ሸለቆ አካባቢ ነው። ጥንታዊ የግብፅ ህዝቦች የናይል ወንዝ ዉኃን በመጠቀም እንደ ተልባ፣ ገብስ፣ ዘንጋዳ እና ስንዴ ያሉ ሰብሎችን በማምረት ይታወቁ ነበር። በተጨማሪም በግብርናና በግንባታ ሥራዎች በአለም ላይ ይታወቁ ነበር። ነገር ግን አብዛኛው ጥንታዊ የግብፅ ህዝቦች ድሀ ነበሩ። ከዚህም የተነሳ ዝቅተኛ የሆነ ኑር ይኖሩ ነበር።

ናይል የሚለው ቃል የመጣው ከግሪክ ቃል ሲሆን ትረጉሙም ሸለቆ ማለት ነው። እንደ ግሪክ ታሪክ ፀሀፊ ሄርደተስ አገላለፅ ግብፅ(Egypt) ማለት የናይል ስጦታ ማለት ነው። እንዲሁም ለጥንታዊ ግብፅ መንግስት መመስረት ትልቁ ምክንያት የናይል ወንዝ መሆኑን

ገልጿል። በአጠቃላይ ጥንታዊ የግብፅ ህዝቦች ስልጣን የናይል ወንዝ ላይ የተመሰረተ ስልጣን ነበር።



ካርታ 5.1 (ሀ) የናይል ወንዝ ሸለቆ አካባቢ ስልጣኔዎች

ጥንታዊ የግብፅ ሥልጣን በአፍሪካ የመጀመሪያና ቀደምት የሆነ ስልጣን ነው። ይህ ስልጣን ከ3000 ዓ.ዓ አካባቢ ጀምሮ የተስፋፋ ነበር። የጥንታዊ የግብፅ ሥልጣን የተለያዩ ጥበብና እውቀቶችን በማጎልበት ለአለም ትልቅ አስተዋፅኦ አድርጓል። ከነሱም ውስጥ የሀይማኖትን ፅንሰ-ሀሳብ፣ የፕራሚድ ግንባታ፣ ስነ-ፅሁፍ፣ የስነ ክዋክብት እና የህክምና ጥናቶች ናቸው። በተጨማሪም ጥንታዊ የግብፅ ስልጣን የሚታወቀው የሞተ ሰውን ሬሳ ለረጅም ጊዜ አቆይቶ በማስቀመጥና ከነቤት ዕቃው አብሮ መቅበር ነው። ይህም ዘዴ "ሙሚፊኬሽን" በመባል ይታወቃል። ይህንን ስርዓት የሚያካሂዱበት ምክንያት የሞተው ሰው ተመልሶ ይነሳል ተብሎ ስለሚታመን ነው።

የጥንታዊ ግብፆች ጽሑፍ ረዥም እድሜ ካላቸው የዓለም ጽሑፎች

የሰባተኛ ክፍል ሕብረተሰብ ትምህርት የተማሪዎች መጽሐፍ

ውስጥ አንዱ ነበር። ይህ ጽሑፍ ሃይሮግሎፊክስ በመባል ይታወቃል። ሃይሮግሎፊክስ ምልክቶች ወይም ሥዕልን በመጠቀም አንድን ሃሳብ ወይም ድምፅ የሚገለፅበት ሂደት ነው። ሃይሮግሎፊክስ የሚጻፍበት ወረቀት መሳይ መሣሪያ ፓፕራስ ይባላል። ጥንታዊ የግብፅ ሥልጣኔ በተለያዩ ስነ ጽሑፎች ይታወቃል። ከነሱም ውስጥ ዘ ቡክ ኦፍ ደድ (the book of the dead) የሚባለው በጣም ታዋቂ ነው። የዚህ መጽሐፍ ዋና ይዘት ትንሳኤ መኖሩን ለመግለጹ ነው።



ሥዕል.5.1. (ሀ) የሃይሮግሎፊክስ ፅሑፍ በፓፕራስ ላይ

ጥንታዊ የግብፅ ሥልጣኔ ጠንካራ አስተዳደራዊ መዋቅሮች በማደራጀት ይታወቃል። ጥንታዊ ግብፅ በአንድ መንግሥት ከመተዳደራቸው በፊት በሁለት መንግስታት ተከፍለው ይኖሩ ነበር። እነሱም፤

1ኛው የላይኛው ናይል ጥንታዊ የግብፅ መንግስት። የላይኛው ናይል ጥንታዊ የግብፅ መንግስት መቀመጫው ቴቢስ ሲሆን የራሱ የሆነ ነጭ አርማ ነበረው።

2ኛው የታችኛው ናይል ጥንታዊ የግብፅ መንግስት። የታችኛው ናይል ጥንታዊ የግብፅ መንግስት ማዕከል ሜምፊስ በምትባል ዋና ከተማ የነበረ ሆኖ ከላይኛው ግብፅ የሚለይ ቀይ አርማ ነበረው።

በ3100 ዓ.ዓ አከባቢ ሜኒስ የተባለው የታችኛው የግብፅ ንጉሥ የላይኛውን ጥንታዊ የግብፅ መንግስት በመውረር የላይኛውና የታችኛው ጥንታዊ የግብፅ መንግስታት በማዋሀድ ጠንካራ መንግስት መስርቷል። የጥንታዊው ግብፅ መንግስታት አገዛዝ ጊዜያት በሦስት ደረጃ ይከፈላሉ። እነሱም፤

- አሮጌው ጥንታዊ የግብፅ መንግሥታት ዘመን (2686-2181ዓ.ዓ)
- መካከለኛው ጥንታዊ የግብፅ መንግሥታት ዘመንና (2049-1730ዓ.ዓ)
- አዲሱ የጥንታዊ ግብፅ መንግሥታት ዘመን (1150-1080ዓ.ዓ) ነበሩ።

የጥንት ግብፆች ፈረክን በሚባሉ መሪዎች ይመሩ ነበር። በጥንታዊ የግብፅ ቋንቋ ፈረክን ማለት ከድንጋይ የተሰራ ቤት ማለት ነው። የጥንታዊ ግብፅ ፈረክኖች ግዙፍ ፒራሚዶችን በመስራት፣ በግብርናና(በመስኖ እርሻ ስራ) ንግድ ስራ ይታቀወቁ ነበር። በ1500 አመታት ውስጥ 70 ፒራሚዶችን አሰርተዋል።

አብዛኞቹ የተሰሩት በአሮጌው የግብፅ መንግስት ዘመን ነው። ከነዚህ ፒራሚዶችን መካከል ግዙፉ ፒራሚድ የተገነባው በንጉስ ኩፉ (2575-2465ዓ.ዓ) ዘመን የተሰራ ነው። ይህ ፒራሚድ በአሁኑ ወቅት ጊዛ በሚባልበት ቦታ ይገኛል።

የጥንታዊ ግብፅ ፒራሚዶችን በብዛት ግብፆች ሊሰሩ የቻሉበት ምክንያት ተጨባጭ መረጃ አልተገኘም። ነገር ግን አንዳንድ መረጃዎች እንደሚያመለክቱት ጥንታዊ ግብፆች ፒራሚዶችን የሰሩት ለተለያዩ የሀይማኖት አምልኮዎችና ለነገስታት መቃብርነት አገልግሎት እንደሆነ ይገልጻሉ። በአጠቃላይ የጥንታዊ ግብፅ ነገስታት ስልጣኔ ሕብረተሰቡን በተለያዩ ስራዎች ላይ ያሳተፉ ነበር።



ሥዕል 5.1 (ለ) ከጥንታዊ የግብፅ ፒራሚዶች ውስጥ በከፊል

የፕሮጀክት ስራ

የሚከተለውን ጥያቄ በመስራት ለመምህራችሁ አሳዩ

✚ ስድስት ስድስት ሆናችሁ በመደራጀት ሥዕል 5.1(ለ) ያለውን የግብፅ ፒራሚድ እንደ ምሳሌ በመጠቀም በአከባቢያችሁ የሚገኙትን ቁሶች በመጠቀም ሰርታችሁ አቅርቡ።

ጥንታዊ የግብፅ መንግሥታት የውጭ ኃይል ወራሪ ሲከላከሉ ቆይተዋል። ነገር ግን የውጭ ኃይል ወራሪዎችን ለረጅም ጊዜ ግብፅ ላይ በከፊቱት ጦርነት ምክንያት የግብፅ ሥልጣኔ እየተዳከመ መምጣት ጀመረ።

እነዚህ ወራሪዎችም አሞራይትስ(1800 ዓ.ዓ)፣ ሂቲትስ(1289-31ዓ.ዓ)፣ አሲሪያኖች(670-664ዓ.ዓ)እና ፔርሺያኖች (525-332 ዓ.ዓ) ናቸው። በመጨረሻም ግርኮች (332 ዓ.ዓ)እና ሮማዊያን (30-644 ዓ.ም) ባተካሄዱት ወራሪ ምክንያት የግብፅ ሥልጣኔ ሊወድቅ ችሏል።

መልመጃ 5.1

ክፍል I: የሚከተሉትን ዐረፍተ ነገሮች “እውነት” ወይም “ሐሰት” በማለት መልስ/ሽ

1. ሙሚፊኬሽን የጥንታዊ ግብፅ ፒራሚድ አሰራር ዘዴ መስሪያ ነው።
2. የግብፅ ህዝቦች ከጥንት ዘመን ጀምሮ የናይል ወንዝን ለእነሱ ብቻ እንደተሰጣቸው ልዩ ስጦታ ይቆጥራሉ።
3. የላይኛው ናይል ጥንታዊ የግብፅ መንግስት የራሱ የሆነ ነጭ አርማ ሲጠቀም ቆይቷል።
4. ከጥንታዊ የግብፅ ታሪካዊ ቅርሶች ውስጥ ፒራሚዶች ትልቅ ቦታ አላቸው።

ክፍል II: ለሚከተሉትን ጥያቄዎች ትክክለኛውን መልስ ስጥ/ጩ

5. የጥንታዊ ግብፅ ስነ-ጽሑፍ ምን በመባል ይታወቃል?
6. የጥንታዊ ግብፅ ስነ-ጽሑፍ _____ በሚባል የፅሁፍ መሳሪያ ላይ ይፃፋል።
7. የጥንታዊ ግብፅ ስልጣኔ ለምን በናይል ሸለቆ አካባቢ ተመስረተ?
8. የላይኛውና የታችኛው ጥንታዊ የግብፅ መንግስታት መቼ ተዋህዱ?
9. ከቀደምት የግብፅ ስልጣኔ ውጤቶች ውስጥ አምስቱን ዘርዝር/ሪ

5.2 ጥንታዊ የኑቢያ ስልጣኔ

የሙከራ ጥያቄዎች


1. ጥንታዊ የኑቢያ ስልጣኔ የት እንደ ተመስረተ ካርታ በመስራት አሳይ/ዩ.
2. የኑቢያ ስልጣኔ ውጤቶችን ዘርዝር/ሪ

ጥንታዊ የኑቢያ ስልጣኔ የተመሠረተው በአሁኑ ሰሜን ምስራቅ የሱዳን ሪፑብሊክ ውስጥ ነው። የኑቢያ ስልጣኔ የኩሽ ስልጣኔ በመባል ይታወቃል። የተለያዩ መረጃዎች እንደሚገልጹት እነዚህ ህዝቦች በኑቢያ

በቆላማ ኑቢያ አካባቢዎች ሲኖሩ የቆዩ መሆኑን ያመለክታል። ኑቢያኖች ኩሽ በሚል ስምም ይታወቃሉ። ኩሽ የሚለው ስም በጥንታዊት ግብፆች የተሰየመ ሲሆን ከጥንታዊ ግብፅ በስተ ደቡብ ለሚገኙ ህዝቦችን በሙሉ የተሰጠ ስም ነው። በ2000 ዓ.ዓ አካባቢ ጥንታዊት ኑቢያኖች ከርማ በምትባለው ቦታ ጠንካራ መንግስት መስርተው ነበር።

ጥንታዊት ኑቢያ መልካ ምድር አቀማመጥ የተለያየ አየር ንብረት ነበረው። ምስራቃዊ ቆላማውን ክፍል አረብቶ አደሮች ሲኖሩበት የነበረ ሲሆን ደጋማ ክፍሉ ደግሞ በቂ ዝናብ ያለውና ለግብርና ምቹ የሆነ አካባቢ ነበር። በተጨማሪም ደጋማው ክፍል በተለያዩ ማዕድናት ለምሳሌ ወርቅና በሌሎች ማዕድናት የበለፀገ ስፍራ ነበር። በሌላ በኩል የናይል ተፋሰስ አካባቢ የሚገኘው ደግሞ ለም አፈርና በቂ ውሃ ያለው ሲሆን ለግብርና ስራ ምቹ የሆነ ቦታ ነው።

ጥንታዊ ኑቢያዊያን በግብርና ስራ ብቻ ሳይሆን በንግድ ስራም ይታወቃሉ። ከጥንታዊ ግብፅና ቀይ ባህር አካባቢ የንግድ መስመሮች ጋር የዝሆን ጥርስ፣ ወርቅ እና የሰጎን ላባ ይነግዱ ነበር። በተለይ ከአርጌው ጥንታዊ የግብፅ መንግስት ጋር በምጣኔ ሀብትና በፖለቲካው ዘርፍ ጠንካራ ትስስር ፈጥሯል። ከጥንታዊ የግብፅ መንግስት ጋር በነበራቸው ጠንካራ ግንኙነቶች የተነሳ የግብፆችን ስልጣኔ ከራሳቸው ስልጣኔ ጋር በማዋሃድ ሲገለገሉ ቆይቷል። ለምሳሌ ሀይማኖት፣ የአስተዳደር ስርዓት፣ እደ ጥበብ፣ የቅርፃቅርፆች ስራ እና የፒራሚዶች ግንባታ ዋና ዋናዎቹ ናቸው።



ሥዕል 5:2(ሀ) ጥንታዊ የኑቢያ ህንፃዎች እና ቅርፃ ቅርፆች በክፍል

ጥንታዊ የግብፅ መንግስት በ1500 ዓ.ዓ ኑቢያን በመውረር ለ400 አመታት አከባቢ ሲያስተዳደሩ ቆይተዋል። ይሁን እንጂ ጥንታዊ የግብፅ መንግስታት ቀስ በቀስ እየተዳከሙ በመሄዳቸው ኑቢያኖች በ1100 ዓ.ዓ ከጥንታዊ የግብፅ መንግስት እራሳቸውን መልሰው ነፃ አውጥተዋል። በመቀጠልም በ750 ዓ.ዓ ጥንታዊ የኑቢያ መንግስት በተራው የግብፅ መንግስትን በመውረር በራሱ አስተዳደር ስር ሊያስገባ ችሏል። በጥንታዊ ግብፅ በጥንታዊት ታዋቂው የኑቢያ መንግስት አስተዳደር ስር ያስገባው 25ኛ ስርወ መንግስት ተብሎ ይጠራል። በመጨረሻም አሲሪያኖች ግብፅን በወረሩበት ጊዜ ጥንታዊት ኑቢያኖችም ግብፅን ለቀው በመውጣት ወደ ደቡብ ተመልሰዋል።

በመቀጠልም የኑቢያ መንግስት እስከ አትባራ ወንዝ ተፋሰስ ግዛቱን አስፋፍቷል። ነገር ግን የክርስትናና እስልምና ሀይማኖት በአካባቢው መስፋፋት ለኑቢያ መንግስት መዳከመና መውደቅ ምክንያት ሆኗል።

መልመጃ 5:2

ለሚከተሉት ጥያቄዎች አጫጭር መልስ ስጥ/ጩ

1. ለኑቢያ መንግስት መውደቅ ምክንያት የሆነው በመለየት ግለጽ?
2. የጥንታዊ ኑቢያ መንግስት ምጣኔ ሀብት መሰረት ምን ነበር?
3. 25ኛው የኑቢያ ስርወ መንግስታት ጥንታዊ ግብፅን በሚያስተዳደርበት ዘመን ለምን ኩሻዊ አስተዳደር ተብሎ ሊጠራ ቻለ?
4. የጥንታዊ ኑቢያና የግብፅ ስልጣኔዎች ያላቸውን ትስስር ግለጽ/ጩ?

5.3 ጥንታዊ የሜሮኤ ስልጣኔ

የሙከራ ጥያቄዎች

1. የጥንታዊት ሜሮኤ ስልጣኔ መመስረት ልዩ የሚያደረገው ምንድነው?
2. ጥንታዊት ሜሮኤ የምትታወቅበትን ስልጣኔዎች አብራራ/ሪ፡፡

የጥንታዊት ሜሮኤ ህዝቦች ከ1000-730 ዓ.ዓ በጥንታዊ ኑቢያ ውስጥ ይኖሩ ነበር፡፡ ጥንታዊ የሜሮኤ ነገስታት የኩሽ መንግስት በመባልም እንደሚታወቁ የተለያዩ የታሪክ መረጃዎች ይገልጻሉ፡፡ ይሁን እንጂ በጥንታዊ ግብፅ መስፋፋት ምክንያት ሜሮኤዎች እንደ ኑቢያኖች ለዘመናት በግብፆች አስተዳደር ስር ቆይተዋል፡፡ ነገር ግን ከኑቢያኖች ጋር በመሆን ከ730 ዓ.ዓ ጀምሮ ሜሮኤዎች የፖለቲካዊና ምጣኔ ሀብት የበላይነትን በመቆጣጠር ለ60 አመታት ጥንታዊ ግብፆችን አስተዳድረዋል፡፡

የጥንታዊት ኑቢያና ሜሮኤ ህዝቦች አንድ መሆናቸውን የሚገልፅ መረጃ ባይኖርም ሁለቱ ህዝቦች በአሲርያኖች ወረራ ምክንያት ወደ ደቡብ (የአሁኑ ሱዳን ሪፐብሊክ) አብረው እንደተመለሱ ይገልጻሉ፡፡ በ593 ዓ.ዓ ከነበሩበት ርቀው በመሄድ መዲናቸውን ወደ ሜሮኤ ቀይረዋል፡፡

ጥንታዊ ሜሮኤ ከጥንታዊ ግብዎች በስተ ደቡብ በጣም ርቀው አዲስ ማዕከል ያቋቋሙበት ምክንያቶች እንደሚከተለው ተገለጿል፡

- ከጥንታዊት ግብዎች ጫና ለመሸሸና
- ለሰው ልጅ ኑሮ ምቹ የሆነ የአየር ንብረት ፍለጋ ነው። ከቆላማው ሰሜን አካባቢ ክፍል ወደ ሳቫና ደን ያለበት ደቡብባዊው ክፍል መስደድ የምጣኔ ሀብት ጠቀሜታውን ስለ ተረዱ ነበር።

የጥንታዊት ሜሮኤ ህዝቦች በብረታ ብረት ስራ፣ በሸክላ ስራ ፣ በእንጨት ስራ እና የተለያዩ ቅርጻ ቅርጾችን በመሰራት ይታወቃሉ። በተለይም ብረታ ብረቶችን በማቅለጥ ቢላዋ፣ ጦር እና የተለያዩ ስለታማ መሳሪያዎችን ሰርተው ሲጠቀሙበት ቆይተዋል። ብረታ ብረትን በማቅለጥ ስራ ታዋቂ ስለሆኑ የሰሜን ምሰራቅ አፍሪካ የብረት ኢንዱስትሪ ማዕከል ተብለው ይጠሩ ነበር። የተለያዩ የታሪክ ቅርሶችም ይሄንኑ ያረጋግጣሉ።

በተጨማሪም ጥንታዊ የሜሮኤ ህዝቦች በከብቶች እርባታና በንግድ ስራ ከጥንታዊት ግብፅና ኑቢያ ጋር ግንኙነት ነበራቸው። እንዲሁም ከአክሱምና ከቀይ ባህረ አካባቢ ካሉት ህዝቦች ጋር ንግድ ሲያካሄዱ ቆይተዋል። ከዚህ ንግድ ስራም ከፍተኛ ገቢ አግኝተዋል።



ሥዕል 5:3(ሀ) ከጥንታዊ የሜሮኤ ፒራሚዶችና በክሬል

ጥንታዊ ሜሮኤዎች ፒራሚዶችን በመስራት፣ የተለያዩ ቅረፃ ቀርጾችን በመስራት፣ ቀለማትን በመቀባት ይታወቁ ነበር። ከጥንታዊ የግብፅ መንግስታት ጋር ካላቸው ጠንካራ ግንኙነት የተነሳም የግብፅን ስልጣኔ ከራሳቸው ስልጣኔ ጋር በማዋሃድ ሲገለገሉበት ቆይተዋል። ለምሳሌ ሀይማኖትዊ አመለካከቶችን ፣ የአስተዳደር ስርዓት፣ የእደጥበብ ስራ፣ የቅርፃቅርፆች ስራ እና የፒራሚዶች ግንባታ ዋና ዋናዎቹ ናቸው።

የአፍሪካ ቀንድ አካባቢ የንግድ መስመርን ለመቆጣጠር ሲል የአክሱም መንግስት ንጉስ ኢዛና እና ጥንታዊ ሜሮኤ ትልቅ ፉክክር ወሰጥ ገብተዉ ነበር። በመጨረሻም በአክሱም መንግስት ወራራ ምክንያት በ350 ዓ.ም ሜሮኤ ልትጠፋ ችላለች።

መልመጃ 5 3

ለሚከተሉት ጥያቄዎች አጫጭር መልስ ስጥ/ጩ

1. የጥንታዊ ሜሮኤና ኑቢያ ስልጣኔዎች ግንኙነት አብራራ/ሪ።
2. ጥንታዊ ሜሮኤ የምትታወቅበት ስልጣኔ ምን ተብሎ ይጠራ ነበር?
3. ጥንታዊ የሜሮኤና ኑቢያ ስልጣኔዎች የምጣኔ ሀብት መሰረት የሆነውን ግለፅ/ጩ
4. ጥንታዊ የሜሮኤና ግብፅ ስልጣኔዎች ግንኙነት ዘርዝር/ሪ።

ማጠቃለያ

በሰሜንና ሰሜን ምስራቅ አፍሪካ ታዋቂ ከሆኑት የጥንት ስልጣኔዎች መካከል የግብፅ፣ ኑቢያ እና ሜሮኤ ዋናዎቻቸው ናቸው። ከነዚህም ውስጥ የጥንታዊ ግብፅ ስልጣኔ ቀዳሚ ነው። ይሁን እንጂ የጥንታዊ ግብፅ ስልጣኔ ከ7ኛው ዓ.ዓ ጀምሮ በአሲሪያኖች፣ ፔርሲያኖች፣ ግርኮች እና ሮማዊያኖች ወረራ ምክንያት ሊውደቅ ችሏል።

የጥንታዊት ኑቢያ ስልጣኔ የተመሠረተው በአሁኑ ሰሜን ምስራቅ የሱዳን ሪፑብሊክ አካባቢ ነው። ጥንታዊ የግብፅ መንግስት በ1500 ዓ.ዓ ኑቢያኖችን በኃይል ወሯል። በዚህ ምክንያት የኑቢያ መንግስት በጥንታዊ ግብፅ ስር ለመተዳደር ተገዷል። ይሁን እንጂ ጥንታዊ የግብፅ መንግስት ቀስ በቀስ እየተዳከም በመሄድ ኑቢያኖች በ1100 ዓ.ዓ ከጥንታዊ የግብፅ መንግስት እራሳቸውን መልሰው ነፃ በማወጣት በተራቸው ግብጾችን ማስተዳደር ችለዋል። ነገር ግን አሲሪያኖች ግብፅን በወረሩበት ጊዜ ኑቢያኖች ግብፅን ለቀው በመውጣት ወደ ደቡብ በመመለስ አዲስ መንግስት አዋቅረዋል።

የሰባተኛ ክፍል ሕብረተሰብ ትምህርት የተማሪዎች መጽሐፍ

ጥንታዊ ሜሮኤ ከጥንታዊ የግብፅ መንግስት ጋር ካላቸው ጠንካራ ግንኙነት የግብፆችን ስልጣኔ ከራሳቸው ስልጣኔ ጋር በማዋሃድ ሲገለገሉበት ቆይዋል። በ350 ዓ.ም ግን በአክሱም መንግስት ንጉስ ኢዛና ወራራ አማካኝነት ጥንታዊ ሜሮኤ ልትጠፋ ችላለች።

የምዕራፍ 5 ማጠቃለያ ጥያቄዎች

ክፍል.1. ለሚከተሉት ጥያቄዎች ከተሰጡት ምርጫዎች ውስጥ ትክክለኛ የሆነውን በመምረጥ መልስ/ሽ

1. በሰሜን ምስራቅ አፍሪካ የብረታ ብረት ኢንዱስትሪ ማዕከል በመባል የምትታወቀው የቷ ናት?

ሀ. ግብፅ ለ. አክሱም ሐ. ሜሮኤ መ. ኑቢያ
2. ለጥንት ግብፃውያን መንግስት ውድቀት ምክንያት የሆነው የቱ ነው?

ሀ. የአሲርያኖች ወረራ ለ. የግሪኮች ወረራ

ሐ. የሮማኖች ወረራ መ. ሁሉም መልስ ነው
3. ጥንታዊ የግብፅ መንግስትና ኑቢያ ያላቸው ግንኙነት በይበልጥ ምን ላይ ያተኮረ ነበር ?

ሀ. ንግድ ለ. ባህል ሐ. ፖለቲካ መ. ሁሉም መልስ ነው
4. በ350 የሜሮኤን ስልጣኔ በመውረር ያስወደቀው የቱ ነው?

ሀ. ኑቢያ ለ. አክሱም ሐ. ግብፅ መ. ኩሽ
5. የጥንታዊ ግብፅ ስልጣኔ ውጤት የሆነው የቱ ነው?

ሀ. ሄሮዲኦስ ለ. ፒራሚዶች

ሐ. የሙሚኤኬሽን ስራ መ. ሁሉም መልስ ነው

ክፍል II : በ “ለ” ስር ያለውን ምርጫ ከ “ሀ” ስር ካሉት ጥያቄዎች ጋር አዛምድ/ጅ

<u>ሀ</u>	<u>ለ</u>
1. ጥንታዊ የኑቢያ ስልጣኔ	ሀ. በአክሱም መንግስት ወደመ
2. ጥንታዊ የግብፅ ስልጣኔ	ለ. በአሲሪያኖች ቁጥጥር ስር ዋለ
3. ጥንታዊ የሜሮኤ ስልጣኔ	ሐ. የኩሽ ስልጣኔ
4. የግብርና ዘርፍ	መ. ግዢ እና ሽያጭ
5. የንግድ ዘርፍ	ሠ. የእንስሳት እርባታ
	ረ. አዱሊስ

ክፍል III : ለሚከተሉት ጥያቄዎች አጫጭር መልስ ስጥ/ጩ::

1. የጥንታዊ ግብፅና ሜሮኤ ስልጣኔዎች ውጤቶችን በማነጻጸር ተንትን/ኚ
2. የጥንታዊ ግብፅ መንግስት አገዛዝ ዘመን ክፍፍሎችን ያፍ/ፊ::

ምዕራፍ 6

ጥንታዊና የመካከለኛው ዘመን የኢትዮጵያ መንግሥታትና ህዝቦች ታሪክ

ከዚህ ምዕራፍ የሚጠበቁ የትምህርቱ ውጤቶች፤

- የኢትዮጵያን ጥንታዊ የሥልጣኔ መገለጫዎችን ትዘረዝራለህ/ሽ
- የአክሱምና ዛጉዌ የጥንት ሥልጣኔ ታሪክ በመገንዘብ ታደንቃለህ/ሽ
- የኢትዮጵያ ሙስሊም ሱልጣኔቶች አነሳስና መስፋፋትን ታብራራለህ/ሽ
- የጐንደር ታሪካዊ ሁኔታዎችን በመገንዘብ ታደንቃለህ/ሽ
- የኢትዮጵያ የጥንትና መካከለኛው ዘመን ምጣኔ ሀብት እንቅስቃሴ በመገንዘብ ተሳትፎህን/ሽን ታዳብራለህ/ሽ

መግቢያ

የኢትዮጵያ ታሪክ ከተከናወነበት ጊዜ አንፃር ሲታይ በሶስት ደረጃ ይከፈላል። እነዚህም ጥንታዊ፣ መካከለኛ እና ዘመናዊ ታሪክ በመባል ይታወቃሉ። በዚህ ምዕራፍ ውስጥ የጥንታዊና መካከለኛ ዘመን ታሪክ በአጭሩ ትማራለህ/ሽ። ጥንታዊ የኢትዮጵያ ታሪክ የሚባለው መንግሥት ከተመሠረተበት እስከ 1270 ዓ.ም ያለው ጊዜ ማለት ነው። የአክሱምና የዛጉዌ መንግሥታት አመሠራረት በዚህ በጥንታዊ ታሪክ

የሰባተኛ ክፍል ሕብረተሰብ ትምህርት የተማሪዎች መጽሐፍ

ዘመን ውስጥ ይካተታል። የመካከለኛው ክፍለ ዘመን ታሪክ ደግሞ ከ1270 ዓ.ም እስከ 1855 ዓ.ም ድረስ ያለውን ያካተተ ነው። በዚህ መካከለኛ ዘመን ታሪክ ደግሞ የተለያዩ የኢትዮጵያ ህዝቦች የበላይነትን ለመያዝ ሲፎካከሩ የነበሩበትን ክፍለ ዘመን ታሪክ የያዘ ነው።

ተማሪዎች ቢያንስ ሊኖራቸው የሚገባ የትምህርት ብቃት፤

- ጥንታዊ የኢትዮጵያ ሥልጣኔ ታሪክ ትገልጻለህ/ሽ፤
- የኢትዮጵያን ጥንታዊና መካከለኛ የማህበራዊ፣ ፓለቲካዊ እና ምጣኔ ሀብታዊ ሁኔታዎችን ታብራራለህ/ሽ
- የኢትዮጵያ ህዝቦች ግንኙነትና ትስስር ሁኔታዎችን ትተነትናለህ/ሽ
- ግብርና፣ ንግድ እና የተለያዩ ገቢዎች በአገሪቷ ምጣኔ ሀብት ውስጥ ያላቸውን አስተዋፅኦ ትገልጻለህ/ሽ

6.1. ጥንታዊ የኢትዮጵያ መንግሥት

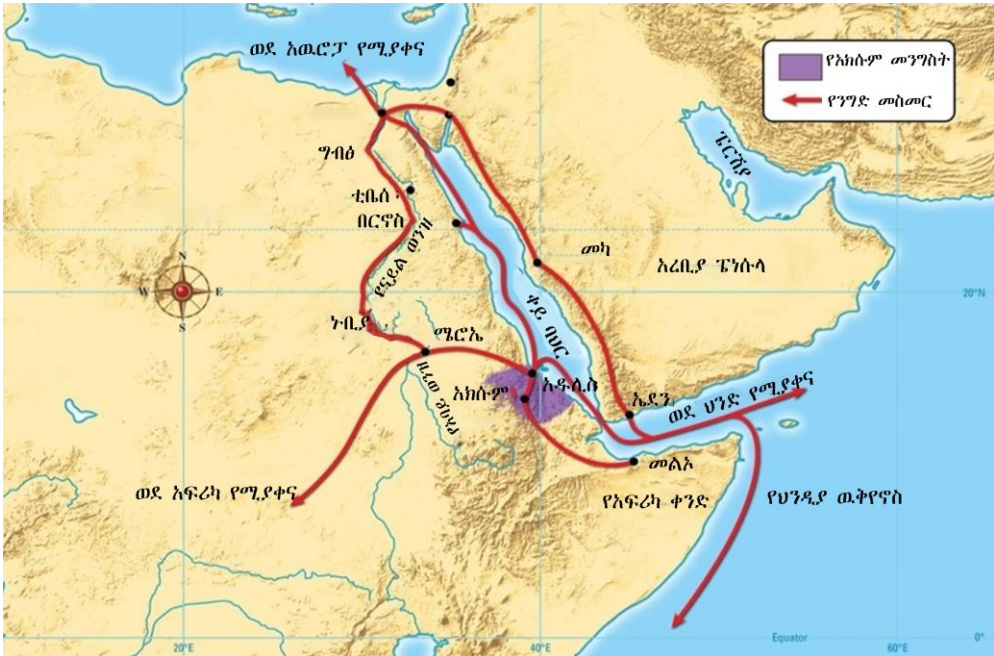
6.1.1. የአክሱም መንግሥት

ጥንታዊ የአክሱም ሥልጣኔ የተመሰረተው በሰሜን ኢትዮጵያ በ100 ዓ.ዓ አክባቢ ነው። የአክሱም መንግሥት አስተዳደር ድንበር ከጊዜ ወደ ጊዜ በመስፋፋት የአክሱም መንግሥት ግዛቱን አጠናክሯል። ከ4ኛ እስከ 7ኛ ክፍለ ዘመን የአክሱም መንግስት ድንበሩን ወደ ተለያዩ አቅጣጫ አስፋፍቶ ነበር። በዚህ መሠረት በሰሜን አቅጣጫ እስከ ኤርትራ፣ በደቡብ አቅጣጫ እስከ ሰሜን ሸዋ፣ በስተምዕራብ አቅጣጫ እስከ አባይ ሸለቆ፣ በስተምዕራቅ በኩል ደግሞ እስከ ቀይባህር ይደርስ ነበር።

በንጉሥ ኢዛና ዘመን መንግሥት የአክሱም መንግሥት አስተዳደር በስተ ምዕራብ አቅጣጫ እስከ ሜሮኤ መንግሥት ደርሶ ነበር። እንዲሁም በተለይ በንጉሥ ካሌብ ዘመን መንግሥት የአክሱም

የሰባተኛ ክፍል ሕብረተሰብ ትምህርት የተማሪዎች መጽሐፍ

መንግሥት ድንበር ሰፍቶ ቀይ ባህርን ተሻግሮ እስከ ደቡብ ምሥራቅ አረቢያ ድረስ እንደተስፋፋ ይታወቃል።



ካርታ. 6 :1. የጥንታዊ አክሱም መገኛና የንግድ መስመሮች

የአክሱም መንግሥት ምጣኔ ሀብት የተመሰረተው በግብርናና በንግድ ሥራ ላይ ነበር። ከ4ኛው እስከ 7ኛው ዓ.ም ክፍለ ዘመን የአክሱም መንግሥት በሃይማኖት፣ በትምህርት እና በንግድ ስራ ይታወቅ ነበር። በቀይ ባህር አካባቢ የሚገኝ የአክሱም ወደብ አዱሊስ ይባላል። አክሱም ወደ ቀይ ባህር ቀረብ ብላ ከመገኘቷ የተነሳ ከህንድና ከሜዲትራኒያ አገሮች እንደ ሶሪያ፣ ግብፅ ሮም እና ባይህንታየን ጋር ሰፊ የንግድና የፖለቲካ ግንኙነት ነበራት። ወደ ውጭ ሲላኩ ከነበሩት የንግድ የሸቀጥ አይነቶች ወርቅ፣ የዝሆን ጥርስ፣ እጣን፣ የግብርና ውጤቶች ቅመማቅመም እና የተለያዩ እንስሳቶች ዋናዎቻቸው ሲሆኑ ወደ ሀገር ውስጥ ሲገቡ የነበሩት ደግሞ አልባሳት፣ የጦር መሳሪያዎች፣ የተለያዩ

የአልኮል መጠጦች፣ ሽቶዎች እና የተለያዩ የቤት ዕቃዎች ናቸው።

የጥንታዊ አክሱም ህብረተሰብ በተለያዩ የአስተዳደር መዋቅሮች የተከፈሉ ነበሩ። እነዚህ የአስተዳደር መዋቅሮች የላይኛው መደብ፣ መካከለኛው መደብ እና የታችኛው መደብ በመባል ይታወቃሉ። የላይኛው መደብ አባላት፣ የመንግስት ባለስልጣንና የሃይማኖት አባቶች ሲሆኑ የመካከለኛ መደብ ደግሞ አርሶ አደሮች፣ የተለያዩ የዕድ ጥበብ ሰራተኞች እና ነጋዴዎች ናቸው። የታችኛው መደብ ባሮች ተብለው የሚጠሩ ወይም መብትና ነጻነት የተነፈጉ የህብረተሰብ ክፍሎች ነበሩ።

ከአክሱም ሥልጣኔ መገለጫዎች ታዋቂዎቹ የቅርፃ ቅርፆች ስራ፣ ስነ ሀንፃ፣ ስነ ፅሑፍ፣ ሃይማኖት እና ንግድ ናቸው። ከእነዚህ ሥልጣኔዎች ውስጥ ታዋቂው አንዱ የአክሱም ሀውልት ነው። ከዚህም ሌላ የተለያዩ ትላልቅ የአምልኮ ቤቶች እና የቤተመንግስት ሕንፃዎች ተገንብተዋል ።



ሥዕል 6.1(ሀ) ጥንታዊ የአክሱም ሀውልት

የፕሮጀክት ስራ

የሚከተለውን ጥያቄ በመስራት ለመምህራችሁ አሳዩ

- በቡድን በመደራጀት በሥዕል 6.1(ሀ) ላይ የሚታየውን ጥንታዊ የአክሱም ሀውልትን በአከባቢያችሁ የሚገኙትን ቁሳቁሶችን በመጠቀም ሰርታችሁ አቅረቡ።

ጥንታዊ የአክሱም መንግስት የራሱ የሆነ ስነ-ጽሑፍ ነበረው። ለረዥም ጊዜ የአክሱም መንግስት የሳባን ፊደል በመጠቀም በግዕዝ ቋንቋ በመጻፍ የስራ ቋንቋ አድረጎ ሲጠቀምበት ቆይቷል። የአክሱም መንግስት የራሱ

የሰባተኛ ክፍል ሕብረተሰብ ትምህርት የተማሪዎች መጽሐፍ

የሆነ ሳንቲም ከወርቅ፣ ከብር እና ከነሀስ በመቅረጽ የንግድ እንቅስቃሴን በማካሄድ ይታወቃል።



ሥዕል 6.1(ለ) ጥንታዊ የአክሱም መንግሥት ሳንቲሞች

ከ8ኛው እስከ 12ኛው ክፍለ ዘመን በአክሱም መንግሥት ታሪክ ውስጥ የጨለማ ዘመን በመባል ይታወቃል። ይህ ሊባል የቻለበት ዋናው ምክንያት በዚያን ዘመን ስለ አክሱም መንግሥታት ምንም የሚታወቅ ተጨባጭ መረጃ ባለማኖሩ ነው። በተጨማሪም የአክሱም የፖለቲካና ምጣኔ ሀብት እንቅስቃሴ መውደቅ እንዲሁም የውጭ ሀገር ግንኙነት መላላት ናቸው።

የተለያዩ የታሪክ መረጃዎች እንደሚገልጹት የአክሱም መንግሥት ሊወድቅ የቻለበት ምክንያት የአገር የውስጥ ችግር እና የውጭ ተፅዕኖ ነበር። እነዚህም የሚከተሉት ናቸው፡

- የአገር ውስጥ ችግር የምንለው የአየር ፀባይ መለወጥ፣ የቤጃ ህዝብ አመፅ እና ነገስታት ስልጣን ለመያዝ እርስ በእርስ ያደረጉት ፉክክሮች ሲሆኑ
- የውጭ ተፅዕኖ የሚባለው ደግሞ የእስልምና ሃይማኖት በአረቢያ ውስጥ በመስፋፋት-ቱ ምክንያት የቀይ ባህር አካባቢ የንግድ መስመር በአረቦች ቁጥጥር ስር መውደቁና የአክሱም መንግሥት የውጭ ግንኙነት መቋረጥ ነው። የአክሱም መንግሥት የንግድ ወደብ አዱሊስ በአረቦች በመውደሙ የአክሱም መንግሥት እንዲወድቅ አድርጎታል። በአጠቃላይ የአክሱም መንግሥት በአገር ውስጥ ችግር እና በውጭ ተፅዕኖ በ1150 ወድቋል።

6.1.2. የዛጉዌ “ዘአገው” መንግሥት(1150- 1270 ዓ.ም)


የሙከራ ጥያቄዎች

1. የዛጉዌን መንግስትና የላሊበላን ከተማ ግንኙነት ግለጥ/ጭ
2. የዛጉዌን ግዛት ከጥንታዊ የአክሱም ከተማ በየትኛው አቅጣጫ ይገኛል?
3. የዛጉዌ መንግስት አመሰራረት ሂደት በቡን በመሆን ተወያዩበት

የዛጉዌ መንግሥት የተመሠረተው ከአክሱም በስተሰሜን በ1150 ዓ.ም ነው። የዛጉዌ ሥረወ መንግሥትን ያቋቋመው መራ ተክለሃይማኖት ይባላል። መራ ተክለሃይማኖት በአክሱም አስተዳደር ውስጥ በከፍተኛ ቦታ ተሹሞ ሲያገለግል ነበር። ነገር ግን የአክሱም የመጨረሻ ንጉስ የነበረውን ድልናያድ በማሸነፍ የዛጉዌ ሥረወ መንግሥትን መሰረተ። የዛጉዌ ዋና ከተማ ሮሃ ወይም አዳፋ ይባላል። እሱም በሰሜን ወሎ

በላስታ አውራጃ ቡግና በመባል በሚታወቀው ቦታ ነው። የዛጉዌ ሥረወ መንግሥት ግዛት በስተሰሜን የቀድሞ አክሱም መንግሥት ግዛት፣ አብዛኛውን ክፍል ያካተተ ነው። በስተ ደቡብ ሰሜን ሸዋ፣ ወሎ (ሐይቅ አካባቢ) እና ሰሜን ምዕራብ ጎጃም ነበሩ። የዛጉዌ ነገስታት መንግስት የአክሱም መንግስት ስልጣኔ እና ሀይማኖትን አስቀጥለዋል።

የዛጉዌ መንግስት ምጣኔ ሀብት እንደ አክሱም መንግስታት በግብርናና ንግድ ላይ የተመሰረተ ነበር። የዛጉዌ ነገሥታት ከምሥራቅ ሜዲቴራንያን አካባቢ አገሮች ጋር የንግድና የባህል ትስስርም ነበራቸው። የዛጉዌ ነገሥታት እንደነ ገብረመስቀል፣ ይማነክርስቶስ፣ ሐርቤ፣ ላሊበላ እና ይተባረክ ተዋቂዎቹ ነበሩ። እነዚህ ነገሥታት አብያተ ክርስቲያናትን በማነጽ ይታወቃሉ። በተለይ ንጉሥ ላሊበላ (1181- 1221 ዓ.ም) አስራ አንድ ውቅር አብያተ ክርስቲያን ወጥ ከሆነ ድንጋይ አሰርቷል። ይህም አስራ አንድ የላሊበላ ውቅር አብያተ ክርስቲያናት በ1978 በአለም የቅርስ መዝገብ (UNESCO) ላይ ተመዝግቧል። እንዲሁም በአሁኑ ወቅት የቱሪዝም ማዕከል በመሆን እያገለገለ ነው።



ሥዕል. 6.1.2.(ሀ) የላሊበላ ውቅር አብያተ ክርስቲያ ዉስጥ አንዱ

ይሁን እንጂ በዛጉዌ የገዢ ቤተሰብ አባላት መካከል የነበረው የእርስበርስ ሽኩቻ ለዛጉዌ መንግሥት መውደቅ ዋነኛው ምክንያት ሆኗል ። በዛጉዌ ነገሥታት መካከል የሥልጣን ሽኩቻ ነበር። በ1270 ዓ.ም ተሰፋ ኢየሱስ የሚባል ሰው ይህንን አጋጣሚ በመጠቀም የመጨረሻውን የዛጉዌ ንጉስ ይትባረክን ድል አድርጎ ሥልጣኑን ተቆጣጠረ። ተሰፋ ኢየሱስ በሰሜን ሸዋ እና በአማራ ድጋፍ የዛግወዌን መንግስትን በመጣል ሥልጣን ሊይዝ ችሏል። ከዚህ በኋላ እራሱን ይኩኖአምላክ በሚል የንግስና ስም ንጉሥ በመሆን የሰለሞናዊ ሥርወ መንግሥትን መልሶ አቋቁሟል።

6.1.3. የጎንደር ከተማ

ጎንደር የተመሰረተችው በ1636 በንጉስ ፋሲለደስ ነው። ለረጅም ጊዜ ጎንደር ከተማ የአስተዳደር ማዕከል በመሆን እስከ 1850 ስታገለግል ቆይታለች። የጎንደር ነገስታት ጎንደርን የአስተዳደር ማዕከል በማድረግ ቤተመንግስት፣ ቤተክርስቲያኖችን እና የሹማምንቶችን ቤቶች ገንብተው ነበር። የጎንደር ስነ-ህንጻ ግንባታ ከአክሱምና ከላሊበላ ጋር ተመሳሳይነት ነበረው።



6.1.3.(ሀ) የንጉስ ፋሲለደስ ቤተ መንግስት

የጎንደር ስልጣኔ ከፍተኛ የዕድገት ደረጃ ላይ የደረሰው በንጉስ ፋሲለደስ (1632-1667)፣ ዮሐንስ(1632-1667) እና ቀዳማዊ ኢያሱ (1632-1667) ዘመን መንግስት ነው። በዚህ ዘመን ጎንደር በሀይማኖት ትምህርት ማዕከልነትና ቤተክርስቲያኖችን በማነጽ ትታወቅ ነበር። ጎንደር በስነ-

ሀንጻ ግንባታ ጥበብ ከምትታወቅበት ስልጣኔዎች ውስጥ አንዱ የፋሲለደስ ቤተ መንግስት አንዱ ነው። ይህ የፋሲለደስ ቤተመንግስት በ1979 ዓ.ም በአለም የቅርስ መዝገብ (UNESCO) ላይ ተመዝግቧል። እንዲሁም በአሁኑ ወቅት የቱሪዝም ማዕከል በመሆን እያገለገለ ነው።

የጎንደር ከተማ የተመሰረተችው ከሰሜን ኢትዮጵያ ወደ ደቡብ ኢትዮጵያ በሚወስደው የንግድ መስመር ላይ ነው። ከደቡብ ኢትዮጵያ ወደ መተማ፣ አድዋ እና ምዕዋ የሚወስዱት የንግድ መስመሮች ጎንደርን አቋርጠው ያልፋሉ። ጎንደር በዚህ የንግድ መስመር ላይ መመስረቷ የንግድ ማዕከል እንድትሆን አድርጏል።

የጎንደር ከተማ የተለያዩ ሀገር ዜጎች፣ የሀይማኖት ተከታዮች እና የተለያዩ ማንነት ያላቸው ሰዎች የሚኖሩባት ከተማ ነበረች። ከዚህም ውስጥ አንዱ የሙሰሊም ማህበረሰብ ሲሆኑ እነሱም በንግድ ስራ ላይ በመሰማራት ይታወቃሉ። ሌሎች ደግሞ ፈላጊዎች ሲሆኑ በሸክላ ስራ፣ በእንጨት ስራ እና በብረታ ብረት ስራ ይታወቃሉ።

ይሁን እንጂ ከጊዜ በኋላ ጎንደር የማህበራዊ፣ ፖለቲካዊ እና ኢኮኖሚያዊ ማዕከል ሆና ልትቀጥል አልቻለችም። ለዚህም ዋና ምክንያት የሆነው በጎንደር ነገስታት መካከል የተካሄደው የእርስበርስ የሥልጣን ሽኩቻና የጦር አበጋዞች እየጠነከሩ መምጣታቸው ነው። ይህ የሥልጣን ሽኩቻ በጎንደር ከተማ ሰላምና መረጋት እንደይኖር በማድረግ በ1850 ዎቹ የጎንደር መንግስት ሊንኮታኮት ችሏል።

መልመጃ 6:1

ለሚከተሉት ጥያቄዎች አጫጭር መልስ ስጥ/ጩ

1. ከአክሱም ሥልጣን ውጤቶች ውስጥ ሶስቱን ግለጽ/ጩ።
2. የአክሱም፣ የዛግዌ እና የጎንደር ምጣኔ ሀብት መሰረት ምንድነው?
3. የአክሱምና የዛግዌ መንግስት የንግድ ወደብ የሆኑትን በማነፃፀር ግለጽ/ጩ?
4. የአክሱም፣ የዛግዌ እና የጎንደር ማህበራዊና ፖሊቲካዊ ግንኙነት ግለጽ/ጩ?
5. ስለ ጎንደር ስልጣን አጀማመርና አወዳደቅ አብራራ/ሪ

6.2 የኢትዮጵያ የሙስሊም ሱልጣኔቶች

የሙስሊም ጥያቄዎች

1. ሱልጣኔት ማለት ምን ማለት ነው?
2. በኢትዮጵያ የሙስሊም ሱልጣኔቶች እንዴት እንደ ተመረቱ ግለጽ/ጩ?

ሱልጣኔት ማለት የአንድ አከባቢ የአስተዳደር ድንበር ሆኖ በሱልጣኖች የሚመራ ማለት ነው። የተለያዩ የታሪክ መረጃዎች እንደሚገልፁት ከ10ኛው ክፍለ ዘመን ጀምሮ የሙስሊም ሱልጣኔቶች በምስራቅ እና በደቡብ ምስራቅ ኢትዮጵያ በተለያዩ ጊዜ ተመስርተዋል። እነሱም ሸዋ፣ ኢፋት፣ ፈጣጋር፣ ዳዋሮ፣ ባሊ፣ የአዳል እና የመሳሰሉት የሙስሊም ሱልጣኔቶች ናቸው።

የሸዋ ሙስሊም ሱልጣኔ፤ የሸዋ ሙስሊም ሱልጣኔት ከኢትዮጵያ ሙስሊም ሱልጣኔቶች ውስጥ ቀዳሚው ነው። የሸዋ ሙስሊም ሱልጣኔትን ማክዙማይት በመባልም ይታወቃል። ከ10ኛው ክፍለ ዘመን ጀምሮ ማክዙሚ የሚባል ቤተሰብ ከአረቢያ አካባቢ በመፍለስ ወደ ሸዋ መጥተው የሸዋ ሙስሊም ሱልጣኔትን መስርተዋል። የሸዋ ሙስሊም ሱልጣኔት በአከባቢው ካሉት ሙስሊም ሱልጣኔቶች ጋር የተለያዩ ጦርነቶችን አካሄዷል። ካደረጉት ጦርነት ውስጥ አንዱ ከኢፋት ጋር ለረጅም ጊዜ ያካሄዱ ጦርነት ዋነኛው ነው። በመሆኑም በ13ኛው ክፍለ ዘመን የሸዋ ሙስሊም ሱልጣኔት በኢፋት በመሸነፍ የኢፋት አስዳደር ስር ወድቋል።

የኢፋትና አዳል ሙስሊም ሱልጣኔቶች፤ የኢፋትና የአዳል ሙስሊም ሱልጣኔቶች ታሪካዊ ትስስር ነበራቸው። የኢፋት ሱልጣኔት በ1285 ዓ.ም ኡመር ወላስማ በሚባለው ሱልጣን በምስራቅ ሸዋ ተመሰረተ። የዚህ ሱልጣኔት ስም ወላስማ በመባልም ይታወቅ ነበር። የኢፋት ሱልጣኔት በ13ኛውና በ14ኛው ክፍለ ዘመን በምስራቅ አፍሪካ ከሚገኙ ሱልጣኔቶች ሁሉ ጠንካራ ነበር።

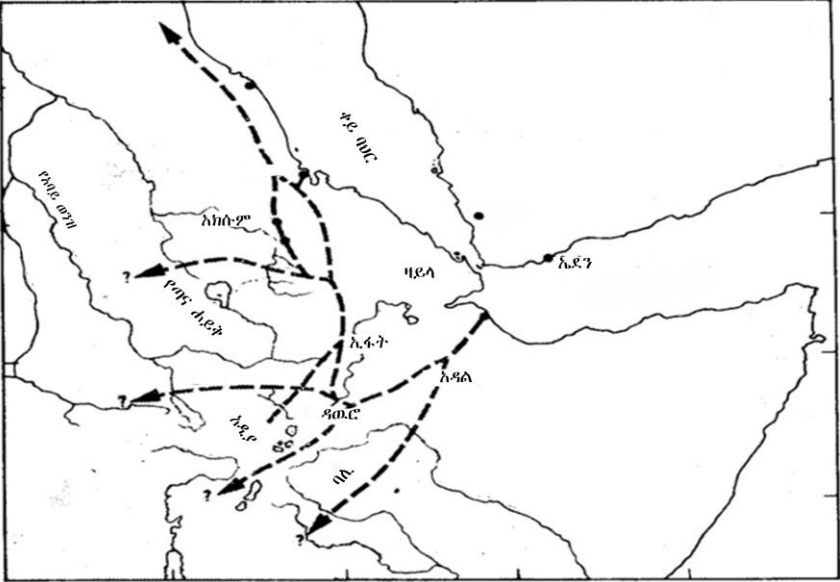
የኢፋት ሱልጣኔት ምጣኔ ሀብት ከዘይላ የንግድ መስመር አከባቢው ከሚገኙ ህዝቦች የሚሰበሰብ ቀረጥና ግብር ነበር። ይሁን እንጂ ግዛትን የማስፋፋትና የንግድ መሥመሮችን ዘይላን ጨምሮ የመቆጣጠር ፍላጎት በክርስትያን ነገሥታትና በኢፋት መካከል ጦርነት እንዲፈጥር አድርጓል። በዚህ ምክንያት ኢፋት የአስተዳደር ማዕከሉን ዳካር ወደ ተባለው የምስራቅ ኢትዮጵያ አከባቢ ካላወረ በኋላ በ15ኛው ክፍለ ዘመን መጨረሻ አከበቢ አዳል የሚባል የሙስሊም ሱልጣኔት መስርቷል።

የሰባተኛ ክፍል ሕብረተሰብ ትምህርት የተማሪዎች መጽሐፍ

የአዳል ሱልጣኔት፤ በኢትዮጵያ የክርስቲያን መንግስትና የሙስሊም ሱልጣኔቶች መካከል የነበረው ግጭት እየተካሄደ በመምጣቱ ፖርቹጋልና አቶማን ቱርኮች በቀጥታ በጦርነቱ ተሳትፈዋል። የእነዚህ የውጭ አገራት ጣልቃ ገብነትና ድብቅ ፍላጎትም የቀይ ባህር አከባቢ ያለውን የንግድ መስመር መቆጣጠር ነበር።

በ1529 በኢትዮጵያ የክርስቲያን መንግስትና በአዳል መካከል በተደረገው ጦርነት በአህመድ ኢብን ኢብረሂም አሊጋዚ (አህመድ ግራኝ) የሚመራ ጦር በአቶማኖች ድጋፍ ሽምብራ ኩሬ ጦርሜዳ ላይ የክርስቲያን መንግስት ጦር አሸንፏል።

በዚህ መሰረት ከ1529 እስከ 1543 የክርስቲያን መንግስትን አስተዳደር በመቆጣጠር የሙስሊም አስተዳደር የፖለቲካ የበላየነቱን ተረከቦ ነበር። ይሁን እንጂ የክርስቲያን መንግስት በንጉስ ገላውዲዎስ መሪነትና በፖርቹጋል እገዛ ሀይሉን በማጠናከር በ1543 በወይናደጋ ጦርሜዳ በማሸነፍ ስልጣኑን መልሶ ሊቆጣጠር ችሏል።



ካርታ 6.2 የኢትዮጵያ ሙስሊም ሱልጣኔቶች መስፋፋት

6.3 የህዝቦች ግንኙነት፣ ትስስር እና እንቅስቃሴ

የሙከራ ጥያቄዎች

1. የህዝቦች እንቅስቃሴና መሰፋፋት ማለት ምን ማለት ነው?
በቡድን ተውያዩበት።
2. የህዝቦች እንቅስቃሴ ምክንያቶች ምንድናቸው?
3. የህዝቦች እንቅስቃሴ ጥቅምና ጉዳዮች ምንድናቸው?

የአትዮጵያ ብሄር ብሔረሰቦችና ህዝቦች ከጊዜ ወደ ጊዜ ከአንድ ቦታ ወደ ሌላው ቦታ በተለያዩ ምክንያቶች እንቅስቃሴ አድርገዋል። በአትዮጵያ ከተደረጉት የህዝብ እንቅስቃሴዎች ዋና ዋናዎቹ የአፋር፣ የሀረሪ፣ አርጎባ፣ ሶማሌ እና የኦሮሞ ህዝብ እንቅስቃሴዎች ናቸው። ለህዝቦች እንቅስቃሴ ምክንያት የሆኑት ማህበራዊ፣ ፖሊቲካዊ፣ ምጣኔ ሀብታዊ እና የተፈጥሮ ችግሮች ናቸው። ህዝቦች ከአንድ ቦታ ወደ ሌላ ቦታ ያደረጉት እንቅስቃሴ የባህል፣ የሀይማኖት፣ የማህበራዊ ህይወትና የተለያዩ እሴቶች ትስስር እንዲኖራቸው አድርጓል።

6.3.1. የኦሮሞ ህዝብ እንቅስቃሴ

የኦሮሞ ሕዝብ እንቅስቃሴ በአጭር ጊዜ ውስጥ የተካሄደ አልነበረም። በ1522 ሁለቱ የኦሮሞ ፈደሬሽኖች፣ ቦረናና ባሬንቱ በሁለት አቅታጫ በመንቀሳቀስ በአሁኑ ጊዜ ወደ አሉበት አካባቢ መንቀሳቀስ ችለዋል። የቦረና ፈደሬሽን ወደ ደቡብ፣ ደቡብ ምዕራብ እና ምዕራብ አቅጣጫ በመንቀሳቀስ የአሁኑን ኦሮሚያ ዞኖች እንደ ቦረና፣ ጉጂ፣ ወለጋ፣ ኢሉአባቦር፣ ጂማ እና ሸዋ ሰፍረዋል። የባሬንቱ ፈደሬሽን ደግሞ ወደ ደቡብ ምስራቅና ምስራቅ እንቅስቃሴ አድርገዋል። በዚህ ሁኔታ የባሬንቱ ፈደሬሽን እንደ አርሲ፣ ሀረርጌ፣ ወሎ እና ባሌ አካባቢ ሰፈሩ።

በአጠቃላይ ሁለቱም ፈደሬሽኖች የሁለቱ ማዕከል (ጨፌ) ከሆነው መደ ወላቡ በቅርበትና ርቀው በመሄድ አዳዲስ ማዕከላትን መስርተዋል። እነሱም አዳ ነቤ፣ አዳ ቢሲል፣ አዳ ቡሉቅ እና አዳ ገራዶ የመሳሰሉት ናቸው። እነዚህ ዋና ዋና ማዕከላት የኦሮሞ ሕዝብ ባለበት አካባቢው የገዳ ስርዓትን እንዲያካሄዱ ትልቅ አሰተዋጽኦ አድርገዋል። ይሁን እንጂ በየስምንት አመቱ ከተለያዩ ማዕከላት አባላት መደ ወላቡ ላይ በመሰብሰብ የተለያዩ ህግና ደንቦችን በማውጣትና በማሻሻል ለዘመናት ወጥ በሆነ የገዳ ህግ ስተዳደሩ ቆይተዋል ።

የኦሮሞ ሕዝብ እንቅስቃሴ ሲጀምር የኦሮሞ ሕዝብ በገዳ ስርዓት በመደራጀታቸው ስኬታማ እንቅስቃሴ አድርገው ነበር። የገዳ ስርዓት አደረጃጀት ፖሊቲካዊ፣ ምጣኔ ሀብታዊ፣ ወታደራዊ፣ ሀይማኖታዊና ማህበራዊ አደረጃጀትን ያካትታል። ይህ አደረጃጀት የኦሮሞ ሕዝብ እንቅስቃሴ ባደረገበት ወቅት መልካም ስነ ምግባር እንዲሁም መልካም ስብእና እንዲኖረው አደርጎታል። ለምሳሌ በጦርነት ወቅት ሞጋሳንና ጉዲፈቻን በመጠቀም የሴቶችንና የህጻናትን ሰብአዊ መብት እንዲሁም ኦሮሞ ያልሆኑ ዜጎችን መብት ማክበር ናቸው።

የአሮሞ ገዳ ስርዓት

የሙከራ ጥያቄዎች

1. የገዳ ስርዓት ለአሮሞ ሕዝብ ምንድነው?
2. የገዳ ስርዓት አደረጃጀት ምን ምንን ያካትታል?
3. የገዳ ስርዓት አደረጃጀት እና አወቃቀር ላይ አጭር ውይይት አድርጉ::

የአሮሞ ገዳ ስርዓት ዴሞክራሲያዊ የአስተዳደር ስርዓት ነው:: እንዲሁም የተለያዩ አደረጃጀትና አወቃቀር ያቀፈ ነው:: በዚህ መሰረት የገዳ ስርዓት አደረጃጀት ፖሊቲካዊ ፣ኢኮኖሚያዊ ፣ወታደራዊ ፣ ሀይማኖታዊ እና ማህበራዊ አደረጃጀትን ያካትታል:: በገዳ ስርዓት ውስጥ ሁሉም ክንውኖች የአሮሞን ህዝብ ህግ፣ ደንብ፣ መመሪያ እና ቱፊት ጠብቆ ይከናወናሉ::



6.3 ሥዕል (ሀ) ከገዳ ስርዓት ውስጥ የምክክር ስርዓት

የሰባተኛ ክፍል ሕብረተሰብ ትምህርት የተማሪዎች መጽሐፍ

በተጨማሪም በገዳ ስርዓት ውስጥ በዴሞክራሲያዊና ሰላማዊ በሆነ መልኩ የስልጣን ሽግግር ይካሄዳል። በተጨማሪም በገዳ ስርዓት ውስጥ በእድሜ ታላቅነትና ታናሽነት የሚከበርበት እና የሚደጋገፍበት ሲሆን ሽማግሌዎች እና ምሁራን ደግሞ በኦሮሞ ህዝብ ዘንድ ትልቅ ቦታ አላቸው። የገዳ ስርዓት በ2016 ዓ.ም በአለም የቅርስ መዝገብ (UNESCO) ላይ ተመዝግቧል።

በአጠቃላይ የገዳ ስርዓት የሰው ልጅ ለኑሮው የሚያስፈልጉትን ነገሮች በውስጡ ያካተተ ነው።

የገዳ ስርዓት አደረጃጀትና መዋቅር

በገዳ ስርዓት ውስጥ የኦሮሞ ህዝብ በተለያዩ የገዳ አደረጃጀት ክፍሎች ውስጥ ያልፋሉ። እነሱም ደበሌ/ኢቲመኮ (0-8) ፣ ትንሹጋሜ (8-16) ፣ ትልቁ ጋሜ (17-24) ፣ ፎሌ/ኩሳ (25-32) ፣ ቆንዳላ/ራባ (32-40)፣ ገዳ/ሉባ(41-48)፣ 1ኛ ዩባ(49-56)፣ 2ኛ ዩባ(57-64)፣ 3ኛ ዩባ (65-72) እና 4ኛዩባ(73-80) ሲሆኑ እድሜያቸው ከ80 በላይ የሆኑት ደግሞ ጃርሳ ወይም ሽማግሌ ይባላሉ።

የገዳ ስርዓት አደረጃጀትና የስራ ድረሻ

ተ.ቁ	መጠሪያ ስም	የስራ ድረሻ
1	ደበሌ/ሱሉዳ/ኢ.ቲ.መኮ	• በመኖሪያ ቤት አካባቢ አነስተኛ ስራዎችን ይሰራሉ
2	ትንሹ ጋሜ/ሩቦ/ቀሬዱባ	• ከቤተሰብ ጋር በመሆን የተለያዩ ትምህርቶችን ይማራሉ ለምሳሌ እንደ ተረት ፣ ቀልዶች እና አባባሎች።
3	ትልቁ ጋሜ/ፎሌ/ጀማሪ ቀሬ/ ጎበመ...	• የተለያዩ ስልጠና በመውሰድ በህብረተሰቡ ውስጥ የስራ ድርሻ ወስዶ ይሰራሉ።
4	ኩሳ/ ቆንዳላ እና ራባ	• የገዳ መተዳደሪያ ህግና ደንብን በመማር በህብረተሰቡ ውስጥ ከፍተኛውን የስራ ድርሻ በመውሰድ ይሰራሉ።
5	ራባ-ዶሪ/ ሉባ...	• የተለያዩ ሀላፊነት ላይ ይሰማራሉ ለምሳሌ ህግ ማጥናት። በተጨማሪም የትዳር ጓደኛ ማጨት ወይም ማግባት ይችላሉ
6	ገዳ/ገደመ	• የኦሮሞን ህዝብ የማስተዳደር ሀላፊነት ይወሰዳሉ።
7-10	ዩቦ/ገደሞጂ ...	• እንደ ምክር ምርቃት እና ልምድ ይሰማሉ።

የገዳ ስርዓት ዴሞክራሲያዊ ስልጣን ሽግግር

የሙከራ ጥያቄዎች

1. የገዳ አስተዳደር ክፍሎች የስራ ድርሻ ልዩነትና ተመሳሳይነት ላይ ተወያዩ
2. በአካባቢያችሁ የሚገኘው የገዳ አስተዳደር(ፓርቲ) ክፍሎችን ቤተሰቦቻችሁን እና ሽማግሌዎችን በመጠየቅ ለክፍላችሁ ተማሪዎች አቅርቡ።

የገዳ ስርዓት ዲሞክራሲያዊ ስልጣን ሽግግር ከዘመን ቆጠራ ጋር ይያያዛል። እነሱም ቀን፣ ወር እና አመት ላይ የተመሰረተ ነው። በገዳ ስርዓት ህግ የተለያዩ ፓርቲዎች ወደ ስላጣን ከመጡ በኋላ ለስምንት አመታት ብቻ ያስተዳድራሉ። ከተለያዩ ፓርቲዎች ውስጥ ታዋቂ የሆኑ ሜልባ፣ ሙደና፣ ኪሎሌ፣ ቢፎሌ እና ሚቺሌ ናቸው። በዚህ መሰረት የገዳ ዲሞክራሲያዊ ስልጣን ሽግግር በየስምንት ስምንት አመታት ቆይታ ይከናወናል። በዚህም ጊዜ በገዳ ስርዓትና ደንብ መሰረት የሚሰናዱ ዝግጅቶችና በዓላትም አሉ። እነዚህ የገዳ ፓርቲዎች ከቦታ ቦታ የተለያዩ ስም አላቸው። በ6ኛ እና 7ኛ ክፍል ገዳ ትምህርት ውስጥ በሰፊ ስለተገለጸ ዝርዝሩን ከመጻፉ ላይ አንብቡት።

6.3.2 የገዳ ስርዓት አደረጃጀቶች (ተቋማት)

የሙከራ ጥያቄዎች

1. ሰለ ሲንቄ ምንነት እና ጥቅሙ ላይ በሰፊ ተወያይበት
2. የሞጋሳ እና ጉዲፋቻ ጥቅም ላይ በዝርዝር ተወያይበት

ከገዳ ስርዓት አደረጃጀቶች ውስጥ ታዋቂዎቹ የሲንቄ ስርዓት፣ የኢፌቻ ስርአት፣ የሙዳ ስርአት፣ ዋቄፈና፣ ጉዲፋቻ እና ሞጋሳ ስርቶች ናቸው። የሲንቄ ስርዓት የኦሮሞ ሴቶችን መብት የሚያስከብር ተቋም ነው።



ሥዕል 6.3 (ለ) የሲንቄ ስርዓት

ኢሬቻ የምስጋናና ሃይማኖታዊ በዓል ሲሆን በአመት ሁለቴ ይካሄዳል። የመጀመሪያው የክረምቱ ወራት እንዳለፉ በመስከረም ወር የሚከበር ሲሆን ቀጥለው የሚከበረው ደግሞ የበጋዎቹ ወራት እንደተጠናቀቁ በበልግ ወራት መጀመሪያ ላይ ነው።

የዋቁፊና ሀይማኖት ትምህርት ደግሞ መሰረት የሚያደርገው በአንድ ፈጣሪ ማመን የሚል እምነት ነው። የጉዲፋቻና ሞጋሳ ስርዓቶች አሮሞ እና አሮሞ ያልሆኑ ሰዎች ከአሮሞ ጋር የሚዛመዱበት ስርዓቶች ናቸው። የገዳ አስተዳደር የሚመራው በጨፌ አባላት ነው።



ሥዕል 6:3 (ሐ) የኢ.ሬቻ በዓል አከባበር

መልመጃ 6:3

ክፍል 1: የሚከተሉትን ዐረፍተ ነገሮች “እውነት” ወይም “ሐሰት”

በማለት መልስ/ሽ

1. የኢትዮጵያ ህዝቦች በተለያዩ መንገዶች ግንኙነት አላቸው።
2. ለህዝቦች እንቅስቃሴ ምክንያት ከሆኑት አንዱ የምጣኔ ሀብት ጫና ነው።
3. በመካከለኛው ዘመን ከተካሄዱት የህዝቦች እንቅስቃሴዎች ውስጥ በስፋት የተካሄደው የኦሮሞ ህዝብ እንቅስቃሴ ነው።
4. የኦሮሞ ገዳ ስርዓት የሰው ልጅ ስብአዊ መብቶችን የሚያስከብር ነው።
5. በኦሮሞ ገዳ ስርዓት ፖሊቲካዊ ፣ ምጣኔ ሃብታዊ እና ማህበራዊ ጉዳዮች የራሳቸው የሆነ ህግጋት አላቸው።

ክፍል II ለሚከተሉት ጥያቄዎች ከተሰጡት ምርጫዎች ውስጥ ትክክለኛ የሆነውን በመምረጥ መልስ/ሽ

1. በአሮሞ ገዳ ስርዓት የሴቶችን መብት በማስከበር የሚታወቀው የቱ ነው?

- ሀ. ሙዳ ለ. ቃሉ ሐ. ሲንቄ መ. ኢሬቻ

2. በአሮሞ ገዳ ስርዓት ውስጥ የማሰተዳደር ኃላፊነት የሚሰጠው በየትኛው የገዳ ክፍል ነው?

- ሀ. ኩሳ ለ. ቆንዳላ ሐ. ዩባ መ. ገዳ

3. ከሚከተሉት ውስጥ ልዩ የሆነው የቱ ነው

- ሀ. ሀርሙፋ ለ. ሮበሌ ሐ. ለባ መ. ሆረታ

4. በአሮሞ ገዳ ስርዓት ውስጥ ህጋዊ ዝምድናን የሚሰጥ የቱ ነው?

- ሀ. ዋቄፊና ለ. ስልጣን ማስተላለፍ ሐ. ሞጋሳ መ. ጂለ

6.4. የኢትዮጵያ ምጣኔ ሀብታዊ እንቅስቃሴዎች

(ግብርና፣ ንግድ እና ግብር)

ሀ. ግብርና

የሙከራ ጥያቄዎች

1. የግብርና ስራ ምንን ያካትታል?
2. የግብርና ስራ ጥቅሞች ምንድናቸው?
3. የግብርና ስራ እንዴት እንደሚከናወን በቡድን ተወያዩበት?

ግብርና የኢትዮጵያ ምጣኔ ሀብት መስረት ነው ። ከጥንት ዘመን ጀምሮ እስካሁን ድረስ የኢትዮጵያ መንግስታት ከግብርና በሚያገኙት ገቢ ምጣኔ ሀብታቸውን ሲያጠናክሩ ቆይተዋል። ግብርና የእንስሳት እርባታና ሰብል ማምረትን ያጠቃልላል። በዚህ መስረት የጥንታዊ አክሱምና ዛገቄ ነገሰታት ከግብርና በሚያገኙት ገቢ ምጣኔ ሀብታቸውን ሲያጠናክሩ ቆይተዋል። በኢትዮጵያ የሚታወቁ የሰብል አይነቶች

ገብስ፣ ዳጉሳ እና የቅባት እህሎች ናቸው። እነዚህ የግብርና ምርቶች ከምጣኔ ሐብት ውጭ ለጦር ኃይሎችና ለሕብረተሰቡ የምግብ ፍጆታ ይውላሉ።

ለ. ንግድ

የሙከራ ጥያቄዎች

1. የንግድ ስራ እንዴት ይካሄዳል?
2. የንግድ ስራ ለሀገር ምጣኔ ሀብት ዕድገት የሚያስገኘውን ጥቅም በመግለጽ ተወያይበት።
3. የሀገር ውስጥ ንግድናና ከሀገር ውጭ የሚደረጉ ንግድ አንድነት እና ልዩነታቸው ላይ በስፋት ተወያይ?

እንደ ግብርና ስራ ዘርፍ የንግድ ስራም ከጥንት ዘመን ጀምሮ እስካሁን ድረስ ለኢትዮጵያ መንግስታት የምጣኔ ሀብት መሰረት ሆኖ ቆይቷል። የተለያዩ መረጃዎች እደሚያመለክቱት የንግድ ስራ የገቢ ምንጭ ብቻ ሳይሆን ለከተሞች መቆርቆርና ለመንግስታት መቋቋም ትልቅ አሰተዋጽኦ አድርጓል። በዚህ መሰረት እንደ ኮሎኤ፣ መጠራ፣ የሃ፣ ሮሃ፣ አክሱምና ጎንደር ከተሞች መንግስታት ተቋቁመዋል።

ወደ ውጭ ሀገር የሚላኩ ጥሬ ዕቃዎች እንደ የዝሆን ጥርስ፣ የግብርና ምርቶች ውጤት፣ ወርቅ፣ የጉማሬ ቆዳ እና የሰጎን ላባ ናቸው። በሌላ በኩል ደግሞ እንደ የጦር መሳሪያዎች ፣ የአልኮል መጠጦች እና የተለያዩ ጌጣ ጌጦች ከውጭ ሀገር የሚገቡ ነበሩ።

ሐ. ግብር

የሙከራ ጥያቄዎች

1. ግብር ማለት ምን ማለት ነው?

2. ለሀገር ምጣኔ ሀብት ዕድገት ግብር የሚያስገኘው ጥቅም ምንድነው?

ከጥንት ዘመን ጀምሮ እስከአሁን ድረስ የኢትዮጵያ መንግስታት ከግብር በሚያገኙት ገቢ ምጣኔ ሀብታቸውን ሲያጠናክሩ ቆይተዋል። በዚህ መሰረት ከሀብረተሰቡ በተለያዩ መንገዶች ግብር ሲሰበሰብ ቆይተዋል። ከአርሶ አደሮች ላይ ግብር የሚሰበሰበው በምርት አይነት እና በገንዘብ ነበር። በሌላ በኩል ደግሞ ከነጋዴዎች የሚሰበሰብ በግብርና በቀረጥ መልክ ነበር። ይሁን እንጂ ይህ የግብር አሰባሰብ ስርዓት እንደ ዘመናዊው የግብር አሰባሰብ የተቀናጀ አልነበረም። ስለዚህም መንግስታት የሚፈለገውን የግብር መጠን መሰብሰብ አልቻሉም ነበር።

መልመጃ 6:4

ለሚከተሉት ጥያቄዎች አጫጭር መልስ ስጥ/ጩ

1. የንግድ ስራ ለሀገር ምጣኔ ሀብት ዕድገት የሚያስገኘውን ጥቅም አብራራ/ሪ
2. ግብር "ሰጥቶ መቀበል ነው" የሚባለው ለምንድነው?
3. ከንግድ ስራ የሚገኙ ውጤቶች ምንድናቸው?

ማጠቃለያ

በሰሜን ኢትዮጵያ ከተመሠረቱ የጥንት ስልጣኔዎች ውስጥ አክሱምና ዛጉዌ ተዋቂዎቹ ናቸው። የአክሱም መንግሥት ስልጣኔ ከ100 ዓ.ዓ እስከ 1150 ዓ.ም ቆይቷል። ነገር ግን የአክሱም የመጨረሻ ንጉስ የነበረው ድልናያድ በዛጉዌ በመሸነፍ የዛጉዌ ሥረወ መንግሥት ተቋቁሟል። ይሁን እንጂ በ1270 በተመሳሳይ ሁኔታ የኩኖአምላክን የመጨረሻውን የዛግዌ ንጉስ ይትባረክን ድል አድርጎ የሰለሞናዊ ሥርወ መንግሥትን መልሶ አቋቁሟል።

ከ10ኛው ክፍለ ዘመን ጀምሮ የሙስሊም ሱልጣኔቶች በምስራቅና ደቡብ ምስራቅ ኢትዮጵያ ተመስርተዋል። እነሱም ሸዋ፣ ኢፋት፣ ፈጣጋር፣ ዳዋር፣ ባሊ፣ አዳል እና ወ.ዘ.ተ ናቸው። ከ13ኛ እስከ በ16ኛው ክፍለ ዘመን ግዛትን ለማስፋፋት እና የንግድ መሥመሮችን ለመቆጣጠር ካላቸው ፍላጎት የተነሳ የሙስሊም ሱልጣኖች እና የክርስቲያን ነገሥታት የተለያዩ ጦርነቶችን አካሄደዋል።

ለረጅም ዘመናት የተደረገው የህዝቦች እንቅስቃሴና መሰፋፋት በመካከለኛው ክፍለ ዘመን ለጎነደርና የተለያዩ ከተሞች መመስረት ምክንያት ሆኗል። ህዝቦች ከአንድ ቦታ ወደ ሌላ ቦታ ያደረጉት እንቅስቃሴ የባህል፣ የሀይማኖት፣ የማህበራዊ ህይወት እና የተለያዩ እሴቶች ትስስር እንዲኖር አድርጓል። የኦሮሞ ገዳ ስርዓት ዲሞክራሲያዊ የአስተዳደር ስርዓት ፣ የተለያዩ አደራጃጅትና አወቃቀር አለው። በዚህ መሰረት የገዳ ስርዓት ፖሊቲካዊ፣ ምጣኔ ሀብታዊ፣ ወታደራዊ፣ ሀይማኖታዊ እና ማህበራዊ አደራጃጅቶችን የካትታል።

የምዕራፍ 6 ማጠቃለያ ጥያቄዎች፡

ክፍል I: የሚከተሉትን ዐረፍተ ነገሮች “እውነት” ወይም “ሐሰት”

በማለት መልስ/ሽ

1. የአክሱም ጥንታዊ ስልጣኔ በሰሜናዊ አትሎጵያ የተመሰረተ ነው።
2. የአክሱም ጥንታዊ ምጣኔ ሀብት የተመሰረተው በግብርናና በንግድ ስራ ላይ ነው።
3. የገዳ ስርዓት በ2016 ዓ.ም በአለም የቅርስ መዝገብ (UNESCO) ላይ ተመዝግቧል።
4. የዛጉዌ ሥረወ መንግሥትን ያቋቋመው ድልናኦድ ይባላል።
5. ለዛጉዌ ሥረወ መንግሥት መውደቅ ምክንያት ስልጣን ለመያዝ የተደረገው የእርሰር በእርስ ሽኩቻ ነው።
6. የህዝቦች ከቦታ ቦታ መንቀሳቀስ ጉዳት እንጂ ምንም ጥቅም የለውም።

ክፍል II. ለሚከተሉት ጥያቄዎች ከተሰጡት ምርጫዎች ውስጥ ትክክለኛ

የሆነውን በመምረጥ መልስ/ሽ

1. የጥንታዊ አክሱም ስልጣኔ የሚገልጽ የቱ ነው?

ሀ. የስነ- ፅሁፍ ስርአት	ሐ. የስነ- ህንፃ ግንባታ
ለ. የተለያዩ ሳንቲሞች	መ. ሁሉም መልስ ናቸው
2. ከሚከተሉት ውስጥ አንዱ የጥንታዊ አክሱም መንግስት የንግድ ወደብ ነው።

ሀ. ዘይላ	ለ. አዱሊሰ	ሐ. አሰብ	መ. ምጽዋ
--------	---------	--------	--------
3. ከአክሱም ነገስታት ውስጥ ሜሮኤን የተቆጣጠረው የቱ ነው?

ሀ. ካሌብ	ለ. ኢዛና	ሐ. ድልናኦድ	መ. ተክለአብ
--------	--------	----------	----------

4. ጥንታዊ የአክሱም ሳንቲሞች ከምን ከምን የተሰሩ ናቸው?
ሀ. ብር ለ.ነሃስ ሐ. ወርቅ መ. ሁሉም መልስ ናቸው
5. የሲንቄ ስርዓት ጥቅምን የሚገልጽ የቱነው?
ሀ. ንግድ ሐ. የሴቶችን መብት ማሰከበር
ለ. ሰላምን ማውረድ መ. ለ እና ሐ መልስ ናቸው
6. በምስራቅ አፍሪካ በተካሄዱት የህዝብ እንቅስቃሴዎች ዉስጥ ታዋቂ የሆነው የቱ ነው።
ሀ. የአፋር ለ. የአሮሞ ሐ. የሶማሌ መ. የአርጎባ

ክፍል III. ለሚከተሉት ጥያቄዎች አጫጭር መልስ ስጥ/ጩ

1. በገዳ ስርዓት ውስጥ በየስምንት ስምንት አመት በዴሞክራሲያዊና በሰላማዊ የስልጣን ሽግግር የሚካሄዱትን የገዳ ክፍሎች ስም ዘርዘር/ሪ
2. የአክሱምና የዛግዌ ስልጣኔን በማነፃፀር ጻፍ/ፈ?
3. የገዳ ስርዓት ምንነት ቤተሰቦቻችሁን፣ አባገዳዎችን እና ሽግግሎቻችን በመጠየቅ ለክፍላችሁ ተማሪዎች አቅርቡ።

ምዕራፍ 7

ትኩረት የሚሹ ወቅታዊ የዓለም ጉዳዮች

ከምዕራፉ የሚጠበቁ የመማር ውጤቶች

- የአካባቢ ዕንሰ ሀሳብ ትግልጻለህ/ሽ።
- የሰው ልጅ በአካባቢ ላይ የሚያደርሰውን ተፅዕኖ ትግልጻለህ/ሽ።
- በሀገርና በዓለም ደረጃ በተፈጥሮአዊ አካባቢ ላይ የሚደርሱ ትላልቅ ችግሮችን ትለያለህ/ሽ።
- በአካባቢ እንክብካቤና ጥበቃ ላይ ከማህበረሰቡ ጋር ትሳተፋለህ/ሽ።
- የህዝብ ቁጥር መጨመር በተፈጥሮ ሀብት ላይ የሚያደርሰውን ተፅዕኖ ትግልጻለህ/ሽ።
- የሽብርተኝነት ምንነት፣ በሰው ህይወት፣ በማህበራዊና እኮኖሚ ላይ የሚያደርሰውን ተፅዕኖ ትናገራለህ/ሽ።
- በህገ ወጥ ስደት ምክንያት፣ በኢኮኖሚ፣ ማህበራዊና ፖለቲካ ላይ የሚደርሰው ተፅዕኖ ምን እንደሆነ ትግልጻለህ/ሽ።

መግቢያ

ትኩረት የምሹ ወቅታዊ የዓለም ጉዳዮች ጋር ተያይዘው ከሚነሱ ነገሮች ውስጥ በምንኖርበት አካባቢ የሚገኙ እንደ ስነ-ምህጻርና የተፈጥሮ ሀብቶች ይገኛሉ። የተፈጥሮአዊ አካባቢ ዋና ዋና ችግሮች እንደ የአካባቢ ብክለት፣ የዓለም ሙቀት መጨመር፣ የአዘን መሳሳት፣ የተለያዩ ቆሻሻዎች፣ ሥነ-ህይወት ቁጥር ማነስና የመሳሰሉት ናቸው። እነዝህን ችግሮች ለመፍታት ልናተኩርባቸው የሚገቡ ጉዳዮች አካባቢን ማልማት፣ በባዶ መሬት ላይ ዕዕዋት መትከል፣ ደን የጠፋባቸውን ቦታዎች መልሶ ማልማት፣ ስለተፈጥሮ ሀብት ማህበረሰብን ማስተማርና የተፈጥሮ ሀብትን በቁጠባ መጠቀም የሚሉት ናቸው። በተጨማሪም ስለህዝብ ቁጥር መጨመር፣ ህገ ወጥ ስደትና የአሸባርነት ምንነት የሚሉት ይገኛሉ።

7.1. የምንኖርበት አካባቢ

ተማሪዎች ቢያንስ ሊደርሱበት የሚገባቸው የመማር ብቃት

- በአካባቢያችሁ የሚገኙ ነገሮችን ትዘረዝራለህ/ሽ፤
- በአካባቢያችሁ የሚገኙ ዋና ዋና ችግሮችን ትዘረዝራለህ/ሽ፤
- የሰው ልጅ በአካባቢ ላይ የሚያደርሰውን ተፅዕኖ ትገልጻለህ/ሽ፤
- የአካባቢ ችግሮች የሚፈቱባቸው መንገዶችን ትዘረዝራለህ/ሽ፤
- የአካባቢ ችግሮችን ለመፍታት የህብረተሰብ ተሳትፎ ያለው ጠቀሜታ ምን እንደሆነ ትገልጻለህ/ሽ፤
- በምትኖርበት አካባቢ፣ በአካባቢ ጥበቃና እንክብካቤ ላይ ተሳትፎ ታደርጋለህ/ሽ፤
- የህዝብ ቁጥር መጨመር በተፈጥሮ ሀብት ላይ የሚያደርሰው ጉዳት ምን እንደሆነ ትለያለህ/ሽ፤
- የሽብርተኝነት ምንነትና በሰው ህይወት፣ በኢኮኖሚና ማህበራዊ ዕድገት ላይ የሚያደርሰውን ተፅዕኖ ትገመግማለህ/ሽ፤

- ህገ ወጥ ስደት በኢኮኖሚ፣ ማህበራዊና ፖለቲካዊ ላይ የሚያደርሰውን ተፅዕኖ ትገልጻለህ/ሽ

7.1.1. የምንኖርበት አካባቢን ማወቅ

የግምገማ ጥያቄ

1. የምትኖርበት አካባቢ ወስጥ የሚገኙ ነገሮች ምን ምን ናቸው?
2. በምትኖርበት አካባቢ ያሉ ትላልቅ ችግሮች ምን ምን ናቸው?

የምንኖርበት አካባቢ ማለት ተፈጥሮአዊ አካባቢ ሆኖ ህይወት ያላቸውና የሌላቸው ነገሮች የሚኖሩበት ቦታ ማለት ነው። ህይወት ያላቸውና የሌላቸው ነገሮች ከተፈጥሮ አካባቢ ጋር ጠንካራና ቀጥተኛ የሆነ ግንኙነት አላቸው። በተፈጥሮ አካባቢ ወስጥ የሰው ልጆች ኑሮአቸውን ለማሻሻል ህይወት ባላቸውና በሌላቸው ነገሮች ላይ ከፍተኛ የሆነ ተፅዕኖ ያደርሳሉ። አካባቢ በሁለት ይከፈላል። እነሱም ተፈጥሮአዊና ሰው ሰራሽ አካባቢዎች ናቸው።

ተፈጥሮአዊ አካባቢ ማለት ህይወት ያላቸውና የሌላቸው ነገሮች በወስጡ የያዘ ሆኖ እነዝህም እንደ ወሃ፣ አየር፣ አፈር፣ ማዕድናት፣ እንስሳት እና ዕፅዋትን ያጠቃልላል።

ሰው ሰራሽ አካባቢ ማለት ደግሞ በሰው ልጆች ተሻሽለውና ተቀይረው የሚገኙ ናቸው። እነርሱም እንደ ቤት፣ መንገድ፣ ከተሞች፣ እርሻ ቦታዎች፣ እንዲሁም የመሳሰሉትን በወስጡ ይይዛል። በአካባቢ የሚገኙ ነገሮች ጠንካራ የሆነ ግንኙነት አላቸው። ይህም ማለት በአካባቢ የሚገኙ ነገሮች ሁሉ እርስ በርሳቸው ተደጋግፈው የሚገኙ ናቸው።

ለምሳሌ፡- በዕፅዋትና በአፈር መካካል ያለው ግንኙነት በሰው ልጅና በተፈጥሮ ሀብት መካከል ያሉትን ግንኙነቶች መጥቀስ ይቻላል። ስለዝህ የምንኖርበት አካባቢ በጣም ሰፊና ውስብስብ ነው። የምንኖርበት አካባቢ በደንብ ማወቅ ይጠበቅብናል። የሰው ልጅ ስለሚኖርበት አካባቢ በቂ እውቀት

ካለው በውስጥ የሚገኙ ነገሮችን ማወቅ ከቻለ የተፈጥሮ ሀብትን በአግባቡ መጠቀምና ማንከባከብ ይችላል።

7.1.2. የተፈጥሮ አካባቢ ትላልቅ ችግሮች

ዓለም በሰው ቁጥር መብዛት፣ ከፋብሪካዎች ከሚወጡ ጭስና በደን መጨፍጨፍ ምክንያት ለተለያዩ ችግሮች እየተጋለጠ ይገኛል። እነዝህ ችግሮች የአየር ብክለት፣ የዓለም ሙቀት መጨመር፣ የበረሃማነት መስፋፋት፣ ድርቅ፣ የንፁ ዉሃ እጦት፣ የሥነ-ህይወት ቁጥር ማነስ፣ የአዞን መሳሳትና የመሳሰሉት ናቸው።

ብክለት

ብክለት ማለት የአካባቢ መበክል፣ ጥሩ ያልሆነ ሽታ መኖር የሚታወቁ የአየር ሁኔታ ስቀየር ነው። በተፈጥሮ አካባቢ ውስጥ ልበክሉ የሚችሉ ነገሮች እንደ አየር፣ ወሃ፣ አፈርና የመሳሰሉት ናቸው።

የአየር ብክለት

የአየር ብክለት ማለት የአካባቢ አየር መቆሸሽ ማለት ነው። አየር በተፈጥሮ በውስጡ የነበራቸው ምንዘሮች ላይ የተለያዩ አዳድስ ነገሮች ስጨመሩበት ይበክላል። አየር በሁለት መንገድ ልበክል ይችላል። እነሱም በተፈጥሮና በሰው ተግባር ናቸው።

1. በተፈጥሮ አየርን የሚበክሉ ነገሮች

ሀ. የእሳተ ገሞራ ፍንዳታ፡- እሳተ ጎሞራ በሚፈነዳበት ወቅት እንደ ጭስ፣ አመድና አቧራ በብዛት ወደ አካባቢ አየር ስለሚቀላቀሉ የአካባቢ አየር ይበክላል።

ለ. ሰደድ እሳት፡- ዕዕዋት በተፈጥሮ እርስ በራሳቸው በሚፋተጉበት ጊዜ አልፎ አልፎ እሳት ልፈጠር ይችላል። በዝህ ሁኔታ የተፈጠረው እሳት

በሰፊ መሬት ላይ ያለውን ደን ልያጠፋ ይችላል። ከተቃጠለው ደን የሚወጣው ጭስ ወደ ከባቢ አየር በመቀላቀል አየርን ይበክላል።

2. የሰው ተግባር

ሰዎች የዕለት ኑሮአቸውን ለማከናወን የተለያዩ ተግባራትን ይፈፀማሉ። በተግባራቸው ውስጥ አየርን ልበክሉ የሚችሉ ነገሮችን ወደ አየር ይለቃሉ። ከእነዝህም ውስጥ ጥቅቶቹ ከፋብሪካና ተሽከርካሪዎች የሚወጣ ጭስ፣ የአረምና የፀረ-ተባይ መድሀኒቶች መጠቀም፣ ደኖችን ማቃጠል፣ ከመኖሪያ ቤት የሚወጣ ጭስና የመሳሰሉት ናቸው።



ሥዕል 7.1 የአየር ብክለት

በአካባቢያችን የሚገኝ ውሃ በተለያዩ የሰው ልጅ ተግባር ምክንያት ይበክላል። ከነዝህም ውስጥ ጥቅቶቹ፡-

- ከፋብሪካና ከመኖሪያ ቤት የሚወጣ ፈሳሽ፤
- በእርሻ መሬት ላይ ማዳበሪያን፣ ፀረ አረምና ፀረ ተባይን መጠቀም፤
- በውሃ ውስጥ የሚጣሉ የተለያዩ ቆሻሻዎችና የመሳሰሉት ናቸው።

የአለም ሙቀት መጨመር

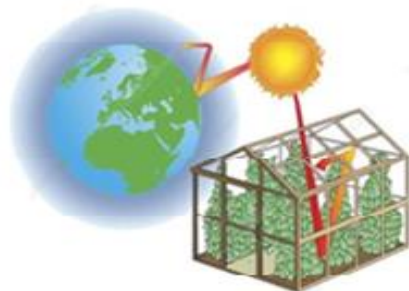
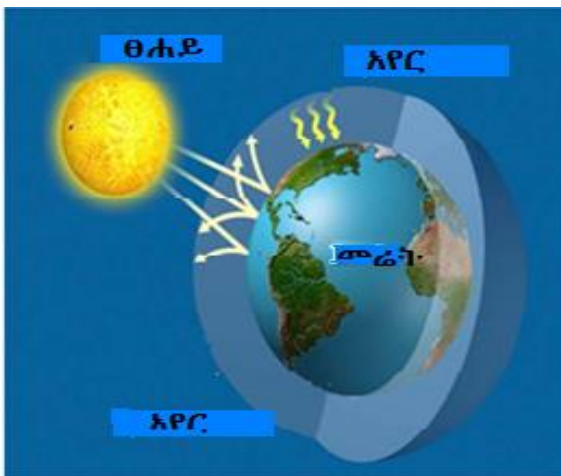
የአለም ሙቀት መጨመር የሚከሰተው ካርቦንዳይኦክሳይድ(CO₂) በተፈጥሮ ከነበረበት በላይ በአካባቢ አየር ውስጥ ስከማች ነው። በተፈጥሮ የሚገኘው ካርቦንዳይኦክሳይድ በመሬት ላይ ያለውን ሙቀት ያስተካክላል ወይም መሬት በጣም እንዳትቀዘቅዝ ያደርጋል። ነገር ግን በተለያዩ ምክንያቶች የካርቦንዳይኦክሳይድ መጠን በተፈጥሮ ከሚገኘው በላይ ሆኖ አየር ውስጥ ስከማች የአለም ሙቀት እየጨመረ ይሄዳል። ይህ ህደት የአለም ሙቀት

የሰባተኛ ክፍል ሕብረተሰብ ትምህርት የተማሪዎች መጽሐፍ

መጨመር (Green house effect) ይባላል። ለምሳሌ CO_2 በእጥፍ ቢጨምር የአለም ሙቀት ከ $1^{\circ}C-3^{\circ}C$ ልጨምር ይችላል። ይህ ደግሞ በአለም ላይ ትልቅ ችግር ያስከትላል። ለምሳሌ፡- በአየር መዛባት ምክንያት በዋልታዎች አካባቢ የሚገኙ በረዶዎች መቅለጥ፣ የወቅያኖስና የባህር ውሃ መጠን እንድንጨምር ያደርጋል። ከከባቢ አየር ጋር በመቀላቀል የአለም ሙቀት እንድንጨምር የሚያደርጉ ነገሮች ከመኖርያ ቤትና ከፋብርካዎች የሚወጣ ጭስና ፈሳሽ ነገሮች፣ ከተቃጠሉ ደን የሚወጣ ጭስ ናቸው። የአለም ሙቀት እንድንጨምር የሚያደርጉ ጋሶች መጠናቸው እንደምከተለው በሰንጠረዥ ቀረበዋል።

ስም	ወካይ	በከባቢ አየር ውስጥ ያላቸው ፐርሰንት
ካርቦን ዳይኦክሳይድ	CO_2	55 %
ሚቴን	CH_4	15%
ናይትራኦክሳይድ	N_2O CLFC	5%
ክሎሮ-ፍሎሮ-ካርቦን	CFC	25%

ሠንጠረዥ 7.1. የዓለም ሙቀት መጨመር ምክንያት የሆኑ ገሶች



ሥዕል 7.2 የዓለም ሙቀት መጨመር

የአዞን መሳሳት

አዞን (O₃) በከባቢ አየር ውስጥ ከሚገኙ ይዘቶች አንዱ ነው። የሚንኖርበት መሬት የከባቢ አየር ንብርብር ትሮፖስፌር ይባላል። የአዞን ጋስ የሚገኘው በእስትራቶስፌር ንብርብር ውስጥ ነው። በአለም ሙቀት መጨመር ምክንያት የሚሆነው የአዞን መሳሳት ነው። የአዞን መሳሳት ደግሞ መርዛማ የሆነው አልትራቫዎሌት ጨረር እየሾለከ ወደ ምድር እንድመጣ ያደርጋል። የአልትራቫዎሌት ጨረር ወደ መሬት መድረስ ደግሞ ህይወት ባላቸው ነገሮች ላይ ከፍተኛ የሆነ ጉዳት ያደርሳል።

የተለያዩ ቆሻሻዎች

ቆሻሻ ማለት የተለያዩ የማያስፈልጉ ነገሮች እንደ የቤት ጥራጊዎች፣ የምግብ፣ ወረቀቶች፣ ጨርቆች፣ የዱረ እንስሳት አጥንቶች፣ የተለያዩ የግንባታ መሳርያዎች፣ የተለያዩ የብረት ስብርባሪዎችና የመሳሰሉት ናቸው። ብዙ-ህይወት ማነስ ማለት በዓለም ወይም በመሬት ላይ ህይወት ያላቸው ዝራያዎች ቁጥር እያነሰ መሄድ ማለት ነው። ይህም የሆነው የዕዕዋትና የእንስሳት ዝራያዎች መጥፋት ነው። ህይወት ያላቸው ነገሮች መጥፋት ምክንያት የሆነው አንደኛው ዝራያዎች ሌሎች ዝራያዎችን በመውረር፣ ሰዎች ከመጠን በላይ በተፈጥሮ ሀብት መጠቀም፣ የአየር መቀያየርና የመሳሰሉት ናቸው።

7.1.3. አካባቢን መንከባከብ

የግምገማ ጥያቄዎች

1. የአካባቢ እንክብካቤ ማለት ምን ማለት ነው?
2. አንተ/እኛ የሚትኖርበት /ሪበት ማህበረሰብ አካባቢያቸውን እንዴት ይንከባከባሉ?

እንክብካቤ ማለት በተፈጥሮ አካባቢ ውስጥ ለሚገኙ ነገሮች አስፈላጊ ጥበቃና እንክብካቤ ማድረግ ማለት ነው። ዋና ዓላማውም በተፈጥሮ የሚገኙ

የተፈጥሮ ሀብቶችን በቁጠባና በአግባብ መጠቀምና ለረጅም ጊዜ በማቆየት ለብዙ ሰዎች አግልግሎት እንድሰጡና ለቀጣይ ትውልድ እንድተላለፍ ማድረግ ነው። የአካባቢ ማህበረሰብ በሚከተሉት ዘዴዎች የተፈጥሮ አካባቢን መንከባከብ ያስፈልጋል።

ባዶ ቦታዎችን በደን መሸፈን፤ በደን መሸፈን ማለት ለእረሻ ሥራና ለሌሎች አገልግሎቶች የማይወሉ ቦታዎችን እንደ ተራራዎች፣ ገደላማ ቦታዎች፣ ዕዕዋት የሌለባቸው በዶ ቦታዎች ላይ ዕዕዋቶችን በመትከል ወደ ደን መቀየር ማለት ነው።

መልሰዉ መትከል፡- ደኖች ተጨፍጭፈዉ የጠፋባቸዉን ቦታዎች ዕዕዋትን መልሰዉ በመትከልና በመንከባከብ ተመልሰዉ ደን እንድሆን ማድረግ ማለት ነዉ። ይህም አፈር በቀላሉ በዉሃ እንዳይሸረሸር ለዱር እንስሳት መኖሪያነትና የአየር ንብረት ሚዛን ለመጠበቅ ያገለግላል።

ማህበረሰብን ማስተማር፤ መንግስታዊና መንግስተዊ ያልሆኑ ድርጅቶች የተለያዩ ዕቅዶችን በማዘጋጀት ለማህበረሰቡ ግንዛቤ መስጠት አለባቸው። የተለያዩ የመገናኛ ብዙሃን አማካይነት የተለያዩ ስልጠናዎችን በመፍጠር፣ በትምህርት ቤቶች በኩልና በተለያዩ መንገዶች በማስተማር የማህበረሰብን ግንዛቤ ማሳደግ ያስፈልጋል።

በተፈጥሮ ሀብት የአጠቃቀም ዘዴ

የተፈጥሮ ሀብት እንዳይባክን በሶስት የተለያዩ ዘዴዎች መጠቀም እንችላለን።

1. በቁጠባ መጠቀም ፡-የተፈጥሮ ሀብትን የሚያስፈልጉትን ብቻ ሳናባክን በቁጠባ መጠቀምና ለቀጣይ ትውልድ እንድተላለፍ መድረግ። ለምሳሌ፡-የማይታደሱ የተፈጥሮ ሀብቶች እንደ ማዕድናት፣ የተፈጥሮ ጋስና የመሳሰሉትን በቁጠባ መጠቀም ነዉ።
2. እንደገና መጠቀም፡- አንድ ጊዜ የተጠቀምንባቸውን ሀብቶችን እንዳይበላሹ በመጠገን እንደገና አግልግሎት እንድሰጡ ማድረግ ነዉ። ለምሳሌ

የደኖችን ብክነት ለመቀነስ ለቤትና ለቢሮ የሚያገለግሉ ዕቃዎችን መልሰን በመጠገንና በማደስ አገልግሎት እንድሰጡ ማድረግ ነው።

- 3. መልሰው መጠቀም፡- የተጣሉ ዕቃዎችን በአድስ መልክ አሻሽሎ በመስራት አገልግሎት እንድሰጡ ማድረግ ነው። ዋና አላማው የተጣሉ ዕቃዎችን መልሰን በማደስ አገልግሎት እንድሰጡ በማድረግ ጥሬ ዕቃዎች እንዳይባክኑ ማድረግ ነው።

መልመጃ 7.1

ለሚከተሉት ጥያቄዎች አጭር መልስ ሰጥ/ጫ

- 1. የሰው ልጅ በአከባቢው ላይ ምን ዓይነት ጉዳት ልያደርስ ይችላል?
- 2. በአከባቢያችሁ የተፈጥሮ ሀብትን የሚበክሉ ነገሮች ምን ምን ናቸው?
- 3. የምትኖርነት አከባቢ እንዳይበክል የሚጠበቅብህ/ሽ ድርሻ ምንድነው?
- 4. የአለም ሙቀት መጨመር እንዴት ይከሰታል?
- 5. የተፈጥሮ ሀብትን በቁጠባ በመጠቀም ለቀጣይ ትውልድ እንድተላለፍ ምን ማድረግ አለበት?

7.2. የህዝብ ቁጥር መጨመር

የግምገማ ጥያቄዎች

- 1. የህዝብ ቁጥር መጨመር ማለት ምን ማለት ነው?
- 2. በህዝብ ቁጥር መጨመር ምክንያት የሚመጡ ችግሮች ምን ምን ናቸው?

የህዝብ ቁጥር መጨመር ማለት በአንድ በተወሰነ አከባቢ የሚኖሩ የሰዎች ቁጥር ከሚፈለገው በላይ መጨመር ማለት ነው። ይህ ችግር ደግሞ በተፈጥሮ ሀብት ላይ ከፍተኛ የሆነ ጉዳት ያደርሳል። የህዝብ ቁጥርና የተፈጥሮ ሀብት አለመመጣጠን የተፈጥሮ ሀብት ብክለት ያስከትላል። ለምሳሌ የደን መጨፍጨፍ፣ የአፈር መሸርሸር፣ ማዕድናትን ከመጠን በላይ መጠቀምና የመሳሰሉት ናቸው።

7.3. ሽብርተኝነት

የግምገማ ጥያቄዎች

1. ሽብርተኝነት ማለት ምን ማለት ነው?

ሀ/ ሽብርተኝነት የሚያመጣው ጉዳት ምንድን ነው?

ለ/ ሽብርተኝነትን ለመከላከል የማህበረሰቡ ድርሻ ምን ልሆን ይችላል?

ሽብርተኝነት ማለት በማህበረሰቡ ላይ የሚፈፀም አስጠያፊ ተግባር ሆኖ በአሁኑ ሰዓት የአለም ህዝብ እያስጨነቀ ያለ ጉዳይ ነው። ሽብርተኝነት የማህበረሰቡ እሴትና የህግ ተቃራኒ ሆኖ ህዝብን የሚጎዳ ነው። በአሁኑ ሰዓት በአለም ላይ ሽብርተኝነትን ፖለቲካዊ ስልጣንን ለማግኘት ይጠቀሙበታል። ይሁን እንጂ ዋና ዓላማቸው ብዙ ሀብትን በማከማቸት በአጭር ጊዜ ውስጥ መበልፀግ ነው።

የቅርብ ጊዜ ትውስታ የሆነው ከ2001 ዓ.ም ጀምሮ ሽብርተኝነት በግለሰቦችና ማህበራዊ ተቋማት ላይ ትኩረት በማድረግ ብዙ ጥፋቶችን ስፈፅም ቆይቷል። ለምሳሌ እንደ አወሮፓ አቆጣጠር መስከረም 19/2001 ዓ.ም በሰሜን አሜሪካ የሚገኘው የአለም የንግድ ማዕከል የተደረመሰው በሽብርተኞች ድርግት ነው።



ሥዕል 7.3 በሽብርተኞች የአለም ንግድ ማዕከል ላይ የደረሰው ጉዳት በዓለም የንግድ ማዕከል ላይ ጥፋት ከደረሰ በኋላ በተለያዩ ሀገሮች ላይ የሽብርተኝነት ተግባር እየተፈፀመ ይገኛል። ሽብርተኞች ብዙውን ጊዜ

ለማጥፋት ትኩረት የሚያደርጉት በማህበራዊ ተቋማት እንደ ትምህርት ቤት፣ የገበያ ማዕከል፣ መዝናኛ ቦታዎችና የመሳሰሉት ላይ ነው። በጎረቤት ሀገር በኬንያና በሶማሊያ የሽብር ተግባራት በተደጋጋሚ ሲፈፀሙ ይታያል። ስለዝህ ሽብርተኝነትን መዋጋት የሁሉም ዜጎች ግዴታ ነው። ምሳሌ በትምህርት ቤት አካባቢ ዜጎች ችሎታን፣ አመለካከትን፣ ብቃትና ሙያን ለመማር መሆን አለበት። ዜጎች ሙያዊና አስተዳደራዊ ብቃትን የሚያጎለብቱበት ቦታ መሆን አለበት። በተጨማርም የሃይማኖት ተቋማትና የማህበረሰብ እሴቶች ዜጎችን አብሮ የመኖር፣ የጋራ ሰላም፣ የሰው ልጅ እኩልነትና ግልፀኝነት ላይ በተከታታይ ማስተማርና ማስገንዘብ አለበት። ዜጎች የባህል፣ የሃይማኖት፣ የቋንቋ፣ የአመለካከትና የመሳሰሉት ልዩነት እንዳላቸው እርስ በራሳቸው አውቀው በመረዳዳትና በመቻቻል አብሮ መኖር አለባቸው። በአጠቃላይ የአለም ህዝብ በተለያዩ ማህበራዊ ጉዳዮች የተሳሰሩ መሆናቸውንና ልዩነቶች መኖራቸውን በመረዳት ለጋራ ሰላም የመቆም ግዴታ አለባቸው።

መልመጃ 2.7

ለሚከተሉት ጥያቄዎች አጭር መልስ ሰጥ/ጩ

1. ሽብርተኝነትን ለመከላከል ዜጎች ልወጡ ከሚገቡ ተግባራት ውስጥ ሦስቱን ያፍ/ፊ?
2. ሀገሮች ሽብርተኝነትን ለመከላከል ምን ማድረግ አለባቸው?

7.4. ህገ-ወጥ የሰዎች ዝውውር

የግምገማ ጥያቄዎች

1. ህገ-ወጥ የሰዎች ዝውውር የሚያስከትለው ጉዳት ዘርዘር/ሪ?
2. በህገ-ወጥ ደላሎች ከሀገር መውጣት የሚያስከትለው ጉዳት ላይ ተወያዩ? ህገ-ወጥ የሰዎች ዝውውር ማለት ሰዎችን በማታለል፣ በመዋሸት በማፈንና በተለያዩ መንገዶች የተለያዩ ሰዎችን በመሰብሰብ የግል ጥቅም ለማግኘት በህገ-ወጥ መንገድ ከቦታ ቦታ፣ ከሀገር ሀገር በመዘዋወር ዘመናዊ የባሪያ

ንግድ ማካሄድ ነው። በአሁኑ ጊዜ ሰዎችን ከቦታ ቦታ በህገ-ወጥ መንገድ ማዘዋወር ትኩረት ከሚሹ ከዓለም ጉዳዮች ውስጥ ዋነኛው ችግር ሆኑዋል። በብዙ ሀገሮች ውስጥ ይህ ተግባር በተለያዩ መንገዶች ከፍተኛ ችግር አድርጏል። በተለይ በማደግ ላይ ባሉ ሀገሮች ውስጥ የሚኖሩ ማህበረሰብ ከፍተኛ ጉዳት ደርሶበታል። ለህገ- ወጥ የሰዎች ዝውውር እየተጋለጡ ያሉ የማህበረሰብ ክፍሎች ወጣቶችና ህፃናት ናቸው። በተለይ በሴቶችና በህፃናት ላይ በጣም የከፋ ነው። በህገ-ወጥ ሰዎችን የሚያዘዋውሩ ደላሎች በቂ ግንዛቤ የሌላቸው የገጠሩን ማህበረሰብ በማታለል ለዝህ ችግር እንድጋለጡ ያደርጋሉ። እነዝህ ደላሎች የሚጠቀሙበት ዘዴዎች ሠራተኛና አሰሪ አገናኝ በማለት ሰዎችን ለተሻለ የሥራ ዕድልና ክፍያ እንደሚያገኙ በማስመሰል ከገጠሩ ማህበረሰብ በመሰብሰብ ለሌሎች አካላት አሳልፎ ይሰጣሉ። እንደዝሁም ከሀገር በማወጣት ለሌሎች ሀገሮች አሳልፈው ይሰጣሉ። በዝህ ሁኔታ ከሀገራቸው የወጡ ሰዎች ብዙ ችግር ይደርስባቸዋል። እነዝህም ችግሮች ከአካል ጉዳት እስከ ህይወት ማጣት ናቸው። በህገ-ወጥ መንገድ ከቦታ ቦታ የሚዘዋወሩ ሰዎች ከሚደርስባቸው ጉዳዮች ውስጥ ጥቅቶቹ፡-

- ሥራን በግዳጅ ማሰራት
- ከአቅም በላይ የሆነ ሥራን ማሰራት
- ጉዳት ልያደርሱ የሚችሉ ሥራዎችን ማሰራት
- በተለያዩ ወንጀሎች ላይ በግድ እንድሳተፉ ማድረግ
- በህፃናት ላይ ጉዳት በማድረስና እንድለምኑ ማድረግ
- በማስገደድ በወስባዊ ሥራ ላይ እንድሰማሩ ማድረግ
- የጉልበት ብዝበዛና ዝቅተኛ ክፍያ እንድያገኙ ማድረግ
- ህፃናት የመማርና የወደ ፍት ዕጣ ፋንታቸውን ለመወሰን ዕድል ማጣትና የመሳሰሉት ናቸው።

ህገ-ወጥ የሰዎች ዝውውር በአለም ደረጃ እንድቆም በወጣው ህግ መሠረት የኢትዮጵያ ፌዴራላዊ ዲሞክራሲያዊ ሪፑብሊክ (እፌድሪ) ህገ መንግስት

አንቀፅ 18/2 ላይ ወታደራዊ ስለገዘህ ዜጎችን ከእንደገዘህ ዓይነት ህገ-ወጥ ተግባር ለመጠበቅ ለህብረተሰቡ ግንዛቤ መፍጠር ያስፈልጋል ።

መልመጃ 7.3

ለሚከተሉት ጥያቄዎች አጭር መልስ ሰጥ/ጩ

1. ህገ-ወጥ የሰዎች ዝውውር ምን ምን ጉዳዮችን ያደርሳል?
2. ለህገ-ወጥ የሰዎች ዝውውር የተጋለጡ የማህበረሰብ ክፍሎችን ዘረዘር /ሪ?
3. በህገ-ወጥ መንገድ ሰዎችን የሚያዘዋውሩ ደላላዎች ማለት ምን ማለት ነው?
4. በህገ-ወጥ መንገድ ሰዎችን የሚያዘዋውሩ ደላሎች የሚጠቀሙት ዘዴዎች ምን ምን ናቸው?

የምዕራፉ ማጠቃለያ

- የምንኖርበት አካባቢ ማለት የሰው ልጅ፣ እንስሳትና ዕዕዋት የሚኖሩበት ቦታ ሆኖ ለሁለት ይካፈላል። እነሱም፡- ተፈጥሮአዊና ሰው ሰራሽ አካባቢዎች ናቸው።
- የተፈጥሮ አካባቢ የሚያጠቃልለው ወሃ፣ አየር፣ አፈር፣ ማዕድናት፣ እዕዋትና እንስሳትን ናቸው።
- ሰው ሰራሽ አካባቢዎች የሚገኙት ደግሞ ትምህርት ቤት፣ መንገድ፣ ከተማ፣ የእርሻ መሬት፣ እንዲሁም የመሳሰሉትን ያጠቃልላል።
- የሚንኖርበት አካባቢ ህይወት ላላቸው ነገሮች ለመኖሪያነትና ለምግብነት ከፍተኛ ድርሻ አለው። ስለገዘህ ሁሉም ሰዎች አካባቢን መጠበቅና ማንከባከብ ያስፈልጋል።
- በአሁኑ ጊዜ የተፈጥሮ አካባቢ ለአየር ብክለት፣ ለአለም ሙቀት መጨመር፣ ለአዞን መሳሳት፣ የተለያዩ ቆሻሻዎች፣ ብዙ-ህይወት ማነስና ለመሳሰሉት ችግሮች የተጋለጡ ናቸው። ለእነዚህ ችግሮች ምክንያት የሆኑ ደግሞ የህዝብ ቁጥር መጨመር፣ ከፋ-ብሪካዎችና ከሞተሮች የሚወጣው ጭስና የደን

የሰባተኛ ክፍል ሕብረተሰብ ትምህርት የተማሪዎች መጽሐፍ

መጨፍጨፍ ዋና ዋናዎቹ ናቸው። ከላይ የተጠቀሱ ችግሮችን ለመቀነስ ህብረተሰብን ማስተማርና እፅዋትን መልሶ በመትከል የተፈጥሮ ሀብቶችን በቁጠባና በጥንቃቄ መጠቀም ወሳኝ ተግባራት ናቸው።

- በአሁኑ ጊዜ የአለም ወሳኝ ወቅታዊ ችግሮች የሚባሉት ሽብርታኝነትና ህገ-ወጥ የሰዎች ዝውውር ናቸው።
- ሽብርታኝነት በህብረተሰቡ ውስጥ ጭንቀትንና ፍራቻን በመፍጠር የማህበረሰቡ የአኗኗር ሁኔታን ሰላምና ፀጥታን እንድያጣ በማድረግ የህዝቦችን ኑሮ ማወክ ነው።

የምዕራፍ 7 መልመጃ

ክፍል 1. የሚከተሉትን ጥያቄዎች ትክክል የሆነውን እውነት ትክክል ያልሆነውን ሐሰት በማለት መልስ/ሽ

1. የምንኖርበት አካባቢ ህይወት ያላቸውንና የሌላቸውን በሙሉ የያዘ ነው።
2. ሰዎች በህገ-ወጥ መንገድ ከኢትዮጵያ የሚወጣበት ምክንያት ስለሚቸገሩ ብቻ ነው።
3. የሚንኖረበት አካባቢ በደንብ ማወቅ የሚያስፈልገን አካባቢዎችን በአገባቡ እንድናከባክበው እንድረዳን ነው።
4. ሽብርታኝነት በአሁኑ ጊዜ በአለም ላይ ወቅታዊና አሳሳቢ ችግር አይደለም።

ክፍል II. በ“ለ” ሥር የተዘረዘሩትን በ“ሀ” ሥር ከተዘረዘሩት ጋር አዛምድ/ጂ.

- | <u>ሀ</u> | <u>ለ</u> |
|----------------------------|------------------------------------|
| 1. ከአቅም በላይ አሣን ማስገር | ሀ. አዞን |
| 2. የአለት-ራሻዮሌት ጨረርን ይከላከላል | ለ. ካርቦን ዳይኦክሳይድ (CO ₂) |
| 3. ሙቀትን የሚጨምር ጋዝ ማነስ | ሐ. ህይወት ያላቸው ቁጥር |
| 4. በተፈጥሮ ከባቢ አየርን የምበክል | መ. እሳተ ጎሞራ |
| 5. በሰው ተግባር ከባቢ አየርን የምበክል | ሠ. ደን ማቃጠል |

ክፍል III. ለሚከተሉት ጥያቄዎች ትክክለኛውን መልስ በመምረጥ ያፍ/ፊ

- በተፈትሮ አካባቢ አየርን የምበክለው የቱ ነው?

ሀ. የቤት ዉስጥ እሳት	ለ. የሰደድ እሳት
ሐ. ከከተማ የሚወጣ ጭስ	መ. ከፋብርካ የሚወጣ ጭስ
- ከባቢ አየርን የምበክል ሰው ሰራሽ የሆነ የቱ ነው?

ሀ. አበባ	ለ. እሳተ ጎሞራ	ሐ. ከከተማ የሚወጣ ጭስ	መ. የሰደድ እሳት
--------	------------	-----------------	-------------
- ለአለም ሙቀት መጨመር ምክንያት የሆነው ጋዝ የቱ ነው?

ሀ. ካርቦን ዳይኦክሳይድ (CO ₂)	ሐ. አዞን
ለ. አክሲን (O ₂)	መ. ናይትሮጅን